






**ВСЕРОССИЙСКАЯ ОЛИМПИАДА ШКОЛЬНИКОВ ПО ОСНОВАМ БЕЗОПАСНОСТИ
 ЖИЗНЕДЕЯТЕЛЬНОСТИ
 (ШКОЛЬНЫЙ ЭТАП)**

ТЕОРЕТИЧЕСКИЙ ТУР

Критерии и методика оценки
 младшая возрастная группа (5-6 классы)

Задание 1. Укажите стрелками соответствие между названием дорожного знака и его изображением.

		Дорога для автомобилей
		Автомостраль
		Место остановки трамвая
		Конец жилой зоны
		Надземный пешеходный переход

Оценка задания. Максимальная оценка за правильно выполненное задание – 15 баллов, при этом:

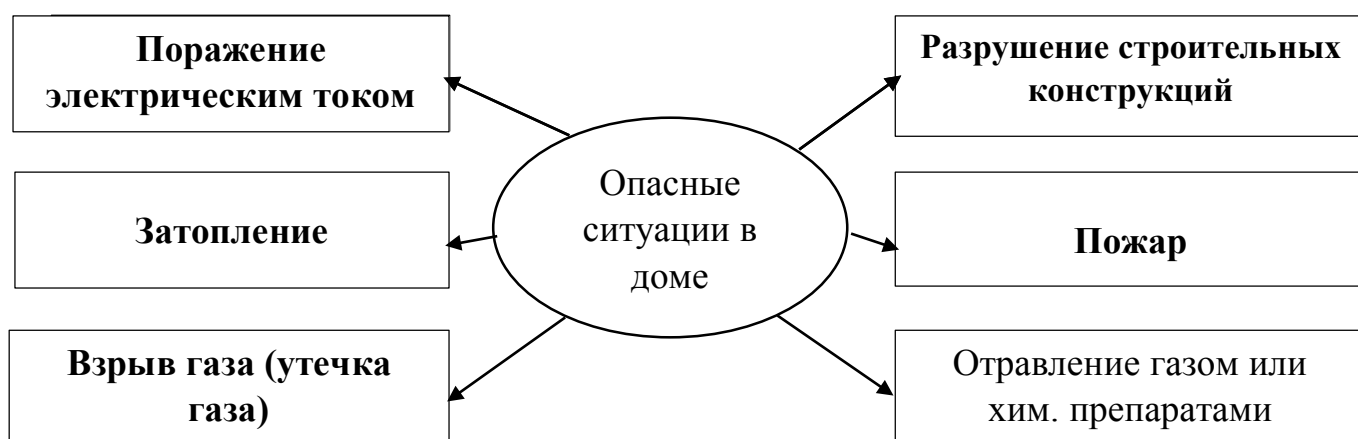
- за каждое правильно указанное соответствие начисляется по 3 балла;
- при отсутствии правильных ответов баллы не начисляются.



1



Задание 2. Составьте схему «Опасные ситуации в доме».



Оценка задания. Максимальная оценка за правильно выполненное задание – 15 баллов, при этом:

- за каждую правильную указанную позицию начисляется по 3 балла;
- при отсутствии правильных ответов баллы не начисляются.

Задание 3. Покупая билеты на поезд, Вы хотите приобрести билет на наиболее безопасное место. Какие места в вагоне являются наиболее безопасными? Выберите правильные ответы.

- 1. места в центральных вагонах**
2. места в первом или последнем вагонах
- 3. места на нижних полках**
4. места на верхних полках
- 5. места в купе с аварийным выходом**
6. места, расположенные лицом по ходу движения
- 7. места, расположенные спиной по ходу движения**

Ответ 1357

Оценка задания. Максимальная оценка за правильно выполненное задание – 12 баллов, при этом:

- за каждую верно указанный ответ начисляется по 3 балла;
- при отсутствии правильных ответов баллы не начисляются.



Задание 4. На рисунках в таблице показаны три действия, которые в обязательном порядке необходимо провести при оказании первой помощи пострадавшему. Как они называются?

	<p>Проверить наличие сознания</p>
	<p>Проверить наличие дыхания</p>
	<p>Проверить пульс на сонной артерии (наличие сердечной деятельности)</p>
	<p>Вызвать скорую медицинскую помощь по номеру 103 или 112</p>

Оценка задания. Максимальная оценка за правильно выполненное задание – 12 баллов, при этом:

- за каждую верно указанный ответ начисляется по 4 балла;
- при отсутствии правильных ответов баллы не начисляются.



Задание 5. Весной Вы отправляетесь в лес. Какие меры предосторожности предпримете, чтобы не пострадать от укуса клеща? Заполните таблицу.

Защита от клещей

Прививка от заболеваний, переносчиками которых являются клещи	Открытые участки тела нужно обработать репеллентом от клеща	Одеться так, чтобы не дать возможности клещу заползти под одежду	После прогулки по лесу, нужно проводить само- и взаимоосмотры
---	---	--	---

Оценка задания. Максимальная оценка за правильно выполненное задание – 6 баллов, при этом:

- за каждую верно указанный ответ начисляется по 2 балла;
- при отсутствии правильных ответов баллы не начисляются.



ТЕСТОВЫЕ ЗАДАНИЯ

Определите один правильный ответ
За каждый правильный ответ начисляется по 2 балла.

1. Выберите, пульс в состоянии покоя у детей?

- а) 11 лет – 75-82, 12 лет – 72-80, 13 лет – 78-81;
- б) 11 лет – 78-81, 12 лет 75-82, 13 лет – 72-80;
- в) 11 лет – 72-75, 12 лет 75-81, 13 лет – 78-80.

2. Какое упражнение, подходит для тренировки дыхательной системы?

- а) объятия;
- б) качели;
- в) скалолаз.

3. Какие продукты являются источниками белка?

- а) рыба, мясо;
- б) фрукты;
- в) хлебобулочные изделия.

4. Выберите, правильное соотношение белков, жиров и углеводов.

- а) 1:1:6;
- б) 1:1:8;
- в) 1:1:4.

5. Выберите из перечисленного «медленные» углеводы?

- а) банан, хлеб, печенье, газировка;
- б) чипсы, сок, хлеб, мед;
- в) кукуруза, макароны из твердых сортов пшеницы, огурец, черный хлеб.

6. Непрерывное пребывание за компьютером не должно превышать?

- а) 30 мин;
- б) 20 мин;
- в) 40 мин.



7. Признаки отравления бытовым газом?

- а) резкие ощущения сонливости, тошнота, рвота, ощущения удушья;
- б) температура, рвота, боли в животе, тошнота;
- в) температура, ощущения удушья, боли в животе, тошнота.

8. В каком году впервые были приняты правила дорожного движения?

- а) 1925;
- б) 1930;
- в) 1920.

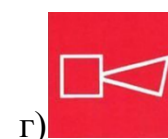
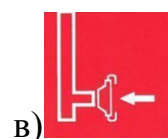

9. Как называются пересечение и соединение дорог?

- а) перекрестки;
- б) переходы;
- в) развилки.

10. Что из перечисленного относится к признакам сотрясения мозга?

- а) нарушение координации движений, температура, гематома, тошнота;
- б) резкая головная боль, рвота, тошнота, кружится голова, двоится в глазах;
- в) тошнота, рвота, боль в ключице, двоится в глазах, температура.

11 Какой знак обозначает «Кнопку включения систем пожарной автоматики»?



12 Как называется угол между направлением на север и направлением на любой предмет?

- а) биссектриса;
- б) обратный азимут;
- в) азимут.

13 Если вы стоите лицом к Полярной звезде, где будет находиться север, юг, запад, восток?

- а) север – впереди, юг – за спиной, запад – слева, восток – справа;



б) север- за спиной, юг – впереди, запад – слева, восток- справа;

в) север- впереди, юг – за спиной, запад – справа, восток – слева.

14 По каким местным приметам можно определить стороны света:

а) стволам и коре деревьев, лишайнику и мху, склонам холмов и бугров, муравейникам, таянию снега;

б) кустарнику и сухой траве, направлению течения ручьев и рек, наезженной колее;

в) полыньям на водоемах, скорости ветра, направлению комлей валяющихся на дороге спиленных деревьев.

15. Стороны света можно определить по:

а) манометру;

б) компасу;

в) термометру.


16. Признаки укуса сначала не выразительны. На коже образуется едва заметная ранка. Однако через несколько минут (не более 15-20 минут) в месте укуса может появиться припухлость, покраснение, болезненность, зуд на коже, слизистое выделение из носа и глаз, температура тела может повыситься. Возможно появление сыпи по всему телу, появляется головная боль. Эти признаки укуса характерны для:

а) домашних животных;

б) змей;

в) насекомых.

17. Выберите из предложенных картинок след от укуса неядовитой змеи?



18. В какой период дня клещи наиболее активны?

а) утром и вечером;



olympmo.ru



@olymp_mo



/olympmo



/olympmo



@olympmo

- б) ночью и днем;
 в) всегда.

19. Две причины вызывающие судорогу (неконтролируемое сокращение мышц, сопровождающееся острой болью)

- а) резкая смена температуры окружающей среды и резкие движения;
 б) удар и резкие движения;
 в) болезни, сопровождающиеся нарушением свертываемости крови, такие как гемофилия.

20. Какие требования предъявляются к подбору рюкзака для несложного и немногодневного похода?

- а) рюкзак подростка: объем 130 литров, вес не превышает 50 кг, жесткая спинка, разгрузочный пояс не менее 10 см, ткань плотная, влагонепроницаемая;
 б) рюкзак подростка: объем 60л , вес не превышает 15 кг, жесткая спинка, разгрузочный пояс не менее 10 см, ткань плотная, влагонепроницаемая;
 в) рюкзак подростка: объем 60 л, вес не превышает 30 кг, мягкая спинка, разгрузочный пояс не менее 10 см, ткань плотная, влагонепроницаемая.

Таблица ответов:

Номер тестового задания	Верный ответ	Номер тестового задания	Верный ответ
1	б	11	а
2	а	12	в
3	а	13	а
4	в	14	а
5	в	15	б
6	б	16	в
7	а	17	е
8	в	18	а
9	а	19	а
10	а	20	б

