

ВТОРОЙ ТУР 9 класс
Максимальная оценка – 100 баллов
Время на подготовку – 3 часа.

- 1. [10 баллов].** В средневековом праве социальный статус человека нередко определялся тяжестью судебного наказания за его убийство. Перед вами 12 социальных категорий населения Древней Руси по «Русской Правде». Распределите их по 4 группам в зависимости от величины виры и заполните таблицу.

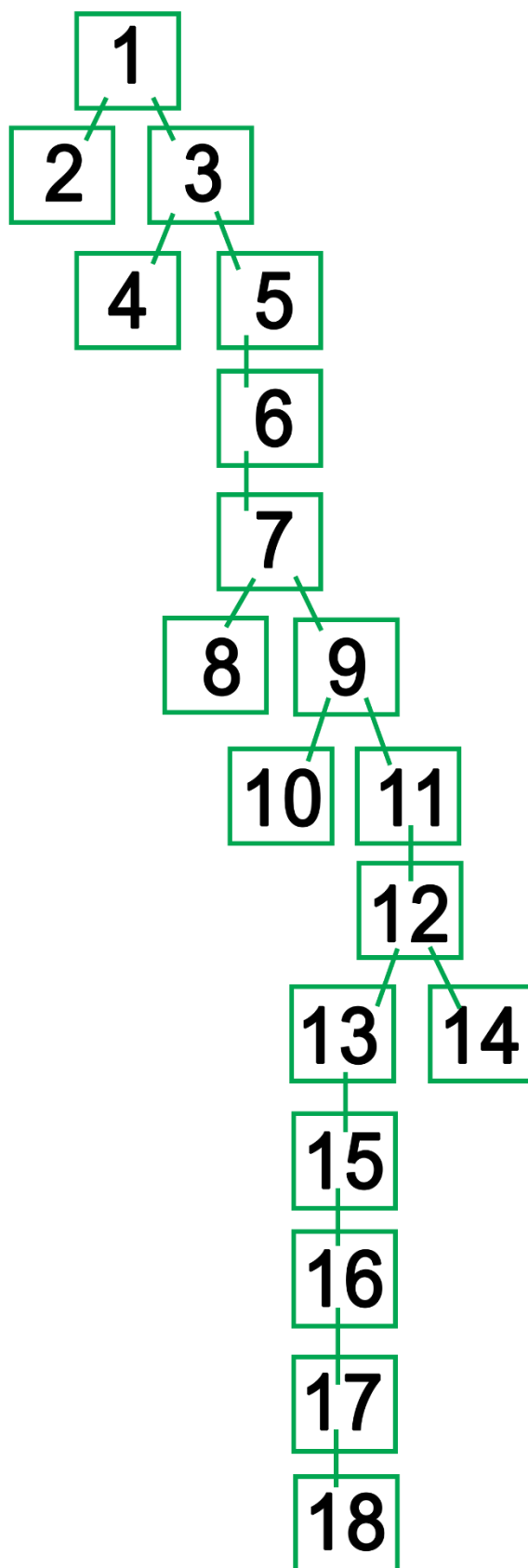
Список социальных категорий:

1. Боярский тиун
2. Гридин
3. Княжеская кормилица
4. Княжеский или боярский рядович
5. Княжеский конюший
6. Княжеский огнищанин
7. Княжеский ремесленник
8. Княжеский сельский тиун
9. Княжеский тиун
10. «Русин» или «словенин»
11. Смерд
12. Холоп

2. [8 баллов]

Перед вами 8 изображений памятников русской культуры, каждый из которых хронологически соотносится с одним из правителей, представленных в династической схеме. При этом два изображения соответствуют первому и последнему правителям в предложенной династической схеме. Изучите представленные материалы и заполните таблицу.

Династическая схема.



А



Б



В



Г




Д



Е





3. [10 баллов]. Верны ли следующие утверждения:

1. В течение XVI-XVII вв. русские войска ни разу не брали ни одну из столиц Польско-Литовского государства
2. На протяжении XVI-XVIII вв. Рига была взята русскими войсками только один раз и впоследствии никогда не переходила под иностранный контроль
3. Последним русским городом, который был взят войсками Речи Посполитой на протяжении XVI-XVII вв., был Смоленск.
4. Владислав Ваза никогда не бывал восточнее Смоленской земли.
5. На протяжении XVI-XVII вв. между Россией и Польшей было заключено всего два мирных договора, причем только один из них был ратифицирован польским сеймом.
6. В течение XVI-XVII вв. польский сейм неоднократно рассматривал возможность избрания русских царей на польский престол.
7. Некоторые территории во второй половине XVII вв. принадлежали, на основе мирных договоров или перемирий между этими державами, последовательно Польше, Турции и России (именно в этом порядке).
8. В XVI-XVII вв. Москва ни разу не осаждалась войсками Речи Посполитой.
9. В титуле русского царя одно время присутствовал титул «Великий князь Литовский», а в титуле польского короля – «Великий князь Московский».
10. Ни один из людей, которые были гетманами Левобережья на протяжении 1669-1708 гг., не закончил жизнь на территории современной Украины.

4. [10 баллов]. Перед вами 10 графиков, отображающих социально-демографические процессы, проходившие в России во второй половине XVII – начале XX в. Внимательно изучите их и заполните таблицу.

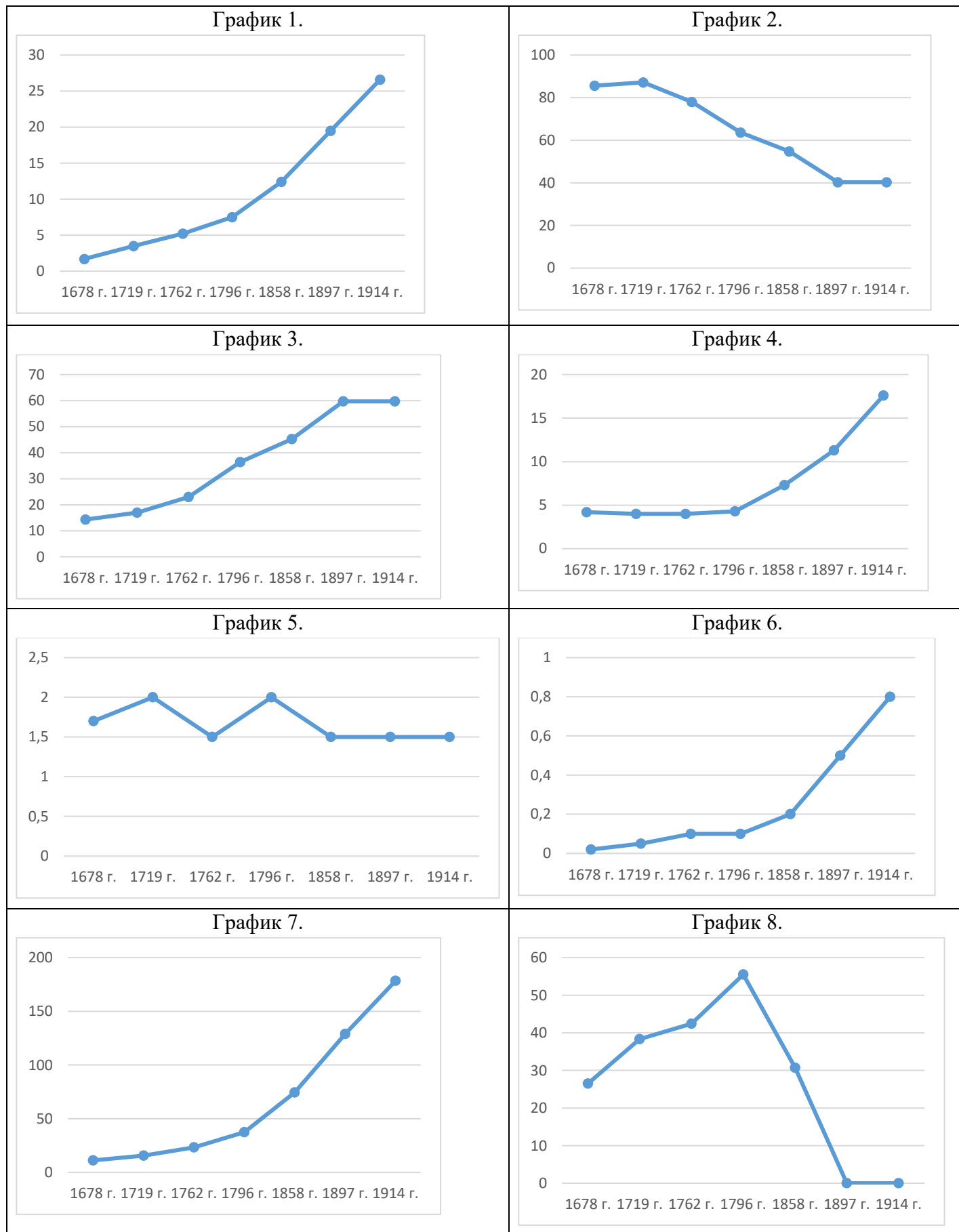


График 9.

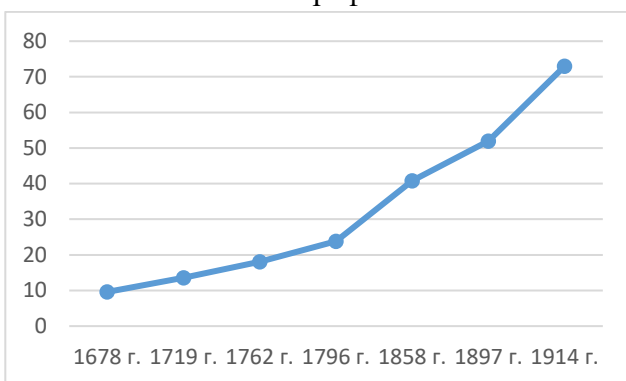
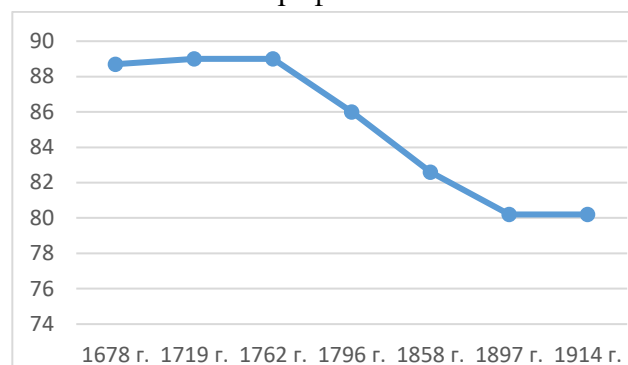


График 10.



5. [10 баллов] Перед вами текст с пропусками. Внимательно изучите его и заполните таблицу.

Все крестьянские дела были сосредоточены сперва в (1), а (2) был назначен начальником нового (3) отделения... (2) заявил, что ему неудобно заведовать этим делом от лица государя, пока оно в то же время подведомственно министру финансов (4), который, будучи занят другими делами, не может уделять крестьянскому вопросу много времени. В результате учреждено было новое самостоятельное ведомство – (5), которому передано было заведование всеми имениями, лесами и горными заводами, находившимися в (6) собственности... Новое министерство было открыто в (7) г. Хотя (2) получил собственно управление (8) крестьянами, он не переставал фактически быть «начальником штаба по крестьянской части», как его называл (9), и в общем его участие в разработке всего крестьянского вопроса было весьма значительно... В 1839 был образован новый секретный комитет, и хотя он более скромно очертил свою задачу, но в результате его работ явилось новое «Положение об (10) крестьянах», вышедшее в (11) г. Конечно, это Положение само по себе дало немного, потому что слишком боялись затронуть интересы и права дворян. Крестьяне, устроенные таким образом, попадали в положение, близкое к положению крестьян в (12) крае в 1804–1805 гг.

6. [10 баллов] Перед вами портреты пяти наиболее известных русских композиторов XIX века и изображения постановок семи опер этих композиторов, подобранные таким образом, что два композитора представлены двумя операми, а три – одной. Определите, кто эти композиторы и заполните Таблицу 1 на бланке ответов, а затем соотнесите их портреты с изображениями постановок и заполните Таблицу 2 на бланке ответов, используя сведения о литературной (сюжетной) основе представленных опер.


Портреты композиторов



А



Б



В



Г



Д

Изображения эпизодов постановок опер

1



2



3



4



5



9

6

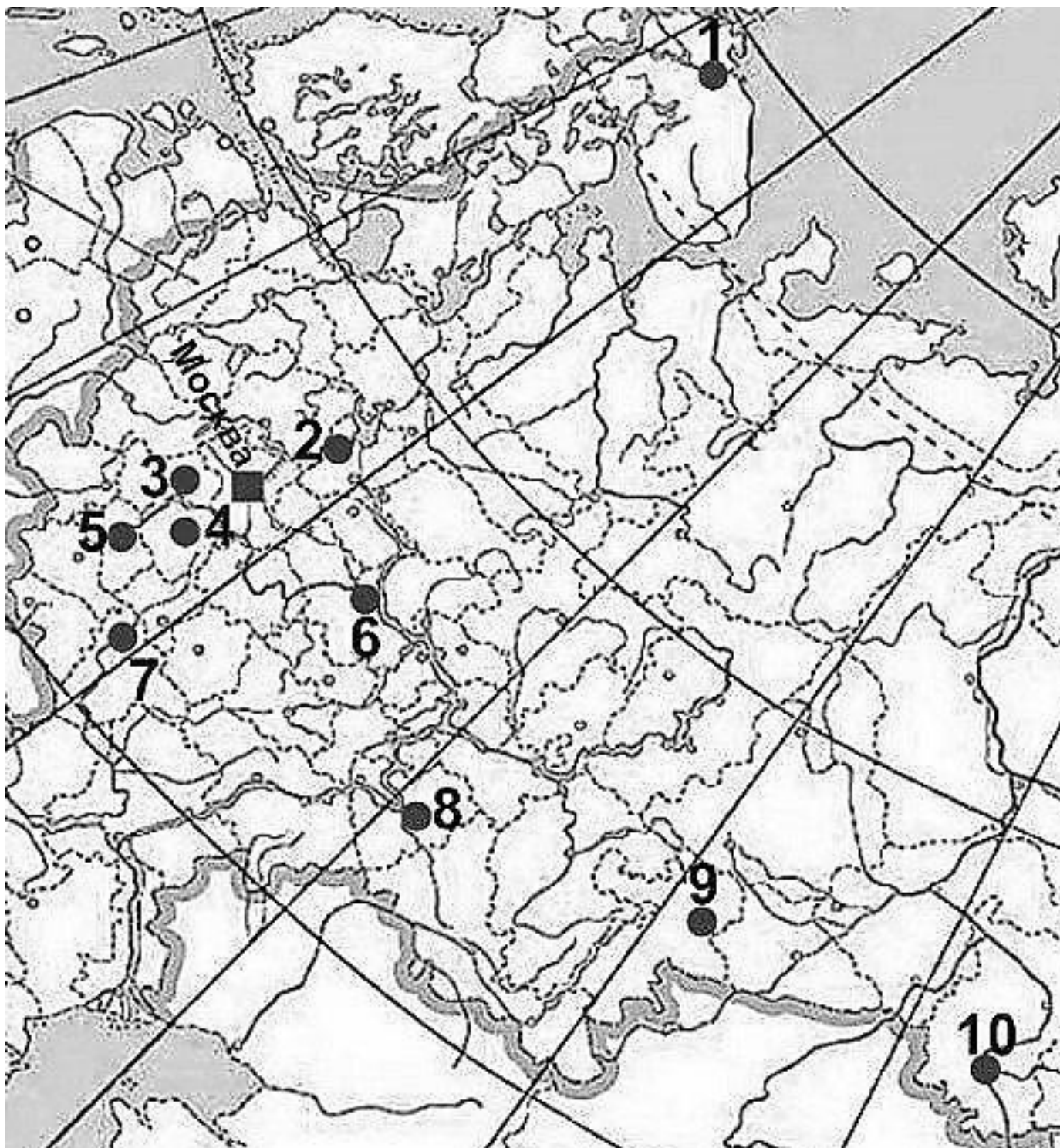


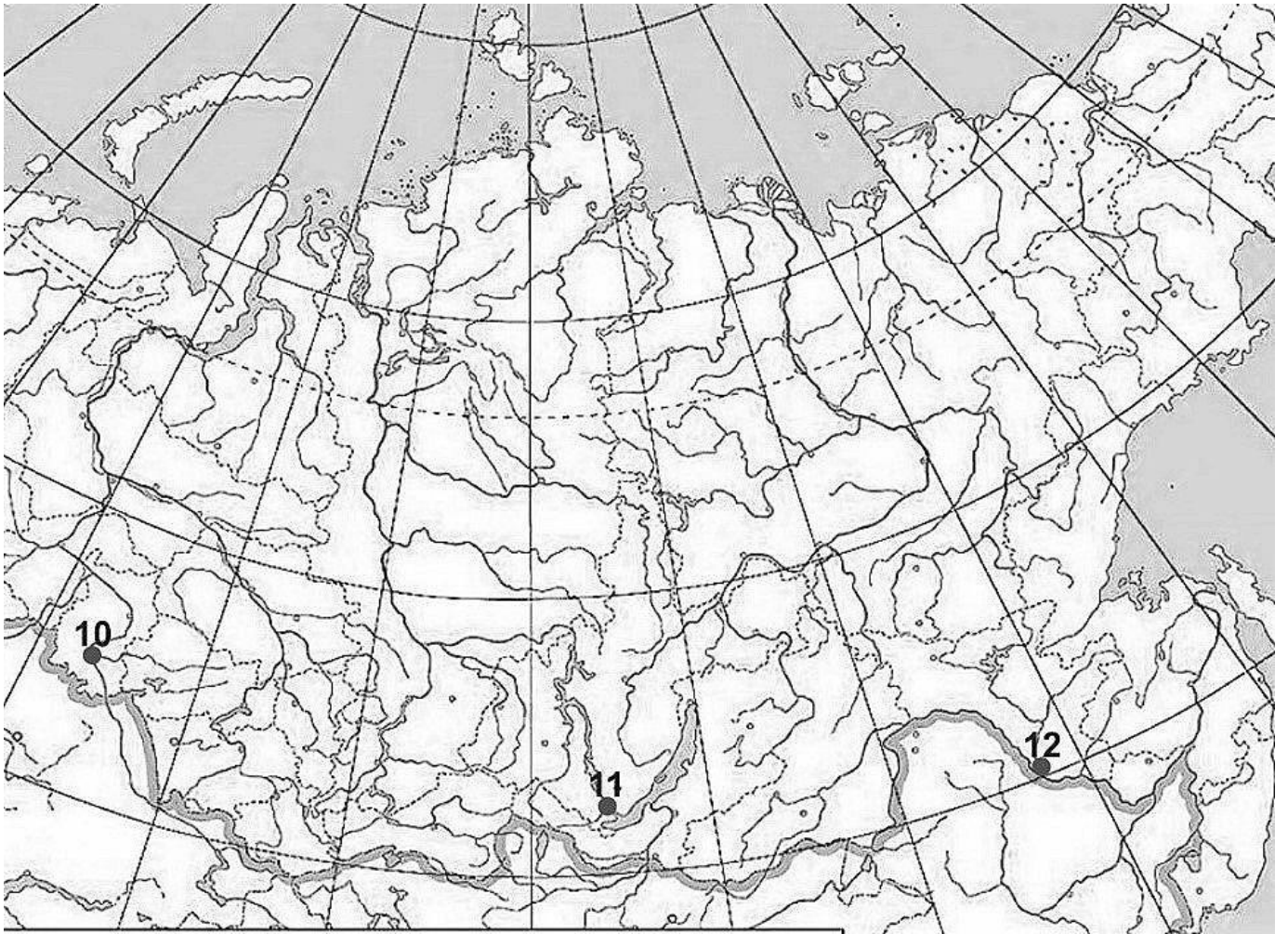
7



7. [12 баллов]. В 2021 году целый ряд городов Российской Федерации будут праздновать юбилейные и памятные даты. Перед вами карты, на которых отмечены эти города, фрагменты описаний этих городов конца XIX – начала XX вв. и их фотографии того же времени. Изучите представленные материалы и заполните таблицу.

Карты





Фотографии



2



3



Городские добровольцы въ окопахъ на бульсартъ, на берегу Амура.


4

Мариинский мостъ черезъ рѣку Оку.




5

Мурманъ. — Mourman.
Китобойный заводъ. — Abattoir de baleuss.



6

Волга.




7

Переправа через р Иртышъ.



8

Императорский Оружейный заводъ




9

Жигулевский пивоваренный заводъ.



10

Понтонный мостъ черезъ р. Ангару.—Pont sur la rivière Angara.



11





Домъ Шамиля. Одиштрѣвская церковь.

Текстовые фрагменты:

1. Существование города не позднее, а именно с 1858 г. Из 6 постов, основанных по распоряжению генерал-губернатора... Н. Н. Муравьева в 1856 г. для снабжения провиантом... войск, на левом берегу реки поставлен был Усть-Зейский пост... Фабричная и заводская промышленность слабо развиты,... но торговля в городе идет довольно бойко; в 1888 г. отправлено... на пароходах чаев байховых 43849 пуд., кирпичного 93882 п., хлеба 49546 п. и прочих товаров 32308 пуд., и доставлено на пароходах из России разных грузов 513685 пуд. Город служит скотопрогонным пунктом из Забайкалья и Монголии.

2. После кончины брата своего, царя Ивана Алексеевича, Петр Великий начал свое единодержавие с приезда в ____, где поселился в выстроенном для него маленьком домике... Здесь, как он выразился в письме к Стрешневу, «по приказу Божию к прадеду нашему Адаму в поте лица своего едим хлеб свой». Только благодаря такой кипучей деятельности Петр уже мог с апреля спустить из __ целый флот из 2 галиотов, 23 галер и 4 брандеров... Город ныне хорошо отстроен... Общая производительность всех заводов и фабрик простирается до 1,8 млн руб. Еще более развита городская торговля...

3. По торговому своему положению __ занимает первое место среди городов Сибири, находясь на транзитном пути в Китай (через Кяхту), Приамурье и Якутскую обл. Первое место по ценности между привозимыми из России в __ товарами принадлежит галантерейным, затем следуют мануфактурные, кожевенные, железные, москательные, бакалейные и др. Во второй половине декабря в __ бывает значительная ярмарка... Прогрессивное уменьшение торговли последних лет и упадок золотопромышленности в крае отразились неблагоприятно на денежных оборотах... кредитных учреждений.

4. Как городское поселение, __ в особенности развилась в течение XIX в., с самого начала которого и промышленность, и торговля города были значительны; в особенности славились его кожевенное, парусное и рогожное производства, а торговля его хлебными грузами, пенькой, салом и щетиной имела посреднический характер, но неимоверное обмеление Оки и проведение железного пути сильно изменили направление и характер... торговли, отчасти и не в пользу города.

5. Становище расположено по обоим берегам губы, которую на койпуге можно переходить посуху с одной стороны на другую. На обоих берегах камень и клочки болот. Ровного места очень мало. Кругом горы, хотя и не особенно высокие. С запада горы стоят сплошной стеной, на востоке между ними есть более низкие перевалы... Хотя в ... бухте и

стоит несколько торговых судов, но редкое лето обходится без аварий. Наглядным примером серьезной опасности такой стоянки в 1899 г. может служить выкинутое на берег в конце бухты судно Рынина.

6. Самый значительный после Москвы из городов рассматриваемой [Центрально-Промышленной] области... Промышленное значение __ очень велико. На первом месте стоит обработка питательных веществ..., затем следуют производства по обработке металлов, выделке машин и их частей, так же как и орудий ремесел... Но несравненно большее значение имеет __ в торговом отношении, чему способствует его пристань, и, в особенности, знаменитая... ярмарка.

7. Административный центр Степного генерал-губернаторства... Город состоит из старинной крепости, застроенной казенными зданиями и окруженной валом, теперь уже отчасти срытым, и шести форштадтов. Некоторые части города хорошо обстроены, но вообще внешним благоустройством не отличается... С проведением железной дороги __ становится складочным местом европейских товаров...; в городе открываются новые магазины, устраиваются оптовые склады... Ежегодно ярмарки, с общим оборотом до 1 млн. руб. Предметы торговли обнимают все потребности хозяйств оседлого и кочевого.

8. Город не принадлежит к древнейшим городам рассматриваемой области... Только в смутный период __ играл уже некоторую политическую роль... После пожара... в 1673 г.... __ был перенесен на нынешнее место... Развитию города в XVIII и XIX вв. много способствовало то, что он был исходным пунктом для судоходства по Оке... В эпоху освобождения крестьян город имел до 40 тыс. жителей, и торговое значение его было велико... На пристани... в то время грузилось до 2 ½ млн пуд., в том числе 1,8 млн пуд. хлеба, а разгружалось свыше 400 тыс. пуд., преимущественно соли и леса... ныне... на ней грузится только до 24 тыс. пуд... Однако... благодаря положению города на пересечении ... железных дорог, торговое значение... не только не уменьшилось, но увеличилось...

9. В 1767 г. слобода была посещена имп. Екатериной II, а в 1777 г. переименована в город... В особенности же он развился в половине XIX века, с развитием судоходства по Мариинской системе, и постепенно сделался самым важным передаточным пунктом для волжских грузов, идущих в Петербург... Памятников старины в городе почти совсем нет... Пристань его, с целым лесом мачт, растянулась верст на 12...

10. С назначением... губернским городом, с развитием на Волге пароходства, а главное, с проведением через город железных дорог, __ за последние полвека быстро превратилась из ничтожного захолустья в громадный цветущий город, явив собой яркий пример такого быстрого роста, который выпал на долю очень немногим русским городам.

11. __ имеет большое промышленное и торговое значение. Все фабрики и заводы __ производят на сумму до 14 ½ млн руб, при 18 тыс. работников... Большое развитие имеет и кустарная промышленность, главные отрасли которой крайне разнообразны: металлические изделия – самовары, ножевой товар, замки, оружие и проч.; даже гармоники и, наконец, ... пряники.

12. Находясь в узле трех железнодорожных линий..., __ представляет самый бойкий и населенный из уездных городов... губернии. До проведения железнодорожных путей это был жалкий русско-башкирский городишка самого заурядного, захолустного типа. Став затем на линии двух дорог, соединивших Европу с Азией, ... __ стал быстро расти и расширяться, украсился новыми домами, общественными учреждениями и, сделавшись крупным торговым центром, привлек множество пришлого торгового купечества. Немало оживлению города содействовали переселенческое движение, для которого здесь был устроен распределительный пункт, и минувшая... война, так как здесь происходила пересадка и перегрузка всех... поездов.

8. [10 баллов]. Перед вами изображение, выполненное на основе дореволюционной карты Российской империи, отображающей процесс её территориального роста. Цифрами на ней показаны территориальные присоединения российских правителей, одна цифра соответствует строго одному правлению. Используя свои знания, определите, чьи правления автор карты обозначил соответствующими цифрами и заполните таблицу.

9. [10 баллов] Перед вами фрагменты из воспоминаний известного деятеля русского общественного движения, длительное время (свыше 40 лет!) находившегося в эмиграции. Именно там в конце XIX. были написаны и опубликованы впервые эти мемуары. Автор – представитель одного из древнейших дворянских родов России – тем не менее посвятил себя революционному движению, стал одним из теоретиков анархизма. Кроме того, в молодости он провел много времени в экспедициях, внес вклад в изучение Восточной Сибири и Дальнего Востока. В честь этого исторического деятеля назывались населенные пункты и улицы, снимались фильмы. Ознакомьтесь с фрагментами и выполните следующие задания:

- 1) Определите, кто является автором мемуаров,
- 2) Выберите название посвященного ему документального фильма: А) «Рыцарь революции»; Б) «Мятежный князь»; В) «Граф-авантюрист»; Г) «Неистовый барон».
- 3) Какое название закрепилось за кружком, о котором говорится в фрагменте 3?
- 4) Постарайтесь провести примерную датировку событий (с точностью до года, если не указано иное). Ответ оформите в виде таблицы, располагая события в хронологической последовательности.

А. «Я читал и перечитывал манифест. Он был составлен престарелым московским митрополитом Филаретом напыщенным языком. Церковнославянские обороты только затемняли смысл. Но то была воля, без всякого сомнения, хотя не немедленная».

Б. «Дело это произвело глубокое впечатление по всей Европе. Я был в Париже, когда получилось известие об оправдательном приговоре. Мне пришлось в этот день зайти по делам в несколько редакций. Всюду редакторы дышали энтузиазмом и писали энергичные передовые статьи, прославлявшие девушку. Даже серьезная "Revue des Deux Mondes" в годичном обзоре писала, что больше всего на общественное мнение Европы в... году произвели впечатление два лица: князь Горчаков во время Берлинского конгресса и Вера Засулич».

В. «Герцен только что начал тогда издавать в Лондоне «Полярную Звезду», которая быстро и широко распространилась в публике и произвела смятение даже в придворных кругах... А я почти с молитвенным благоговением глядел на напечатанный на обложке «Полярной Звезды» медальон с изображением голов повешенных декабристов... Красота и сила творений Герцена, мощь размаха его мыслей, его глубокая любовь к России охватили меня. Я читал и перечитывал эти страницы, блестящие умом и проникнутые глубоким чувством. Тургенев правду сказал, что Герцен писал слезами и кровью, что с тех пор у нас никто так не писал».

Г. «Когда Исполнительный комитет свершил смелую попытку взорвать Зимний дворец, Александр II сделал шаг, до того беспрецедентный. Он создал род диктатуры».

Д. «Никогда раньше польскому делу так много не сочувствовали в России, как тогда. Я не говорю о революционерах. Даже многие умеренные люди открыто высказывались в те годы, что России выгоднее иметь Польшу хорошим соседом, чем враждебно настроенной подчиненной страной.... Когда началась революция, несколько русских офицеров отказались идти против поляков, а некоторые даже открыто присоединились к ним и умерли или на эшафоте, или на поле битвы. Деньги на восстание собирались по всей России, а в Сибири даже открыто. В университетах студенты снаряжали тех товарищей, которые отправлялись к повстанцам».

Е. «Дикая паника охватила придворные круги в Петербурге. Для охраны царя была основана тайная лига... Еще более тайная организация – «Священная дружина» основалась в то же время с Владимиром Александровичем, братом царя, во главе, чтобы бороться с

революционерами всякими средствами – между прочим, убийством тех эмигрантов, которых считали вождями недавних заговоров. Я был в числе намеченных лиц».

Ж. «В марте Александр II сам обратился к московскому дворянству с речью, в которой доказывал необходимость реформы; но ответом было упорное молчание. Александр II рассердился тогда и закончил речь памятными словами Герцена. «Лучше, господа, чтобы освобождение пришло сверху, чем ждать, откуда оно придет снизу». Но даже и эти слова не подействовали».

З. «Кружок возник из очень небольшой группы мужчин и женщин (в числе последних были Софья Перовская и три сестры Корниловы), соединившихся для самообразования и самоусовершенствования... Кружок возник из желания противодействовать нечаевским способам деятельности... друзья рассудили совершенно верно, что нравственно развитая личность должна быть в основе всякой организации независимо от того, какой бы политический характер она потом ни приняла и какую бы программу деятельности она ни усвоила под влиянием событий... В то время кружок не имел в себе ничего революционного... Но все мы были социалистами»¹.

И. «Когда я читал донесение о сдаче Севастополя, о страшных потерях, которые понесли наши войска за последние три дня перед сдачей, мы все плакали. Все ходили после этого как если бы потеряли близкого человека. При известии же о смерти Николая никто не проронил слезы. Такое чувство было не у нас одних, но и у всех наших соседей».

К. «Когда вмешались союзники, мы все были охвачены патриотизмом и всюду распевали модную в то время песенку:

Вот в воинственном азарте	Вдохновлен его отвагой,
Воевода Пальмерстон	И француз за ним туда ж
Поражает Русь на карте	Машет дядюшкиной шпагой
Указательным перстом!	И кричит "Allons, courage!"

Но обычный ход общественной жизни в Москве не был нарушен происходившей тогда великой борьбой».


10. [10 баллов]. Перед Вами подборка иллюстраций, относящихся к периоду Второй Мировой войны, из сатирического иллюстрированного журнала «Крокодил». Распределите фотографии по годам (представлены все годы в списке): 1939, 1940, 1941, 1942, 1943, 1944, 1945. Ответ оформите в виде таблицы, вписав цифровые обозначения фотографий в ячейки под соответствующими годами.

¹ Датировка – достаточно указать десятилетие и его половину (первую или вторую).

1



2



3



ПОПУЛЯРНАЯ РУССКАЯ ПЕСНЯ
— Потеряла я колечко!.. (А в колечке 22 дивизии).

4



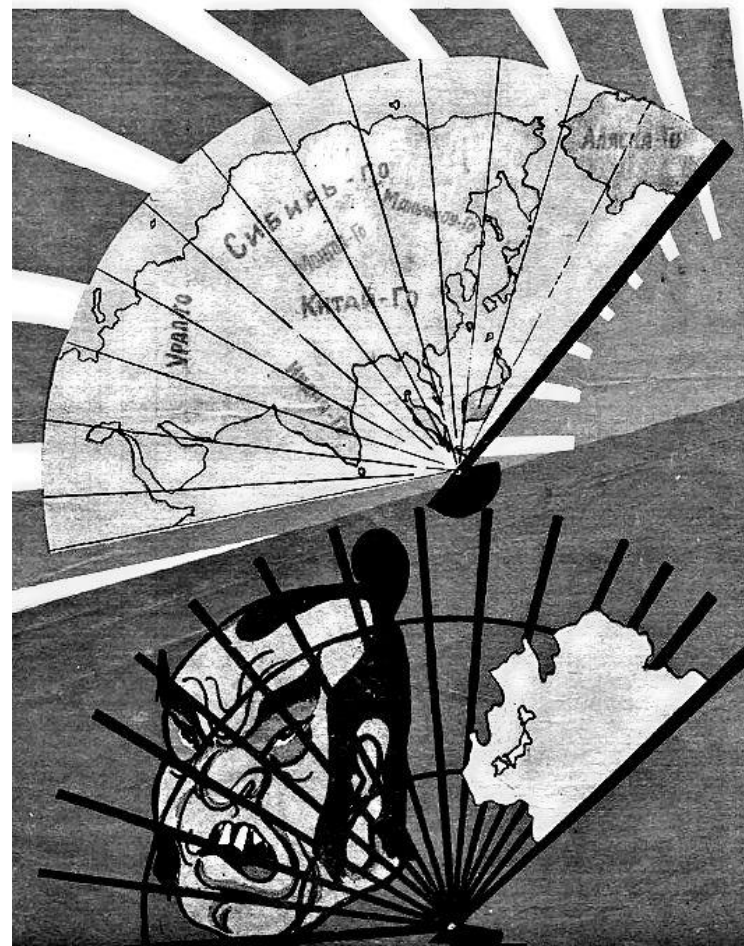
5



КРЫМаторий для фрицев.


6

ЧТО ОСТАЛОСЬ ОТ МЕЧТАНИЯ О «ВЕЛИКОЙ
ВОСТОЧНОЙ ИМПЕРИИ?»



Ниче-го.





11



ПАНСКАЯ ЖИЗНЬ

— Оказывается, кроме Октября, есть еще один ужасный месяц — сентябрь.

12



ЗАБОТЛИВЫЙ СЫН

— Спасибо сынку, дал возможность отдохнуть в Крыму.
— Что, путёвку вам достал?
— Нет, год назад освободил эти места.

13



14



ЖЕЛАЕМ УДАЧИ!

