

ПОШ по географии

Задание 1

Перед вами данные по приросту населения некоторых регионов России за 1990 – 2021 гг. согласно Росстату.

В верхней строке указаны две последние цифры года с 1990 по 2021 гг. Ячейка, закрашенная серым цветом, означает, что в этот год в указанном регионе был прирост населения. Ячейка, закрашенная белым цветом, означает, что в этот год в указанном регионе была убыль населения.

	90	91	92	93	94	95	96	97	98	99	00	01	02	03	04	05	06	07	08	09	10	11	12	13	14	15	16	17	18	19	20	21	
Регион 1																																	
Регион 2																																	
Регион 3																																	
Регион 4																																	
Регион 5																																	

Определите регионы, используя подсказки. К каждому региону относятся три подсказки, каждая подсказка может быть использована один раз.

Подсказки: АЭС, Базардюзю, исток Дона, Кизляр, Надым, Нерюнгри, остров Котельный, Обская губа, Олёкминск, Сабетта, Сальские степи, Сарыкум, Цимлянск, Чекалин, Ясная Поляна

Регион 1:

Подсказки:

Регион 2:

Подсказки:

Регион 3:

Подсказки:

Регион 4:

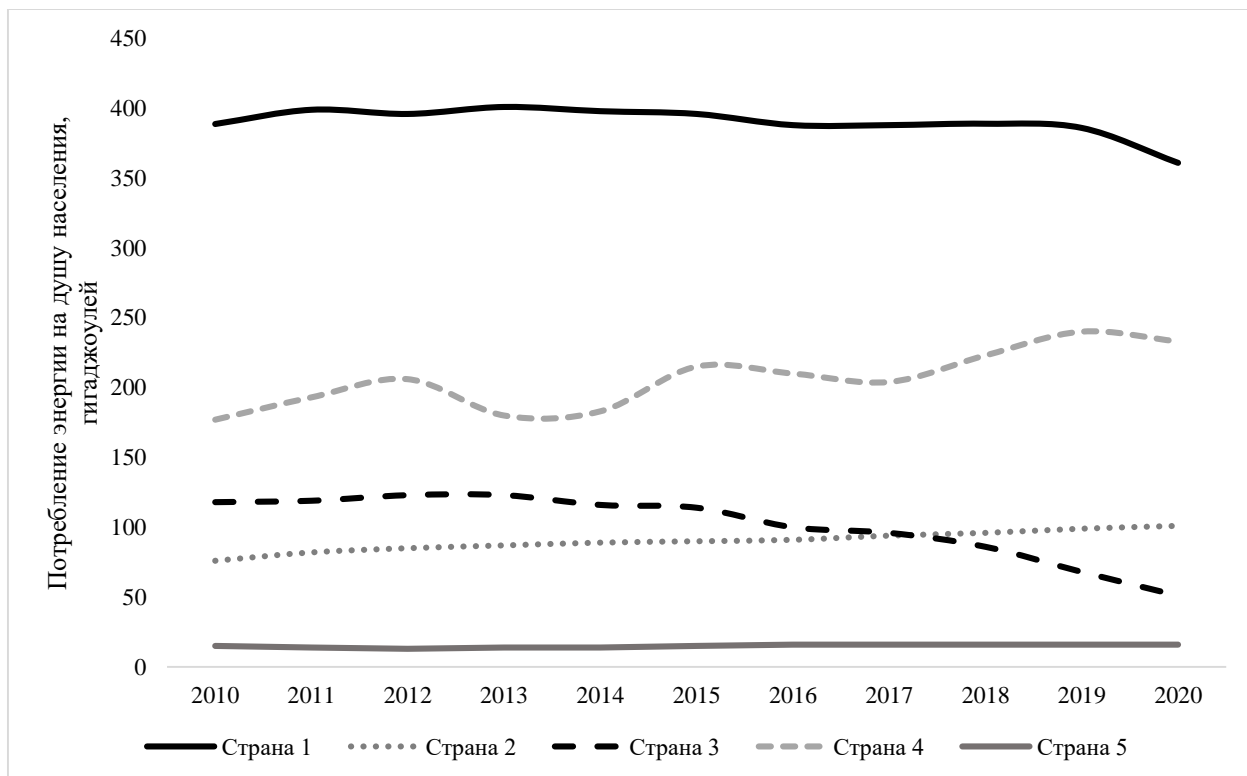
Подсказки:

Регион 5:

Подсказки:

Задание 2

Перед вами график потребления энергии на душу населения в гигаджоулях по пяти странам мира с 2010 по 2020 гг.



Определите страны, используя подсказки. К каждой стране относятся три подсказки, каждая подсказка может быть использована один раз.

Подсказки: Амасонас, Анхель, Гоби, Икалуит, Кара-Богаз-Гол, Кушка, Лахор, Логан, Лхаса, Маккензи, Мары, Ориноко, Рупия, Хайнань, Чогори

Страна 1:

Подсказки:

Страна 2:

Подсказки:

Страна 3:

Подсказки:

Страна 4:

Подсказки:

Страна 5:

Подсказки:

Задание 3

Каждый регион России является лидером по какому-либо показателю. Заполните таблицу, указав регион в соответствии с тем показателем, по какому он является лидером в России. Каждый регион используется только один раз!

Регионы: Белгородская область, Ивановская область, Иркутская область, Камчатский край, Кемеровская область, Краснодарский край, Москва, Московская область, Мурманская область, Ненецкий АО, Омская область, Республика Дагестан, Республика Ингушетия, Республика Калмыкия, Республика Татарстан, Республика Тыва, Ростовская область, Санкт-Петербург, Саратовская область, Севастополь, Ставропольский край, Тульская область, Ханты-Мансийский АО, Чеченская республика, Ямало-Ненецкий АО

Регион	Показатель
	Валовый сбор зерна
	Валовый сбор льноволокна
	Валовый сбор сахарной свёклы
	Валовый сбор семян подсолнечника
	Ввод жилья
	Добыча нефти
	Добыча угля
	Доля добывающей промышленности в ВРП
	Доля занятых в сельском хозяйстве
	Доля лесных земель от общей площади
	Доля обрабатывающей промышленности в ВРП
	Доля поверхностных вод и болот от общей площади

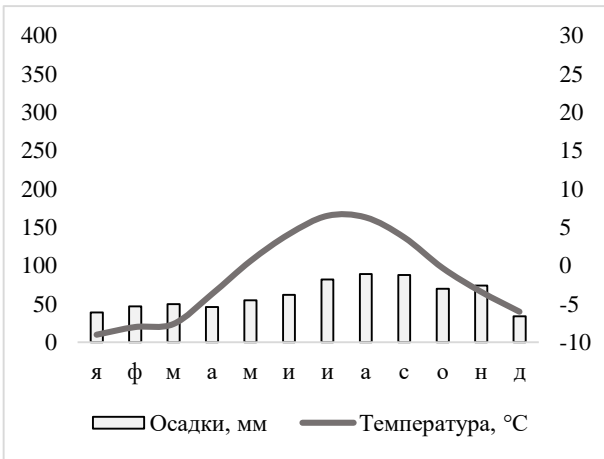
	Доля сельского населения
	Доля сельскохозяйственных угодий от общей площади
	Доля текстильной промышленности в структуре промышленного производства
	Коэффициент миграционного прироста на 10000 жителей
	Ожидаемая продолжительность жизни при рождении
	Поголовье крупного рогатого скота
	Поголовье свиней
	Потребление мяса на душу населения
	Среднедушевые доходы населения
	Суммарный коэффициент рождаемости
	Улов рыбы
	Численность населения
	Численность студентов бакалавриата и магистратуры на 10000 жителей

Задание 4

Перед вами климатограммы городов на 10 островах мира. Соотнесите город, остров и климатограмму.

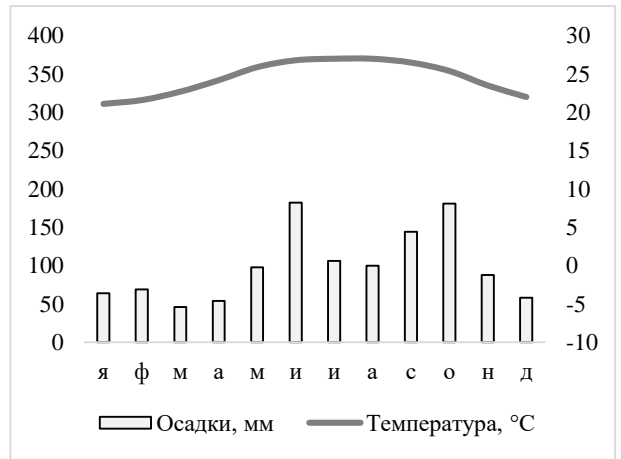
Острова: Гренландия, Ирландия, Исландия, Куба, Мадагаскар, Сахалин, Сицилия, Суматра, Тасмания, Южный

Города: Антананариву, Гавана, Крайстчёрч, Лимерик, Медан, Нуук, Палермо, Рейкьявик, Хобарт, Холмск



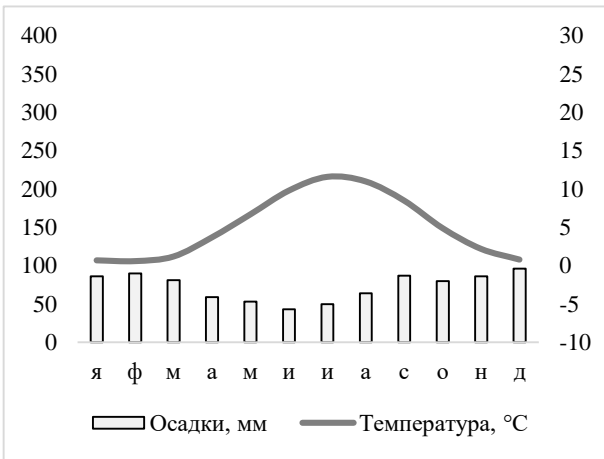
Остров:

Город:



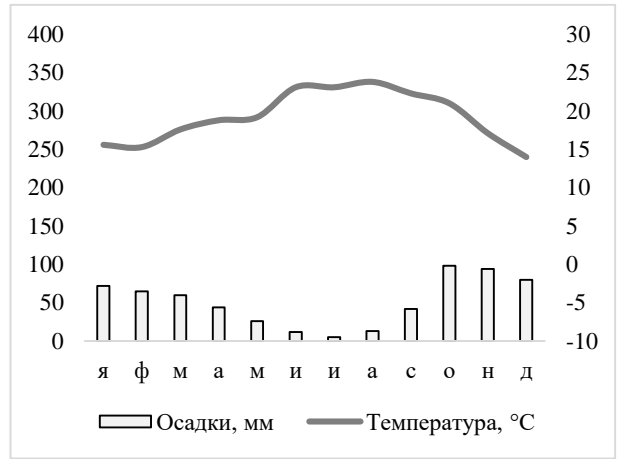
Остров:

Город:



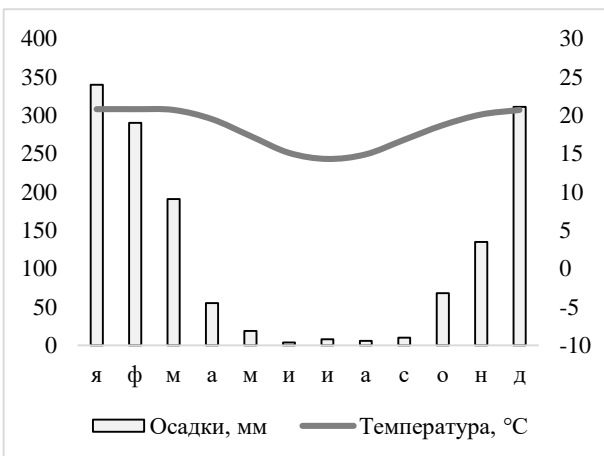
Остров:

Город:



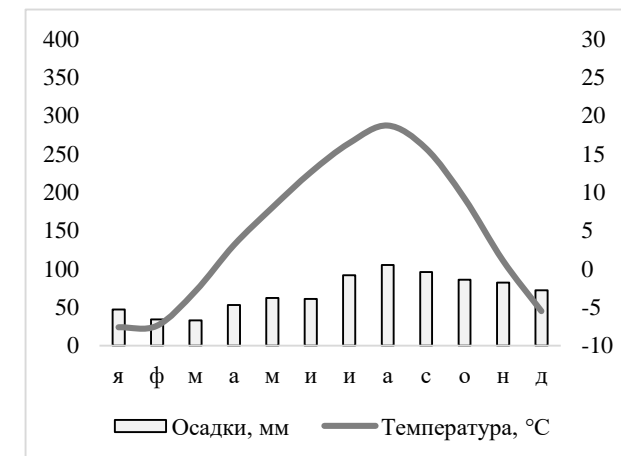
Остров:

Город:



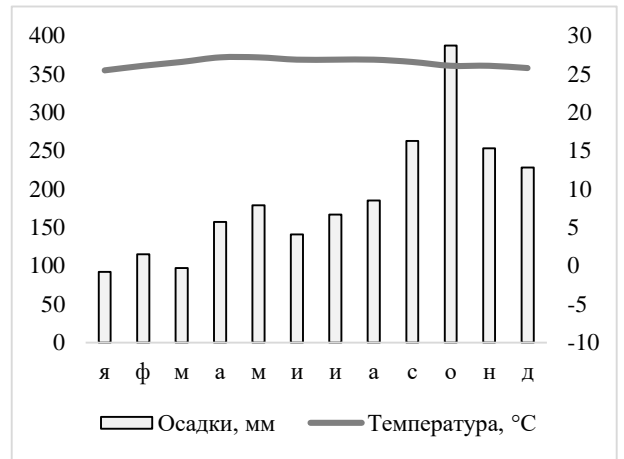
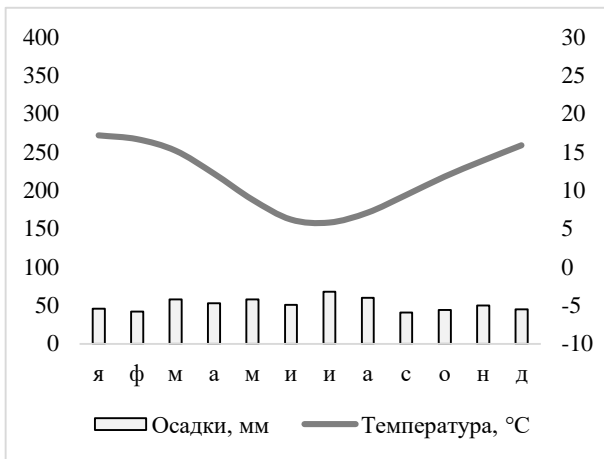
Остров:

Город:



Остров:

Город:

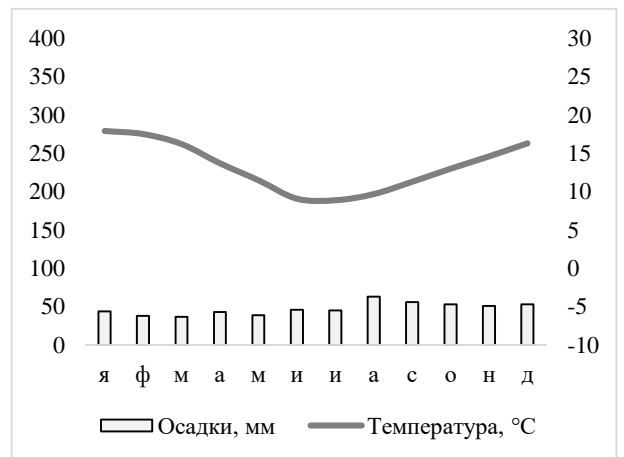
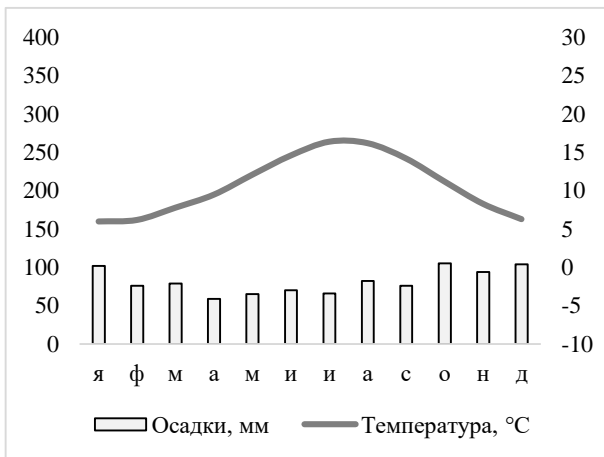


Остров:

Город:

Остров:

Город:



Остров:

Город:

Остров:

Город:

Также укажите:

Самый большой остров по площади –

Самый большой остров по численности населения –

Остров, принадлежащий не одному государству –

Остров – мировой лидер по производству ванили –

Остров, второе название которого - Те Вайпонаму -