

**ВСЕРОССИЙСКАЯ ОЛИМПИАДА ШКОЛЬНИКОВ
ПО ИСТОРИИ
2020-2021 УЧЕБНЫЙ ГОД
МОСКОВСКАЯ ОБЛАСТЬ
ШКОЛЬНЫЙ ЭТАП**

10 класс

- 1) 90 минут
- 2) Список заданий:
 1. История
 2. Задание 1. Знание терминологии отечественной истории
 3. 2
 4. Вариант 1
 - a. Какая из этих категорий крестьян в России появилась раньше остальных?
 - А) государственные
 - Б) черносошные
 - В) посессионные
 - Г) экономические
 - b. Тип вопроса: выбор одного из нескольких
 - c. Ответ: Б
 - d. Решение — не требуется
 5. Вариант 2
 - a. Какое из этих учреждений XVIII века в России появилось раньше остальных?
 - А) Верховный тайный совет
 - Б) Кабинет министров
 - В) Главный магистрат
 - Г) Правительствующий сенат
 - b. Тип вопроса: выбор одного из нескольких
 - c. Ответ: Г
 - d. Решение — не требуется
 6. Вариант 3
 - a. Какой из этих документов XVIII века был обнародован раньше остальных?
 - А) Манифест о трёхдневной барщине
 - Б) Манифест о вольности дворянства
 - В) Указ о единонаследии
 - Г) Жалованная грамота дворянству
 - b. Тип вопроса: выбор одного из нескольких
 - c. Ответ: В
 - d. Решение — не требуется

1. История
2. Задание 2. Знание терминологии зарубежной истории
3. 2
4. Вариант 1
 - a. Какой из этих монашеских орденов не был рыцарским?
 - А) тамплиеры
 - Б) францисканцы



- В) тевтонцы
 - Г) госпитальеры
 - b. Тип вопроса: выбор одного из нескольких
 - c. Ответ: Б
 - d. Решение — не требуется
 - 5. Вариант 2
 - a. Какой из этих монашеских орденов был рыцарским?
 - А) францисканцы
 - Б) доминиканцы
 - В) бенедиктинцы
 - Г) тамплиеры
 - b. Тип вопроса: выбор одного из нескольких
 - c. Ответ: Г
 - d. Решение — не требуется
 - 6. Вариант 3
 - a. Какой из этих монашеских орденов был рыцарским?
 - А) госпитальеры
 - Б) кармелиты
 - В) доминиканцы
 - Г) францисканцы
 - b. Тип вопроса: выбор одного из нескольких
 - c. Ответ: А
 - d. Решение — не требуется
-
- 1. История
 - 2. Задание 3. Знание дат отечественной истории
 - 3. 2
 - 4. Вариант 1
 - a. Какой из этих временных промежутков не связан с русско-польскими войнами?
 - А) 1590–1595 гг.
 - Б) 1609–1618 гг.
 - В) 1632–1634 гг.
 - Г) 1654–1667 гг.
 - b. Тип вопроса: выбор одного из нескольких
 - c. Ответ: А
 - d. Решение — не требуется
 - 5. Вариант 2
 - a. Какой из этих временных промежутков не связан с русско-шведскими войнами?
 - А) 1610–1617 гг.
 - Б) 1632–1634 гг.
 - В) 1656–1658 гг.
 - Г) 1741–1743 гг.
 - b. Тип вопроса: выбор одного из нескольких
 - c. Ответ: Б
 - d. Решение — не требуется
 - 6. Вариант 3
 - a. Какой из этих временных промежутков не связан с русско-турецкими войнами?
 - А) 1735–1739 гг.



Б) 1741–1743 гг.

В) 1768–1774 гг.

Г) 1787–1791 гг.

b. Тип вопроса: выбор одного из нескольких

c. Ответ: Б

d. Решение — не требуется

1. История

2. Задание 4. Знание дат зарубежной истории

3. 2

4. Вариант 1

a. Какой из этих годов не связан с битвами Столетней войны?

А) 1346 г.

Б) 1415 г.

В) 1428 г.

Г) 1453 г.

b. Тип вопроса: выбор одного из нескольких

c. Ответ: любой вариант засчитывается как верный

d. Решение — не требуется

5. Вариант 2

a. Какой из этих временных промежутков не связан с Крестовыми походами?

А) 1096–1099 гг.

Б) 1112–1115 гг.

В) 1147–1149 гг.

Г) 1189–1192 гг.

b. Тип вопроса: выбор одного из нескольких

c. Ответ: Б

d. Решение — не требуется

6. Вариант 3

a. Какой из этих годов не связан с событиями Реконквисты?

А) 1066 г.

Б) 1094 г.

В) 1108 г.

Г) 1492 г.

b. Тип вопроса: выбор одного из нескольких

c. Ответ: А

d. Решение — не требуется

1. История

2. Задание 5. Знание деятелей отечественной истории

3. 2

4. Вариант 1

a. Какой из этих исторических деятелей не был министром внутренних дел России?

А) Дмитрий Толстой

Б) Пётр Валуев

В) Михаил Лорис-Меликов

Г) Александр Горчаков

b. Тип вопроса: выбор одного из нескольких

c. Ответ: Г

d. Решение — не требуется



5. Вариант 2
- a. Какой из этих исторических деятелей не был военным министром России?
 - А) Дмитрий Милютин
 - Б) Михаил Барклай-де-Толли
 - В) Карл Нессельроде
 - Г) Алексей Аракчеев
 - b. Тип вопроса: выбор одного из нескольких
 - c. Ответ: В
 - d. Решение — не требуется
6. Вариант 3
- a. Какой из этих исторических деятелей не был министром просвещения России?
 - А) Карл Нессельроде
 - Б) Сергей Уваров
 - В) Иван Делянов
 - Г) Дмитрий Толстой
 - b. Тип вопроса: выбор одного из нескольких
 - c. Ответ: А
 - d. Решение — не требуется

1. История
2. Задание 6. Знание деятелей зарубежной истории
3. 2
4. Вариант 1

- a. Какой из этих исторических деятелей был представителем Контрреформации?
 - А) Игнатий Лойола
 - Б) Ульрих Цвингли
 - В) Жан Кальвин
 - Г) Мартин Лютер
 - b. Тип вопроса: выбор одного из нескольких
 - c. Ответ: А
 - d. Решение — не требуется
5. Вариант 2
- a. Какой из этих исторических деятелей подписал Нантский эдикт?
 - А) Людовик XIV
 - Б) Генрих IV
 - В) Генрих де Гиз
 - Г) Кардинал Ришельё
 - b. Тип вопроса: выбор одного из нескольких
 - c. Ответ: Б
 - d. Решение — не требуется
6. Вариант 3
- a. Какой из этих исторических деятелей был казнён?
 - А) Карл XII
 - Б) Генрих IV
 - В) Карл I Стюарт
 - Г) Стефан Баторий
 - b. Тип вопроса: выбор одного из нескольких
 - c. Ответ: В
 - d. Решение — не требуется



1. История
 2. Задание 7. Знание хронологии событий отечественной истории
 3. 2
 4. Вариант 1
 - a. Какая из перечисленных битв произошла раньше остальных?
 - А) битва на реке Воже
 - Б) битва на реке Сити
 - В) битва на реке Калке
 - Г) битва на реке Шелони
 - b. Тип вопроса: выбор одного из нескольких
 - c. Ответ: В
 - d. Решение — не требуется
 5. Вариант 2
 - a. Какая из перечисленных битв произошла позже остальных?
 - А) битва на реке Шелони
 - Б) битва на реке Пьяне
 - В) Грюнвальдская битва
 - Г) Куликовская битва
 - b. Тип вопроса: выбор одного из нескольких
 - c. Ответ: А
 - d. Решение — не требуется
 6. Вариант 3
 - a. Какая из перечисленных битв произошла позже остальных?
 - А) Грюнвальдская битва
 - Б) битва на реке Сити
 - В) битва на реке Альте
 - Г) Невская битва
 - b. Тип вопроса: выбор одного из нескольких
 - c. Ответ: А
 - d. Решение — не требуется
-
1. История
 2. Задание 8. Знание хронологии событий зарубежной истории
 3. 2
 4. Вариант 1
 - a. Какое из перечисленных событий произошло позже остальных?
 - А) провозглашение доктрины Монро в США
 - Б) чартистское движение в Англии
 - В) Франко-прусская война
 - Г) битва при Ватерлоо
 - b. Тип вопроса: выбор одного из нескольких
 - c. Ответ: В
 - d. Решение — не требуется
 5. Вариант 2
 - a. Какое из перечисленных событий произошло позже остальных?
 - А) объединение Италии
 - Б) «Сто дней»
 - В) чартистское движение в Англии
 - Г) Июльская революция во Франции
 - b. Тип вопроса: выбор одного из нескольких
 - c. Ответ: А
 - d. Решение — не требуется



6. Вариант 3
- a. Какое из перечисленных событий произошло раньше остальных?
 - А) Египетский поход Наполеона Бонапарта
 - Б) Трафальгарское сражение
 - В) гражданская война в США
 - Г) чартистское движение в Англии
 - b. Тип вопроса: выбор одного из нескольких
 - c. Ответ: В
 - d. Решение — не требуется
1. История
2. Задание 9. Соотнесение эпох и событий
3. 5
4. Вариант 1
- a. Выберите из списка три события, относящихся к периоду правления Николая I:
 - А) издание «указа о вольных хлебопашцах»
 - Б) подавление революции в Венгрии
 - В) финансовая реформа Канкрин
 - Г) издание «циркуляра о кухаркиных детях»
 - Д) открытие первой железной дороги в Российской империи
 - Е) создание организации «Земля и воля»
 - b. Тип вопроса: выбор нескольких из нескольких
 - c. Ответ: БВД
 - d. Решение — не требуется
5. Вариант 2
- a. Выберите из списка три события, относящихся к периоду правления Александра II:
 - А) создание организации «Земля и воля»
 - Б) продажа Аляски
 - В) Айгунский договор
 - Г) открытие первой железной дороги в Российской империи
 - Д) издание Манифеста о незыблемости самодержавия
 - Е) отмена крепостного права в Прибалтике
 - b. Тип вопроса: выбор нескольких из нескольких
 - c. Ответ: АБВ
 - d. Решение — не требуется
6. Вариант 3
- a. Выберите из списка три события, относящихся к периоду правления Александра III:
 - А) оборона Шипки
 - Б) создание организации «Освобождение труда»
 - В) издание Манифеста о незыблемости самодержавия
 - Г) издание «циркуляра о кухаркиных детях»
 - Д) создание министерств
 - Е) финансовая реформа Канкрин
 - b. Тип вопроса: выбор нескольких из нескольких
 - c. Ответ: БВГ
 - d. Решение — не требуется



1. История
 2. Задание 10. Архитектурные памятники
 3. 5
 4. Вариант 1
 - a. Выберите из списка три архитектурных памятника в стиле классицизма
 - А) Храм Покрова в Филях
 - Б) Зимний дворец
 - В) Дом Пашкова
 - Г) Здание Сената в Москве
 - Д) Петропавловский собор
 - Е) Михайловский замок
 - b. Тип вопроса: выбор нескольких из нескольких
 - c. Ответ: ВГЕ
 - d. Решение — не требуется
 5. Вариант 2
 - a. Выберите из списка три архитектурных памятника в стиле барокко
 - А) Сухарева башня
 - Б) Дом Пашкова
 - В) Зимний дворец
 - Г) Петропавловский собор
 - Д) Смольный собор
 - Е) Михайловский замок
 - b. Тип вопроса: выбор нескольких из нескольких
 - c. Ответ: АВГД (подходят любые три буквы из этих четырёх)
 - d. Решение — не требуется
 6. Вариант 3
 - a. Выберите из списка три архитектурных памятника в стиле барокко
 - А) Здание Сената в Москве
 - Б) Ансамбль Новоиерусалимского монастыря
 - В) Зимний дворец
 - Г) Михайловский замок
 - Д) Екатерининский дворец в Царском Селе
 - Е) Здание двенадцати коллегий
 - b. Тип вопроса: выбор нескольких из нескольких
 - c. Ответ: ВДЕ
 - d. Решение — не требуется
1. История
 2. Задание 11. Расширение границ
 3. 5
 4. Вариант 1
 - a. Выберите из списка три территории, которые были окончательно присоединены к российскому государству в XVI веке
 - А) Крым
 - Б) Астраханское ханство
 - В) Казанское ханство
 - Г) Ингерманландия
 - Д) Башкирия
 - Е) Новгородская земля
 - b. Тип вопроса: выбор нескольких из нескольких
 - c. Ответ: БВД
 - d. Решение — не требуется



5. Вариант 2
- a. Выберите из списка три города, которые были окончательно присоединены к российскому государству в XVII веке
 - А) Смоленск
 - Б) Азов
 - В) Киев
 - Г) Псков
 - Д) Выборг
 - Е) Чернигов
 - b. Тип вопроса: выбор нескольких из нескольких
 - c. Ответ: АВЕ
 - d. Решение — не требуется
6. Вариант 3
- a. Выберите из списка три территории, которые были окончательно присоединены к российскому государству в XVIII веке
 - А) Бессарабия
 - Б) Галиция
 - В) Финляндия
 - Г) Ингерманландия
 - Д) Курляндия
 - Е) Лифляндия
 - b. Тип вопроса: выбор нескольких из нескольких
 - c. Ответ: ГДЕ
 - d. Решение — не требуется

- 1. История
- 2. Задание 12. «У нас» и «у них»
- 3. 6
- 4. Вариант 1

- a. Соотнесите события отечественной и зарубежной истории, произошедшие в одном и том же веке.
Событие русской истории:
 - 1) Медный бунт
 - 2) строительство Собора Святой Софии в Киеве
 - 3) Крещение Руси
 - 4) Чумной бунт
 - 5) поход Игоря Святославича на половцев
 - 6) захват Киева князем ОлегомСобытие зарубежной истории:
 - А) Нормандское завоевание Англии
 - Б) Второй крестовый поход
 - В) образование Священной Римской империи
 - Г) сооружение Версальского дворца
 - Д) распад государства франков
 - Е) принятие «Конституции 3 мая» в Речи Посполитой
- b. Тип вопроса: сопоставление множеств
- c. Ответ: 1Г 2А 3В 4Е 5Б 6Д
- d. Решение — не требуется

5. Вариант 2

- a. Соотнесите события отечественной и зарубежной истории, произошедшие в одном и том же веке.



Первое событие:

- 1) разорение Москвы Тохтамышем
- 2) создание «Повести временных лет»
- 3) осада Пскова Стефаном Баторием
- 4) основание Московского университета
- 5) церковная реформа Никона
- 6) съезд князей в Любече

Событие зарубежной истории:

- А) раскол христианской церкви на католическую и православную
- Б) Второй крестовый поход
- В) основание ордена иезуитов
- Г) начало Столетней войны
- Д) протекторат Кромвеля в Англии
- Е) Губертусбургский мир

- b. Тип вопроса: сопоставление множеств
- c. Ответ: 1Г 2Б 3В 4Е 5Д 6А
- d. Решение — не требуется

6. Вариант 3

- a. Соотнесите события отечественной и зарубежной истории, произошедшие в одном и том же веке.

Первое событие:

- 1) убийство Бориса и Глеба
- 2) битва на реке Калке
- 3) поход Андрея Боголюбского на Киев
- 4) Опричнина
- 5) Азовское сидение
- 6) походы Ольгерда на Москву

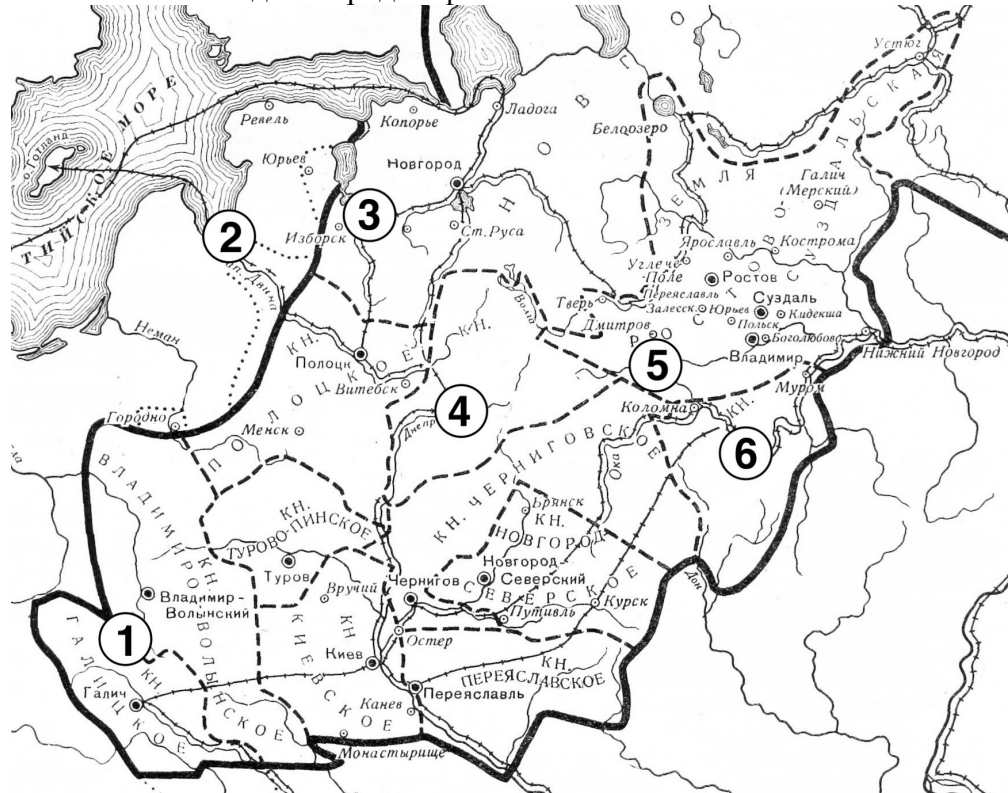
Событие зарубежной истории:

- А) Нормандское завоевание Англии
- Б) Второй крестовый поход
- В) эдикт Фонтенбло
- Г) начало Столетней войны
- Д) разгром Непобедимой армады
- Е) образование Монгольской империи

- b. Тип вопроса: сопоставление множеств
- c. Ответ: 1А 2Е 3Б 4Д 5В 6Г
- d. Решение — не требуется



1. История
2. Задание 13. Города Руси и сопредельных земель
3. 12
4. Вариант 1
 - a. Перед Вами карта, на которой отмечены цифрами шесть городов, и перечень фактов об этих городах. Укажите названия отмеченных городов. Соотнесите с каждым городом факт о нём.

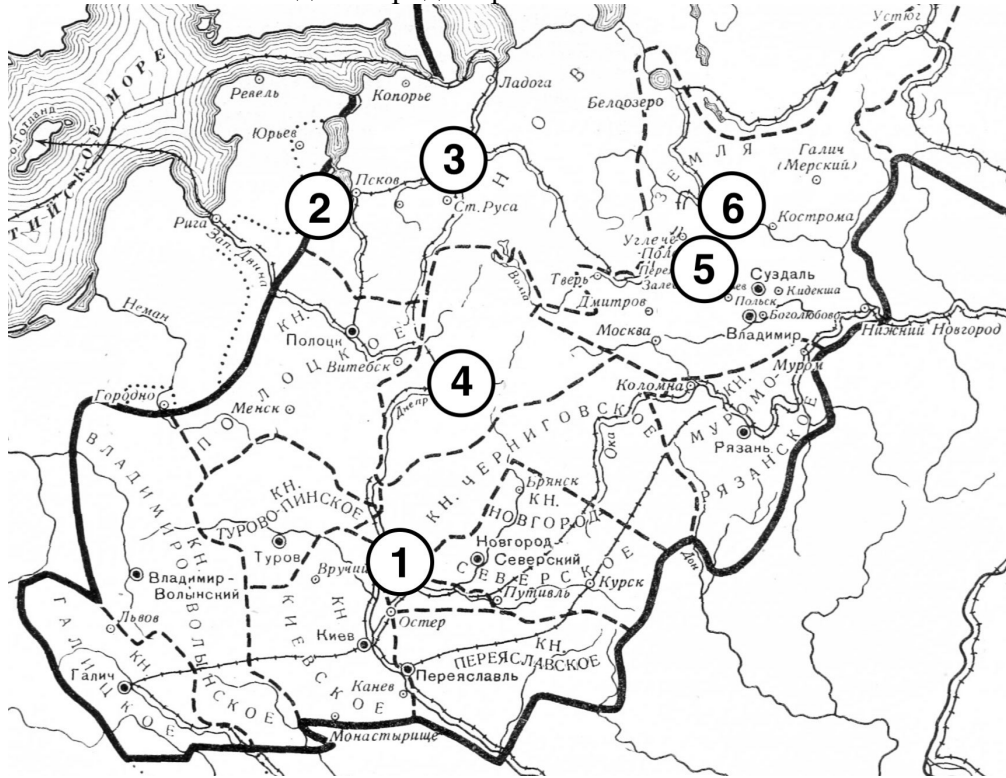


- А) Город основан в 1201 году крестоносцами. В настоящее время – столица независимого европейского государства.
 - Б) Город окончательно вошёл в состав русского государства по условиям Андрусовского перемирия.
 - В) Город разграблен Батыем в конце 1237 года.
 - Г) Первое летописное упоминание города датируется 1147 годом.
 - Д) Город назван в честь Льва Даниловича Галицкого.
 - Е) Город, наряду с Новгородом, был столицей одной из боярских республик.
- b. Тип вопроса: выбор ответа, сопоставление множеств
 - c. Ответ: 1-Львов-Д, 2-Рига-А, 3-Псков-Е, 4-Смоленск-Б, 5-Москва-Г, 6-Рязань-В
 - d. Решение — не требуется



5. Вариант 2

- а. Перед Вами карта, на которой отмечены цифрами шесть городов, и перечень фактов об этих городах. Укажите названия отмеченных городов. Соотнесите с каждым городом факт о нём.



- А) Согласно Повести временных лет, в этом городе после призвания варягов стал княжить Трувор.
 Б) Племенной центр северян.
 В) Город основан великим киевским князем в 1010 году и по сей день носит имя своего основателя.
 Г) В этом городе появился первый на Руси архиепископ.
 Д) По этому городу была названа одна из русско-польских войн XVII века.
 Е) Главный город Северо-Восточной Руси во времена княжения Юрия Долгорукого.

б. Тип вопроса: выбор ответа, сопоставление множеств

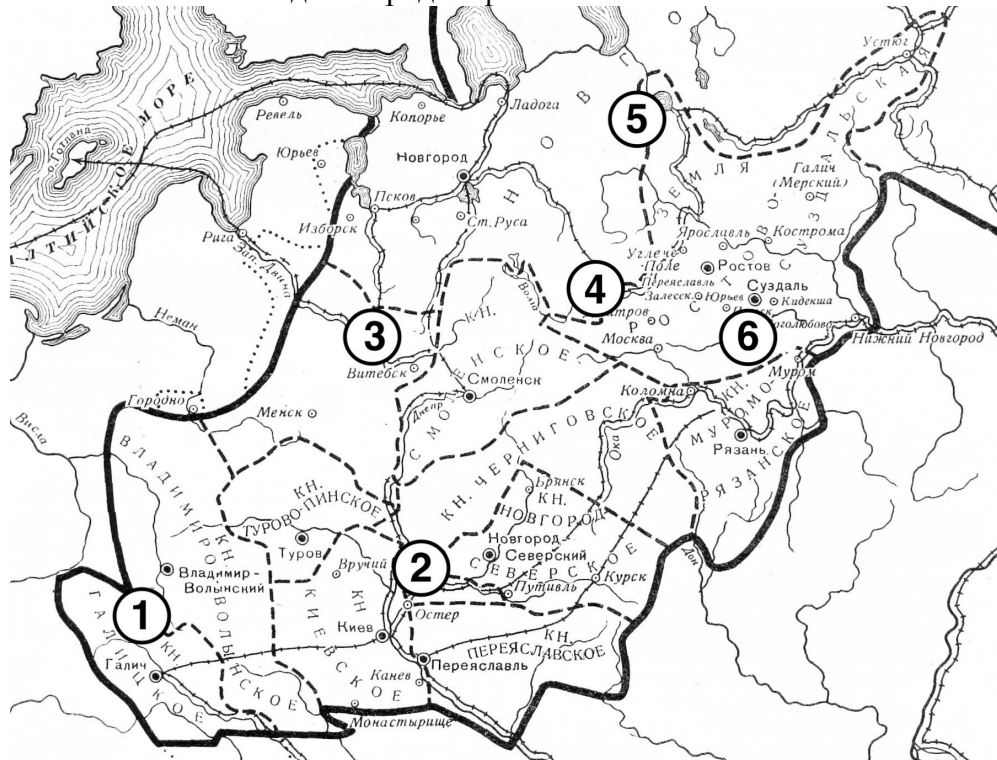
с. Ответ: 1-Чернигов-Б, 2-Изборск-А, 3-Новгород-Г, 4-Смоленск-Д, 5-Ростов-Е, 6-Ярославль-В

д. Решение — не требуется



6. Вариант 3

- а. Перед Вами карта, на которой отмечены цифрами шесть городов, и перечень фактов об этих городах. Укажите названия отмеченных городов. Соотнесите с каждым городом факт о нём.



- А) В этом городе, как и в Киеве и Новгороде, в XI веке был возведён Софийский собор.
 Б) Племенной центр северян.
 В) Согласно Повести временных лет, в этом городе после призвания варягов стал княжить Синеус.
 Г) Этот город был главным соперником Москвы за первенство в Северо-Восточной Руси в XIV веке.
 Д) В этот город перенёс столицу своего княжества Андрей Боголюбский.
 Е) Город назван в честь Льва Даниловича Галицкого.
- б. Тип вопроса: выбор ответа, сопоставление множеств
 с. Ответ: 1-Львов-Е 2-Чернигов-Б 3-Полоцк-А, 4-Тверь-Г, 5-Белоозеро-В, 6-Владимир-Д
 д. Решение — не требуется

1. История
2. Задание 14. Литературные памятники Древней Руси
3. 6
4. Вариант 1

- а. Соотнесите фрагменты древнерусских литературных памятников и их названия.

Фрагменты:

- 1) «Благоверная же княгиня Евпраксия стояла в то время в превысоком тереме своём и держала любимое чадо своё – князя Ивана Фёдоровича, и как услышала она эти смертоносные слова, исполненные горести, бросилась она из превысокого терема своего с сыном своим князем Иваном прямо на землю и разбилась до смерти»
- 2) «Много потрудившись богу, он оставил царство земное и стал монахом, ибо имел безмерное желание принять ангельский образ. Сподобил же его



бог и большой чин принять – схиму. И так с миром богу дух свой предал
месяца ноября в четырнадцатый день, на память святого апостола Филиппа»
3) «И стал великий князь Дмитрий Иванович со своим братом, с князем
Владимиром Андреевичем, и с остальными своими воеводами на костях на
поле Куликовом, на речке Непрядве. Страшно и горестно, братья, было в то
время смотреть: лежат трупы христианские, словно сенные стога, у Дона
великого на берегу, а Дон-река три дня кровью текла»

4) «Земля гудит, реки мутно текут, пыль поля покрывает, стяги вещают:
«Половцы идут!», – от Дона, и от моря, и со всех сторон обступили они
русские полки. Дети бесовы кликом поля перегородили, а храбрые русичи
перегородили червлёными щитами»

5) «Во время княжения князя великого Ивана начали приходить сюда
христиане, и понравилось им здесь жить. Начали по обе стороны места
этого селиться, и построили селе, и засеяли поля. Начали они часто
посещать монастырь, принося различные нужные вещи»

6) «Тогда призвал к себе окаянный треклятый Святополк сообщников
злодеяния и зачинщиков всей неправды, отверз свои прескверные уста и
вскричал щлобным голосом Путьшиной дружине: «Раз вы обещали
положить за Меня свои головы, то идите тайно, братья мои, и где встретите
брата моего..., убейте его». И они обещали ему сделать это»

Литературные памятники:

А) «Повесть о разорении Рязани Батыем»

Б) «Задонщина»

В) Житие Александра Невского

Г) Житие Сергия Радонежского

Д) Сказание о Борисе и Глебе

Е) «Слово о полку Игореве»

b. Тип вопроса: сопоставление множеств

c. Ответ: 1А 2В 3Б 4Е 5Г 6Д

d. Решение — не требуется

5. Вариант 2

a. Соотнесите фрагменты древнерусских литературных памятников и их
названия.

Фрагменты:

1) «Устанавливается в обители общежительство. И распределяет блаженный
пастырь братию по службам: одного ставит келарем, а других в поварню для
печения хлеба, ещё одного назначает немощным служить со всяческим
прилежанием. Всё это чудесный тот человек хорошо устроил»

2) «И не остановился на этом убийстве окаянный Святополк, но в
неистовстве своём стал готовиться на большее преступление. И, увидев
осуществление заветного желания своего, не думал о злодейском своём
убийстве и о тяжести греха, и нимало не раскаивался в содеянном»

3) «Был город..., и земля была..., и исчезло богатство её, и отошла слава её,
и нельзя было увидеть в ней никаких благ её – только дым и пепел: и церкви
все погорели, и великая церковь внутри изгорела и почернела. И не только
этот город пленён был, но и иные многие. Не стало в городе ни пения, ни
звона; вместо радости – плач напрестанный»

4) «Была же тогда суббота, и когда взошло солнце, сошлись противники. И
была сеча жестокая, и стоял треск от ломающихся копий и звон от ударов
мечей, и казалось, что двинулось замёрзшее озеро, и не было видно льда,
ибо покрылось оно кровью»



5) «Быть грому великому, идти дождю стрелами с Дона великого! Тут копьям преломиться, тут саблям иступиться о шеломы половецкие, на реке на Каяле, у Дона великого»

б) «И метнулся поганый Мамай от своей дружины серым волком и прибежал к Кафе-городу. И молвили ему фряги: «Что же это ты, поганый Мамай, заришься на Русскую землю? Ведь побила теперь тебя орда Залесская»

Литературные памятники:

А) «Повесть о разорении Рязани Батыем»

Б) «Задонщина»

В) Житие Александра Невского

Г) Житие Сергия Радонежского

Д) Сказание о Борисе и Глебе

Е) «Слово о полку Игореве»

б. Тип вопроса: сопоставление множеств

с. Ответ: 1Г 2Д 3А 4В 5Е 6Б

д. Решение — не требуется

6. Вариант 3

а. Соотнесите фрагменты древнерусских литературных памятников и их названия.

Фрагменты:

1) «И на восходе солнца вступили в бой, и была сеча зла, трижды вступали в схватку и так бились целый день, и лишь к вечеру одолел Ярослав, а окаянный Святополк обратился в бегство. И обуяло его безумие, и так ослабели суставы его, что не мог сидеть на коне, и несли его на носилках»

2) «К славному городу Москве съехались все князья русские и говорили таково слово: «У Дона стоят татары поганые, Мамай-царь у реки Мечи, между Чуровым и Михайловым, хотят реку перейти и с жизнью своей расстаться нам во славу»

3) «С раннего утра и до вечера, с вечера до рассвета летят стрелы калёные, гремят сабли о шеломы, трещат копыта булатные в поле чужом среди земли Половецкой. Чёрная земля под копытами козьими посеяна, а кровью полита; бедами взошли они на Русской земле!»

4) «И многих горожан убили, а иных ранили, а иные от великих трудов изнемогли. А в шестой день спозаранку пошли поганые на город – одни с огнями, другие с пороками, а третьи с бесчисленными лестницами – и взяли град... месяца декабря в двадцать первый день»

5) «А был ими уже взят город Псков и наместники немецкие посажены. Он же вскоре изгнал их из Пскова и немцев перебил, а иных связал и город освободил от безбожных немцев, а землю их повоевал и пожёг и пленных взял бесчисленное множество, а других перебил»

б) «...Он без ленности братии как купленный раб служил: и дрова для всех колот, и толок зерно, и хлеб пёк, и еду варил, обувь и одежду шил, и воду в двух вёдрах на своих плечах в гору носил и каждому у кельи ставил»

Литературные памятники:

А) «Повесть о разорении Рязани Батыем»

Б) «Задонщина»

В) Житие Александра Невского

Г) Житие Сергия Радонежского

Д) Сказание о Борисе и Глебе

Е) «Слово о полку Игореве»



- b. Тип вопроса: сопоставление множеств
- c. Ответ: 1Д 2Б 3Е 4А 5В 6Г
- d. Решение — не требуется

- 1. История
- 2. Задание 15. Пропуски в тексте
- 3. 9
- 4. Вариант 1

- a. Тип вопроса: заполнение вписыванием После разгрома под ____ (1 – город) ____ в ____ (2 – год) ____ году шведский король Карл XII вместе с поддержавшим его гетманом Иваном ____ (3 – фамилия) ____ бежал в Османскую империю. Подстрекаемый самим Карлом и другими европейскими державами, уже в следующем году султан объявил России войну. Стремясь перехватить инициативу у противника, Пётр I с 40-тысячной армией двинулся в турецкие владения – к берегам реки ____ (4 – река) ____ . Замысел оказался неудачным: силы царя были окружены многократно превосходящими их войсками султана.

Ради сохранения армии Пётр был готов на колоссальные уступки, вплоть до возвращения Швеции большинства отвоёванных у неё земель. Но в результате переговоров мир удалось заключить на максимально приемлемых для России условиях: российская сторона обязалась вернуть туркам крепость ____ (5 – название крепости) ____ и разрушить соседнюю крепость ____ (6 – название крепости) ____, уничтожить флот на ____ (7 – название моря) ____ море, а также беспрепятственно пропустить Карла XII в Швецию. Успех в переговорах был достигнут во многом благодаря таланту дипломата Петра ____ (8 – фамилия) ____ . Впрочем, предание гласит, что значительную роль тогда сыграла царская невеста Марта ____ (9 – фамилия) ____, сопровождавшая Петра в походе и якобы пожертвовавшая своими драгоценностями ради заключения мира. По возвращении в Россию царь сыграет с ней пышную свадьбу.

- b. Тип вопроса: заполнение вписыванием
- c. Ответ: 1-Полтава ИЛИ Полтавой 2-1709 3-Мазепа ИЛИ Мазепой 4-Прут 5-Азов 6-Таганрог 7-Азовское ИЛИ Азовском 8-Шафиров ИЛИ Шафирова 9-Скавронская ИЛИ Сковронская
- d. Решение — не требуется

- 5. Вариант 2

- a. К 1760 году русская армия, самая многочисленная и одна из самых боеспособных в Европе, достигла значительных успехов в масштабном общеевропейском конфликте, который вошёл в историю как ____ (1 – название войны) ____ война. Главный противник России в этой войне, ____ (2 – государство) ____, потерпел несколько чувствительных поражений и уступил русским войскам ряд территорий. Король ____ (3 – имя короля) ____ II, несмотря на репутацию талантливого полководца, находился в отчаянии и признавался, что «считает всё потерянным». Русские подразделения под командованием фельдмаршала Захара ____ (4 – фамилия) ____ даже вошли во вражескую столицу, ____ (5 – город) ____, правда, вскоре отступили, успев уничтожить ряд стратегически важных объектов в городе. Россия готовилась присоединить оккупированные ей территории на Балтике.

Перелом в войне наступил неожиданно. В декабре ____ (6 – год) ____ года скончалась русская императрица ____ (7 – имя) ____ (8 – отчество) ____,



и на престол взошёл её ____ (9 – степень родства) ____ Пётр. Из соображений личных симпатий к королю враждебной страны он в корне переменял курс внешней политики России: разорвал связи с союзниками, подписал сепаратный мир и вернул вчерашнему противнику все завоёванные Россией земли. Это ухудшило отношение российских элит к и без того непопулярному новому императору и приблизило его скорое свержение.

- b. Тип вопроса: заполнение вписыванием
- c. Ответ: 1-Семилетняя 2-Пруссия 3-Фридрих 4-Чернышев ИЛИ Чернышева ИЛИ Чернышёв ИЛИ Чернышёва ИЛИ Чернышов ИЛИ Чернышова 5-Берлин 6-1761 7-Елизавета 8-Петровна 9-племянник
- d. Решение — не требуется

6. Вариант 3

- a. После второго раздела в ____ (1 – год) ____ году Речь Посполитая оказалась в колоссальной зависимости от России и ____ (2 – государство) ____, что вызывало крайнее недовольство польских элит. В следующем году в стране началось мощное национально-освободительное движение под предводительством поляка Тадеуша ____ (3 – фамилия) ____, героя войны за независимость США. Повстанцы сумели одержать ряд побед, но в конечном счёте регулярные русские войска под командованием прославленного полководца ____ (4 – фамилия) ____ подавили выступление и штурмом взяли Варшаву. Лидер восстания был пленён и доставлен в Петербург, пройдёт несколько лет, и его выпустит на свободу император ____ (5 – имя) ____ . Следствием восстания стал третий раздел Речи Посполитой в октябре ____ (6 – год) ____ года. К России отошли Западная ____ (7 – название области) ____, Волынь, Литва, а также герцогство ____ (8 – название) ____, оставшиеся польские земли разделили ____ (2 – государство) ____ и Австрия. Речь Посполитая перестала существовать как самостоятельное государство, а король Станислав Август ____ (9 – фамилия) ____ перебрался в Россию, где вскоре и скончался.
- b. Тип вопроса: заполнение вписыванием
- c. Ответ: 1-1793 2-Пруссия ИЛИ Пруссии 3-Костюшко 4-Суворов ИЛИ Суворова 5-Павел ИЛИ Павел Первый ИЛИ Павел I 6-1795 7-Белоруссия ИЛИ Беларусь 8-Курляндия ИЛИ Курляндское 9-Понятовский
- d. Решение — не требуется

1. История

2. Задание 16. Верно или неверно?

3. 4

4. Вариант 1

- a. Выберите из перечня исторических фактов четыре верных и запишите буквы, которыми они обозначены, в поле ответа.
 - А) Папа Римский выступал против борьбы крестоносцев с Новгородом в первой половине XIII;
 - Б) Эпидемия чёрной смерти в XIV веке не достигла Московского княжества;
 - В) Судебник Ивана IV был принят после того, как он венчался на царство;
 - Г) Лидерами Первого народного ополчения были Иван Заруцкий и Иван Сусанин;
 - Д) Александр Меншиков планировал выдать замуж за Петра II свою дочь;
 - Е) Реформу просвещения при Екатерине II провёл Григорий Спиридов;
 - Ж) Одним из последствий польского восстания 1830–1831 годов было



- упразднение Конституции Царства Польского;
3) Александр II имел детей как от первого, так и от второго брака.
- b. Тип вопроса: выбор нескольких из нескольких
c. Ответ: ВДЖЗ
d. Решение — не требуется
5. Вариант 2
- a. Выберите из перечня исторических фактов четыре верных и запишите буквы, которыми они обозначены, в поле ответа.
А) Прежде чем крестить Русь, князь Владимир пытался реформировать язычество;
Б) После перенесения резиденции митрополита Киевского в Москву главами русской церкви больше никогда не становились греки;
В) Храм покровы на Рву был возведён по случаю рождения будущего Ивана Грозного;
Г) Соборным уложением в государстве вводился бессрочный сыск беглых крестьян;
Д) Кунсткамера появилась при жизни Петра I;
Е) Ясский мирный договор был подписан до подавления Пугачёвского восстания;
Ж) Декабристы Павел Пестель, Сергей Трубецкой и Никита Муравьёв принадлежали к «Северному обществу»;
З) Конечным пунктом Транссибирской магистрали был Владивосток.
- b. Тип вопроса: выбор нескольких из нескольких
c. Ответ: АГДЗ
d. Решение — не требуется
6. Вариант 3
- a. Выберите из перечня исторических фактов четыре верных и запишите буквы, которыми они обозначены, в поле ответа.
А) Северо-Западная Русь торговала с Ганзейским союзом активнее, чем Северо-Восточная Русь;
Б) Всеволод Большое Гнездо был прямым потомком Ярослава Мудрого;
В) Рязань окончательно вошла в состав Московского государства позже, чем Тверь;
Г) Храм покровы на Рву был возведён по случаю взятия Астрахани;
Д) Восстание Булавина продолжалось и после смерти предводителя;
Е) Запорожская Сечь была упразднена при Елизавете Петровне;
Ж) Все конгрессы Священного союза проходили за пределами России;
З) Институт суда присяжных в России существовал и до судебной реформы 1864 года.
- b. Тип вопроса: выбор нескольких из нескольких
c. Ответ: АБГЖ
d. Решение — не требуется



1. История
2. Задание 17. История глазами художника
3. 4
4. Вариант 1
 - а. Перед Вами работы русского художника Василия Сурикова, посвящённые разным сюжетам русской истории. Соотнесите картины и годы событий, изображённых на них.

Фрагменты:

1.



2.



olympmo.ru



[@olymp_mo](https://www.instagram.com/olymp_mo)



[/olympmo](https://www.facebook.com/olympmo)



[/olympmo](https://vk.com/olympmo)



[@olympmo](https://www.telegram.com/@olympmo)

3.



4.



Годы:

А) 1582 г.

Б) 1671 г.

В) 1698 г.

Г) 1728–1729 гг.

b. Тип вопроса: сопоставление множеств

c. Ответ: 1В 2Б 3А 4Г

d. Решение — не требуется



olympmo.ru



@olymp_mo



/olympmo



/olympmo



@olympmo

5. Вариант 2

- а. Перед Вами работы русского художника Эрнеста Лиснера, посвящённые разным сюжетам русской истории. Соотнесите картины и годы событий, изображённых на них.

Фрагменты:

1.



2.



olympmo.ru



@olymp_mo



/olympmo



/olympmo



@olympmo

3.



4.



Годы:

А) 1380 г.

Б) 1613 г.

В) 1648 г.

Г) 1662 г.

b. Тип вопроса: сопоставление множеств

c. Ответ: 1А 2Б 3Г 4В

d. Решение — не требуется



olympmo.ru



@olymp_mo



/olympmo



/olympmo



@olympmo

6. Вариант 3

- а. Перед вами работы русского художника Алексея Кившенко, посвящённые разным сюжетам русской истории. Соотнесите картины и годы событий, изображённых на них.

Фрагменты:

1.



2.



3.



4.



Годы:

А) 1478 г.

Б) 1480 г.

В) 1613 г.

Г) 1654 г.

b. Тип вопроса: сопоставление множеств

c. Ответ: 1Б 2В 3Г 4А

d. Решение — не требуется



olympmo.ru



@olymp_mo



/olympmo



/olympmo



@olympmo

1. История
2. Задание 18. События на картинах
3. 5
4. Вариант 1
 - a. Перед Вами два изображения одного и того же эпизода русской военной истории. Выберите из списка три верных факта, относящихся к этому событию.



- A) в ходе этого сражения погиб русский адмирал Нахимов;
 - Б) сражение произошло в акватории Чёрного моря;
 - В) сражение произошло в том же году, в котором в России сменился император;
 - Г) с обеих сторон в сражении участвовали парусные суда;
 - Д) война, в рамках которой состоялось сражение, завершилась поражением России;
 - Е) в сражении российской эскадре противостояли корабли нескольких иностранных флотов.
- b. Тип вопроса: выбор нескольких из нескольких
 - c. Ответ: БГД
 - d. Решение — не требуется



5. Вариант 2

- а. Перед Вами два изображения одного и того же события русской истории. Выберите из списка три верных факта, относящихся к этому событию.



- А) сражение произошло после того, как французская армия захватила Москву;
 Б) в ходе сражения погиб русский генерал Багратион;
 В) для русских войск сражение носило оборонительный характер;
 Г) война, эпизодом которой было это сражение, завершилась подписанием Кючук-Кайнарджийского мира;
 Д) город, под которым произошло сражение, окончательно вошёл в состав России по условиям Андрусовского перемирия;
 Е) город, под которым произошло сражение, стоит на реке Днепр.
- b. Тип вопроса: выбор нескольких из нескольких
 c. Ответ: ВДЕ
 d. Решение — не требуется



6. Вариант 3

- а. Перед Вами два изображения одного и того же события русской истории. Выберите из списка три верных факта, относящихся к этому событию.



- А) осада завершилась неудачно для русских войск;
 Б) в честь героев осады в Москве был воздвигнут памятник-часовня;
 В) крепость, которую осаждали русские войска, в настоящее время находится за пределами России;
 Г) война, в ходе которой проходила осада, продолжалась почти пять лет;
 Д) военачальник, руководивший осадой, позднее попал во вражеский плен;
 Е) военачальник, руководивший осадой, имел прозвище «белый генерал».
- b. Тип вопроса: выбор нескольких из нескольких
 c. Ответ: БВЕ
 d. Решение — не требуется

1. История
2. Задание 19. Работа с документом
3. 6
4. Вариант 1

- а. Перед Вами перевод фрагмента послания русского царя английской королеве. Прочитайте данный фрагмент и выберите из предложенного перечня четыре верных факта о его содержании.

«Некоторое время тому назад брат твой, король Эдуард, послал нескольких своих людей, Ричарда и других, для каких-то надобностей по всем странам мира и писал ко всем королям, и царям, и властителям, и управителям. А на наше имя ни одного слова послано не было. Неизвестно, каким образом, волею или неволею, эти люди твоего брата, Ричард с товарищами, пристали к морской пристани у нашей крепости на Двине. Тогда мы, как подобает



государям христианским, милостиво оказали им честь, приняли и угостили их за государевыми парадными столами, пожаловали и отпустили к твоему брату. А затем приехал к нам от твоего брата тот же Ричард Ричардов [Ченслер] и Ричард Грей. Мы их также пожаловали и отпустили с честью. И после того как к нам приехал от твоего брата Ричард Ричардов, мы послали к твоему брату своего посланника Осипа Григорьевича Непею. А купцам твоего брата и всем англичанам мы дали такую свободную жалованную грамоту, какую даже из наших купцов никто не получал, а надеялись за это на великую дружбу со стороны вашего брата и вас и на верную службу всех англичан. В то время, когда мы послали своего посланника, брат твой Эдуард скончался и на королевство вступила твоя сестра Мария; спустя некоторое время она вышла замуж за испанского короля Филиппа. И испанский король Филипп и сестра твоя Мария приняли нашего посланника с честью и к нам отпустили, но поручения с ним никакого не передали. В то же время ваши английские купцы начали совершать над нашими купцами многие беззакония и свои товары начали продавать по столь дорогой цене, какой они не стоят. А после этого стало нам известно, что сестра твоя, королева Мария, скончалась, а испанского короля Филиппа англичане выслали из королевства, а на престол посадили тебя. Но мы и в этом случае не учинили твоим купцам никаких притеснений и предложили им торговать по-прежнему»

А) Под «крепостью на Двине» подразумевается город Архангельск;

Б) Адресат письма – королева Мария Стюарт;

В) Адресат письма исповедовала англиканство;

Г) Автор письма подчёркивает, что инициатором торговых взаимоотношений между Московским государством и Англией была английская сторона;

Д) Данное письмо было отправлено до принятия Новоторгового устава;

Е) Автор письма возмущён тем, что русский посланник был оскорблён английской стороной;

Ж) Данное письмо было отправлено после захвата Константинополя турками-османами.

b. Тип вопроса: выбор нескольких из нескольких

c. Ответ: ВГДЖ

d. Решение — не требуется

5. Вариант 2

a. Перед Вами перевод фрагмента послания русского царя. Прочитайте данный фрагмент и выберите из предложенного перечня четыре верных факта о его содержании.

«Когда же суждено было по божьему предначертанию родительнице нашей, благочестивой царице Елене, переселиться из земного царства в небесное, остались мы с почившим в бозе братом Георгием круглыми сиротами — никто нам не помогал; осталась нам надежда только на бога, и на пречистую богородицу, и на всех святых молитвы, и на благословение родителей наших. Было мне в это время восемь лет; и так подданные наши достигли осуществления своих желаний — получили царство без правителя, об нас же, государях своих, никакой заботы сердечной не проявили, сами же ринулись к богатству и славе, и перессорились при этом друг с другом. И чего только они не натворили! Скольким бояр наших, и доброжелателей нашего отца и воевод перебили! Дворы, и села, и имущество наших дядей взяли себе и водворились в них. И сокровища матери перенесли в Большую казну, при



этом неистово пиная ногами и тыча в них палками, а остальное разделяли. А ведь делал это дед твой, Михаило Тучков. Тем временем князь Василий и Иван Шуйские самовольно навязались мне в опекуны и таким образом воцарились; тех же, кто более всех изменял отцу нашему и матери нашей, выпустили из заточения и приблизили к себе. А князь Василий Шуйский поселился на дворе нашего дяди, князя Андрея, и на этом дворе его люди, собравшись, подобно иудейскому сонмищу, схватили Федора Мишурина, ближнего дьяка при отце нашем и при нас, и, опозорив его, убили; и князя Ивана Федоровича Бельского и многих других заточили в разные места; и на церковь руку подняли; свергнув с престола митрополита Даниила, послали его в заточение; и так осуществили все свои замыслы и сами стали царствовать. Нас же с единокровным братом моим, в бозе почившим Георгием, начали воспитывать как чужеземцев или последних бедняков. Тогда натерпелись мы лишений и в одежде и в пище. Ни в чем нам воли не было, но все делали не по своей воле и не так, как обычно поступают дети»

- А) «Царица Елена», упоминаемая в тексте, – Елена Глинская;
- Б) Адресат письма – Андрей Курбский;
- В) В приведённом фрагменте царь аргументирует жестокость, проявленную им к боярам уже в зрелом возрасте;
- Г) В тексте упоминается царь, правивший в 1606–1610 годах;
- Д) В тексте речь идёт о событиях периода Семибоярщины;
- Е) В приведённом фрагменте царь обвиняет адресата послания в причастности к гибели его отца;
- Ж) Автор письма был первым русским правителем, венчавшимся на царство.

- b. Тип вопроса: выбор нескольких из нескольких
- c. Ответ: АБВЖ
- d. Решение — не требуется

6. Вариант 3

- a. Перед Вами перевод фрагмента послания русского царя. Прочитайте данный фрагмент и выберите из предложенного перечня четыре верных факта о его содержании.

«Когда же суждено было по божьему предначертанию родительнице нашей, благочестивой царице Елене, переселиться из земного царства в небесное, остались мы с почившим в бозе братом Георгием круглыми сиротами — никто нам не помогал; осталась нам надежда только на бога, и на пречистую богородицу, и на всех святых молитвы, и на благословение родителей наших. Было мне в это время восемь лет; и так подданные наши достигли осуществления своих желаний — получили царство без правителя, об нас же, государях своих, никакой заботы сердечной не проявили, сами же ринулись к богатству и славе, и перессорились при этом друг с другом. И чего только они не натворили! Сколько бояр наших, и доброжелателей нашего отца и воевод перебили! Дворы, и села, и имущество наших дядей взяли себе и водворились в них. И сокровища матери перенесли в Большую казну, при этом неистово пиная ногами и тыча в них палками, а остальное разделяли. А ведь делал это дед твой, Михаило Тучков. Тем временем князь Василий и Иван Шуйские самовольно навязались мне в опекуны и таким образом воцарились; тех же, кто более всех изменял отцу нашему и матери нашей, выпустили из заточения и приблизили к себе. А князь Василий Шуйский поселился на дворе нашего дяди, князя Андрея, и на этом дворе его люди, собравшись, подобно иудейскому сонмищу, схватили Федора Мишурина,



ближнего дьяка при отце нашем и при нас, и, опозорив его, убили; и князя Ивана Федоровича Бельского и многих других заточили в разные места; и на церковь руку подняли; свергнув с престола митрополита Даниила, послали его в заточение; и так осуществили все свои замыслы и сами стали царствовать. Нас же с единокровным братом моим, в бозе почившим Георгием, начали воспитывать как чужеземцев или последних бедняков. Тогда натерпелись мы лишений и в одежде и в пище. Ни в чем нам воли не было, но все делали не по своей воле и не так, как обычно поступают дети»

- А) Адресат письма – Алексей Адашев;
- Б) Автор письма был прямым потомком Ивана III;
- В) «Царица Елена», упоминаемая в тексте, – Елена Глинская;
- Г) В тексте упоминается митрополит, казнённый во время Опричнины;
- Д) В тексте речь идёт о событиях первой половины XVI века;
- Е) В приведённом фрагменте царь обвиняет адресата послания в причастности к гибели его брата;
- Ж) В приведённом фрагменте царь аргументирует жестокость, проявленную им к боярам уже в зрелом возрасте.

- b. Тип вопроса: выбор нескольких из нескольких
- c. Ответ: БВДЖ
- d. Решение — не требуется

1. История

2. Задание 20. Трудности перевода

3. 5

4. Вариант 1

- a. Перед Вами список имён правителей Великого княжества Литовского на литовском языке. Укажите имя каждого князя в привычном для нас русскоязычном варианте.

- 1. Algirdas
- 2. Jogaila
- 3. Mindaugas
- 4. Gediminas
- 5. Vytautas

- b. Тип вопроса: заполнение вписыванием
- c. Ответ: 1-Ольгерд 2-Ягайло 3-Миндовг 4-Гедимин 5-Витовт
- d. Решение — не требуется

5. Вариант 2

- a. Перед Вами список имён правителей Великого княжества Литовского на польском языке. Укажите имя каждого князя в привычном для нас русскоязычном варианте.

- 1. Mendog
- 2. Giedymin
- 3. Jagiełło
- 4. Witold
- 5. Olgierd

- b. Тип вопроса: заполнение вписыванием
- c. Ответ: 1-Миндовг 2-Гедимин 3-Ягайло ИЛИ Ягелло 4-Витовт 5-Ольгерд
- d. Решение — не требуется

6. Вариант 3

- a. Перед Вами список имён правителей Великого княжества Литовского на латышском языке. Укажите имя каждого князя в привычном для нас



русскоязычном варианте.

1. Mindaugs
2. Vītauts
3. Ģedimins
4. Jagailis
5. Aļģirds

- b. Тип вопроса: заполнение вписыванием
- c. Ответ: 1-Миндовг 2-Витовт 3-Гедимин 4-Ягайло 5-Ольгерд
- d. Решение — не требуется

1. История
2. Задание 21. Прозвища правителей
3. 6
4. Вариант 1

- a. Перед Вами перечень деятельниц зарубежной истории и список вторых имён, фамилий или устоявшихся в исторической науке прозвищ этих деятельниц. Соотнесите значения первого и второго столбцов.

Деятели:

- 1) Христофору Колумбу покровительствовали Фердинанд Арагонский и Изабелла...
- 2) в XVIII веке на протяжении сорока лет империей Габсбургов управляла императрица Мария...
- 3) супругой казнённого в ходе Французской революции короля Людовика XVI была Мария...
- 4) попыткой восстановить в Англии католичество и масштабными преследованиями протестантов прославилась королева Мария...
- 5) матерью трёх королей Франции, сторонницей преследований гугенотов и инициатором «Варфоломеевской ночи» считается королева Екатерина...
- 6) второй женой Генриха VIII, казнённой по его приказу, была Анна...

Прозвища, фамилии или вторые имена:

- A) Терезия
- B) Антуанетта
- B) Кастильская
- Г) Болейн
- Д) Кровавая
- E) Медичи

- b. Тип вопроса: сопоставление множеств
- c. Ответ: 1В 2А 3Б 4Д 5Е 6Г
- d. Решение — не требуется

5. Вариант 2

- a. Перед Вами перечень деятелей зарубежной истории и список устоявшихся в исторической науке прозвищ этих деятелей. Соотнесите значения первого и второго столбцов.

Деятели:

- 1) правителем Саксонии и Речи Посполитой во времена Северной войны был Август...
- 2) решающую роль в разгроме турок в битве под Веной сыграл польский король Ян...
- 3) во время Войны за австрийское наследство в Пруссии правил Фридрих...
- 4) после Славной революции в Англии английским королём стал Вильгельм...



- 5) Османскую империю к пику её развития привёл султан Сулейман...
6) фундамент будущего колониального развития Португалии заложил король Генрих...

Прозвища:

- А) Оранский
- Б) Мореплаватель
- В) Собеский
- Г) Великий
- Д) Великолепный
- Е) Сильный

- b. Тип вопроса: сопоставление множеств
- c. Ответ: 1Е 2В 3Г 4А 5Д 6Б
- d. Решение — не требуется

6. Вариант 3

- a. Перед Вами перечень деятелей зарубежной истории и список устоявшихся в исторической науке прозвищ этих деятелей. Соотнесите значения первого и второго столбцов.

Деятели:

- 1) Османскую империю к пику её развития привёл султан Сулейман...
- 2) после Славной революции в Англии английским королём стал Вильгельм...
- 3) решающую роль в разгроме турок в битве под Веной сыграл польский король Ян...
- 4) фундамент будущего колониального развития Португалии заложил король Генрих...
- 5) во время Войны за австрийское наследство в Пруссии правил Фридрих...
- 6) правителем Саксонии и Речи Посполитой во времена Северной войны был Август...


Прозвища:

- А) Великолепный
- Б) Сильный
- В) Мореплаватель
- Г) Собеский
- Д) Великий
- Е) Оранский

- b. Тип вопроса: сопоставление множеств
- c. Ответ: 1А 2Е 3Г 4В 5Д 6Б
- d. Решение — не требуется



1. История
2. Задание 22. Культура в лицах
3. 8
4. Вариант 1
 - а. Перед Вами портреты четырёх видных деятелей русской культуры и список созданных ими произведений. Укажите фамилии лиц на портретах и соотнесите произведения с их авторами. Внимание – одно произведение в списке является лишним.



Произведения:

- А) роман «Отцы и дети»
- Б) опера «Князь Игорь»
- В) поэма «Мёртвые души»
- Г) балет «Лебединое озеро»
- Д) басня «Стрекоза и муравей»

- б. Тип вопроса: заполнение вписыванием, сопоставление множеств
- с. Ответ: 1-Тургенев-А 2-Чайковский-Г 3-Крылов-Д 4-Бородин-Б
- д. Решение — не требуется



olympmo.ru



@olymp_mo



/olympmo



/olympmo



@olympmo

5. Вариант 2

- а. Перед Вами портреты четырёх видных деятелей русской культуры и список созданных ими произведений. Укажите фамилии лиц на портретах и соотнесите произведения с их авторами. Внимание – одно произведение в списке является лишним.



Произведения:

- А) роман «Обломов»
Б) опера «Жизнь за царя»
В) сборник «Вечера на хуторе близ Диканьки»
Г) опера «Хованщина»
Д) повесть «Пиковая дама»
- б. Тип вопроса: заполнение вписыванием, сопоставление множеств
с. Ответ: 1-Глинка-Б 2-Гончаров-А 3-Гоголь-В 4-Мусоргский-Г
д. Решение — не требуется



olympmo.ru



@olymp_mo



/olympmo




/olympmo



@olympmo

6. Вариант 3

- а. Перед Вами портреты четырёх видных деятелей русской культуры и список созданных ими произведений. Укажите фамилии лиц на портретах и соотнесите произведения с их авторами. Внимание – одно произведение в списке является лишним.



Произведения:

- А) роман «Преступление и наказание»
- Б) балет «Щелкунчик»
- В) пьеса «Гроза»
- Г) опера «Хованщина»
- Д) роман «Дубровский»

- б. Тип вопроса: заполнение вписыванием, сопоставление множеств
с. Ответ: 1-Чайковский-Б 2-Мусоргский-Г 3-Островский-В 4-Достоевский-А
д. Решение — не требуется



olympmo.ru



@olymp_mo



/olympmo



/olympmo



@olympmo

6) Максимальный балл – 100.

Таблица (для удобства ориентации в комплекте):

| | | | |
|-----|---|-----|-----|
| 1. | 2 | 13. | 12 |
| 2. | 2 | 14. | 6 |
| 3. | 2 | 15. | 9 |
| 4. | 2 | 16. | 4 |
| 5. | 2 | 17. | 3 |
| 6. | 2 | 18. | 5 |
| 7. | 2 | 19. | 5 |
| 8. | 2 | 20. | 5 |
| 9. | 5 | 21. | 6 |
| 10. | 5 | 22. | 8 |
| 11. | 5 | | 100 |
| 12. | 6 | | |

КРИТЕРИИ ОЦЕНКИ ЗАДАНИЙ ДЛЯ 10 КЛАССА:

1. 2 балла за верный ответ, 0 баллов за неверный.
2. 2 балла за верный ответ, 0 баллов за неверный.
3. 2 балла за верный ответ, 0 баллов за неверный.
4. 2 балла за верный ответ, 0 баллов за неверный.
5. 2 балла за верный ответ, 0 баллов за неверный.
6. 2 балла за верный ответ, 0 баллов за неверный.
7. 2 балла за верный ответ, 0 баллов за неверный.
8. 2 балла за верный ответ, 0 баллов за неверный.
9. 1 балл за один верный ответ, 3 балла за два, 5 баллов за три.
10. 1 балл за один верный ответ, 3 балла за два, 5 баллов за три.
11. 1 балл за один верный ответ, 3 балла за два, 5 баллов за три.
12. 1 балл за каждое верное соотнесение.
13. 1 балл за каждое верно указанное название города. 1 балл за каждую верно соотнесённую букву. Если название города указано ошибочно или не указано, а буква соотнесена верно, балл за букву не ставится.
14. 1 балл за каждое верное соотнесение.
15. 1 балл за каждый верно заполненный пропуск.
16. 1 балл за каждый верный ответ.
17. 3 балла за полностью верный ответ, 2 балла при 1 ошибке, 1 балл при двух ошибках, 0 баллов при трёх ошибках.
18. 1 балл за один верный ответ, 3 балла за два, 5 баллов за три.
19. 1 балл за каждый верный ответ, за 4 верных ответа – 5 баллов.
20. 1 балл за каждый верный ответ.
21. 1 балл за каждое верное соотнесение.
22. 2 балла за каждую верную «тройку»: цифра-фамилия-буква. Если фамилия или буква указаны ошибочно, выставляется 0 баллов.

