

**ВСЕРОССИЙСКАЯ ОЛИМПИАДА ШКОЛЬНИКОВ
ПО ИСТОРИИ
2020-2021 УЧЕБНЫЙ ГОД
МОСКОВСКАЯ ОБЛАСТЬ
ШКОЛЬНЫЙ ЭТАП**

11 класс

- 1) 90 минут
- 2) Список заданий:
 1. История
 2. Задание 1. Знание терминологии отечественной истории
 3. 2
 4. Вариант 1
 - a. Какая из этих аббревиатур появилась в советском государстве позже всего?
А) ВЛКСМ
Б) ВХУТЕМАС
В) СМЕРШ
Г) ОГПУ
 - b. Тип вопроса: выбор одного из нескольких
 - c. Ответ: В
 - d. Решение — не требуется
 5. Вариант 2
 - a. Какая из этих аббревиатур появилась в советском государстве позже всего?
А) ВЦИК
Б) МТС
В) ОСОАВИАХИМ
Г) МГБ
 - b. Тип вопроса: выбор одного из нескольких
 - c. Ответ: Г
 - d. Решение — не требуется
 6. Вариант 3
 - a. Какая из этих аббревиатур появилась в советском государстве позже всего?
А) НКВД
Б) СМЕРШ
В) ЗСФСР
Г) ВАСХНИЛ
 - b. Тип вопроса: выбор одного из нескольких
 - c. Ответ: Б
 - d. Решение — не требуется

1. История
2. Задание 2. Знание терминологии зарубежной истории
3. 2
4. Вариант 1
 - a. Какое из этих понятий не связано с событиями Великой Французской революции?
А) роялисты
Б) коммунары



- В) жирондисты
 - Г) якобинцы
 - b. Тип вопроса: выбор одного из нескольких
 - c. Ответ: Б
 - d. Решение — не требуется
5. Вариант 2
- a. Какое из этих понятий не связано с событиями Английской революции?
 - А) кавалеры
 - Б) диггеры
 - В) левеллеры
 - Г) якобиты
 - b. Тип вопроса: выбор одного из нескольких
 - c. Ответ: Г
 - d. Решение — не требуется
6. Вариант 3
- a. Какое из этих понятий не связано с событиями Английской революции?
 - А) чартисты
 - Б) пресвитериане
 - В) индепенденты
 - Г) кавалеры
 - b. Тип вопроса: выбор одного из нескольких
 - c. Ответ: А
 - d. Решение — не требуется

- 1. История
- 2. Задание 3. Знание дат отечественной истории
- 3. 2
- 4. Вариант 1

- a. Какой из этих временных промежутков не связан с русско-польскими войнами?
 - А) 1590–1595 гг.
 - Б) 1609–1618 гг.
 - В) 1632–1634 гг.
 - Г) 1654–1667 гг.
 - b. Тип вопроса: выбор одного из нескольких
 - c. Ответ: А
 - d. Решение — не требуется
5. Вариант 2
- a. Какой из этих временных промежутков не связан с русско-шведскими войнами?
 - А) 1610–1617 гг.
 - Б) 1632–1634 гг.
 - В) 1656–1658 гг.
 - Г) 1741–1743 гг.
 - b. Тип вопроса: выбор одного из нескольких
 - c. Ответ: Б
 - d. Решение — не требуется
6. Вариант 3
- a. Какой из этих временных промежутков не связан с русско-турецкими войнами?
 - А) 1735–1739 гг.



Б) 1741–1743 гг.

В) 1768–1774 гг.

Г) 1787–1791 гг.

b. Тип вопроса: выбор одного из нескольких

c. Ответ: Б

d. Решение — не требуется

1. История

2. Задание 4. Знание дат зарубежной истории

3. 2

4. Вариант 1

a. Какой из этих годов не связан с битвами Столетней войны?

А) 1346 г.

Б) 1415 г.

В) 1428 г.

Г) 1453 г.

b. Тип вопроса: выбор одного из нескольких

c. Ответ: любой вариант засчитывается как верный

d. Решение — не требуется

5. Вариант 2

a. Какой из этих временных промежутков не связан с Крестовыми походами?

А) 1096–1099 гг.

Б) 1112–1115 гг.

В) 1147–1149 гг.

Г) 1189–1192 гг.

b. Тип вопроса: выбор одного из нескольких

c. Ответ: Б

d. Решение — не требуется

6. Вариант 3

a. Какой из этих годов не связан с событиями Реконквисты?

А) 1066 г.

Б) 1094 г.

В) 1108 г.

Г) 1492 г.

b. Тип вопроса: выбор одного из нескольких

c. Ответ: А

d. Решение — не требуется

1. История

2. Задание 5. Знание деятелей отечественной истории

3. 2

4. Вариант 1

a. Какой из этих исторических деятелей не был министром внутренних дел России?

А) Дмитрий Толстой

Б) Пётр Валуев

В) Михаил Лорис-Меликов

Г) Александр Горчаков

b. Тип вопроса: выбор одного из нескольких

c. Ответ: Г

d. Решение — не требуется



5. Вариант 2
- a. Какой из этих исторических деятелей не был военным министром России?
 - А) Дмитрий Милютин
 - Б) Михаил Барклай-де-Толли
 - В) Карл Нессельроде
 - Г) Алексей Аракчеев
 - b. Тип вопроса: выбор одного из нескольких
 - c. Ответ: В
 - d. Решение — не требуется
6. Вариант 3
- a. Какой из этих исторических деятелей не был министром просвещения России?
 - А) Карл Нессельроде
 - Б) Сергей Уваров
 - В) Иван Делянов
 - Г) Дмитрий Толстой
 - b. Тип вопроса: выбор одного из нескольких
 - c. Ответ: А
 - d. Решение — не требуется

1. История
2. Задание 6. Знание деятелей зарубежной истории
3. 2

4. Вариант 1
- a. Кто из этих исторических деятелей никогда не был премьер-министром Великобритании?
 - А) Бернанд Лоу Монтгомери
 - Б) Невилл Чемберлен
 - В) Уинстон Черчилль
 - Г) Маргарет Тэтчер
 - b. Тип вопроса: выбор одного из нескольких
 - c. Ответ: А
 - d. Решение — не требуется

5. Вариант 2
- a. Кто из этих исторических деятелей никогда не был канцлером Германии?
 - А) Гельмут Коль
 - Б) Карл Либкнехт
 - В) Адольф Гитлер
 - Г) Конрад Аденауэр
 - b. Тип вопроса: выбор одного из нескольких
 - c. Ответ: Б
 - d. Решение — не требуется

6. Вариант 3
- a. Кто из этих исторических деятелей никогда не был президентом США?
 - А) Гарри Трумэн
 - Б) Джон Кеннеди
 - В) Мартин Лютер Кинг
 - Г) Франклин Рузвельт
 - b. Тип вопроса: выбор одного из нескольких
 - c. Ответ: В
 - d. Решение — не требуется



1. История
 2. Задание 7. Знание хронологии событий отечественной истории
 3. 2
 4. Вариант 1
 - a. Какая из перечисленных битв произошла раньше остальных?
 - А) битва на реке Воже
 - Б) битва на реке Сити
 - В) битва на реке Калке
 - Г) битва на реке Шелони
 - b. Тип вопроса: выбор одного из нескольких
 - c. Ответ: В
 - d. Решение — не требуется
 5. Вариант 2
 - a. Какая из перечисленных битв произошла позже остальных?
 - А) битва на реке Шелони
 - Б) битва на реке Пьяне
 - В) Грюнвальдская битва
 - Г) Куликовская битва
 - b. Тип вопроса: выбор одного из нескольких
 - c. Ответ: А
 - d. Решение — не требуется
 6. Вариант 3
 - a. Какая из перечисленных битв произошла позже остальных?
 - А) Грюнвальдская битва
 - Б) битва на реке Сити
 - В) битва на реке Альте
 - Г) Невская битва
 - b. Тип вопроса: выбор одного из нескольких
 - c. Ответ: А
 - d. Решение — не требуется
-
1. История
 2. Задание 8. Знание хронологии событий зарубежной истории
 3. 2
 4. Вариант 1
 - a. Какое из перечисленных событий произошло позже остальных?
 - А) Франко-прусская война
 - Б) создание Лиги Наций
 - В) приход фашистов к власти в Италии
 - Г) реформы Мэйдзи в Японии
 - b. Тип вопроса: выбор одного из нескольких
 - c. Ответ: В
 - d. Решение — не требуется
 5. Вариант 2
 - a. Какое из перечисленных событий произошло позже остальных?
 - А) начало «Великой депрессии»
 - Б) объединение Италии
 - В) распад Австро-Венгрии
 - Г) создание Лиги Наций
 - b. Тип вопроса: выбор одного из нескольких
 - c. Ответ: А
 - d. Решение — не требуется



6. Вариант 3
- Какое из перечисленных событий произошло раньше остальных?
А) распад Австро-Венгрии
Б) создание Антанты
В) гражданская война в США
Г) приход нацистов к власти в Германии
 - Тип вопроса: выбор одного из нескольких
 - Ответ: В
 - Решение — не требуется
1. История
2. Задание 9. Соотнесение эпох и событий
3. 5
4. Вариант 1
- Выберите из списка три события, относящихся к периоду, когда СССР руководил Никита Хрущёв:
А) Хельсинские соглашения
Б) первый полёт человека в космос
В) строительство Берлинской стены
Г) «Ленинградское дело»
Д) вынос тела Сталина из Мавзолея
Е) убийство Льва Троцкого
 - Тип вопроса: выбор нескольких из нескольких
 - Ответ: БВД
 - Решение — не требуется
5. Вариант 2
- Выберите из списка три события, относящихся к периоду, когда СССР руководил Леонид Брежнев:
А) Хельсинские соглашения
Б) ввод советских войск в Афганистан
В) Косыгинская экономическая реформа
Г) вынос тела Сталина из Мавзолея
Д) Карибский кризис
Е) «Дело врачей»
 - Тип вопроса: выбор нескольких из нескольких
 - Ответ: АБВ
 - Решение — не требуется
6. Вариант 3
- Выберите из списка три события, относящихся к периоду, когда СССР руководил Леонид Брежнев:
А) передача Крымского полуострова в состав УССР
Б) ввод советских войск в Чехословакию
В) Олимпийские игры в Москве
Г) принятие Конституции «развитого социализма»
Д) создание советской атомной бомбы
Е) снос Храма Христа Спасителя в Москве
 - Тип вопроса: выбор нескольких из нескольких
 - Ответ: БВГ
 - Решение — не требуется



1. История
 2. Задание 10. Архитектурные памятники
 3. 5
 4. Вариант 1
 - a. Выберите из списка три архитектурных памятника XIX века
 - А) Дом Наркомзема
 - Б) Сухарева башня
 - В) Триумфальные ворота в Москве
 - Г) Исаакиевский собор в Санкт-Петербурге
 - Д) Смольный собор в Санкт-Петербурге
 - Е) Большой театр в Москве
 - b. Тип вопроса: выбор нескольких из нескольких
 - c. Ответ: ВГЕ
 - d. Решение — не требуется
 5. Вариант 2
 - a. Выберите из списка три архитектурных памятника XIX века
 - А) Зимний дворец
 - Б) Здание двенадцати коллегий
 - В) Казанский собор в Санкт-Петербурге
 - Г) Храм Спаса на крови
 - Д) Большой театр в Москве
 - Е) Храм Покрова в Филях
 - b. Тип вопроса: выбор нескольких из нескольких
 - c. Ответ: ВГД
 - d. Решение — не требуется
 6. Вариант 3
 - a. Выберите из списка три архитектурных памятника в стиле барокко
 - А) Екатерининский дворец в Царском Селе
 - Б) Храм Покрова в Филях
 - В) Здание Третьяковской галереи в Лаврушинском переулке
 - Г) Петропавловский собор
 - Д) Исаакиевский собор в Санкт-Петербурге
 - Е) Казанский собор в Санкт-Петербурге
 - b. Тип вопроса: выбор нескольких из нескольких
 - c. Ответ: ВДЕ
 - d. Решение — не требуется
1. История
 2. Задание 11. Расширение границ
 3. 5
 4. Вариант 1
 - a. Выберите из списка три территории, которые были окончательно присоединены к российскому государству в XVI веке
 - А) Крым
 - Б) Астраханское ханство
 - В) Казанское ханство
 - Г) Ингерманландия
 - Д) Башкирия
 - Е) Новгородская земля
 - b. Тип вопроса: выбор нескольких из нескольких
 - c. Ответ: БВД
 - d. Решение — не требуется



5. Вариант 2
- Выберите из списка три города, которые были окончательно присоединены к российскому государству в XVII веке
 - Смоленск
 - Азов
 - Киев
 - Псков
 - Выборг
 - Чернигов
 - Тип вопроса: выбор нескольких из нескольких
 - Ответ: АВЕ
 - Решение — не требуется
6. Вариант 3
- Выберите из списка три территории, которые были окончательно присоединены к российскому государству в XVIII веке
 - Бессарабия
 - Галиция
 - Финляндия
 - Ингерманландия
 - Курляндия
 - Лифляндия
 - Тип вопроса: выбор нескольких из нескольких
 - Ответ: ГДЕ
 - Решение — не требуется

- История
- Задание 12. «У нас» и «у них»
- 6
- Вариант 1

- Соотнесите события отечественной и зарубежной истории, произошедшие в одном и том же веке.
Событие русской истории:
 - Медный бунт
 - строительство Собора Святой Софии в Киеве
 - Крещение Руси
 - Чумной бунт
 - поход Игоря Святославича на половцев
 - захват Киева князем ОлегомСобытие зарубежной истории:
 - Нормандское завоевание Англии
 - Второй крестовый поход
 - образование Священной Римской империи
 - сооружение Версальского дворца
 - распад государства франков
 - принятие «Конституции 3 мая» в Речи Посполитой
- Тип вопроса: сопоставление множеств
- Ответ: 1Г 2А 3В 4Е 5Б 6Д
- Решение — не требуется

- Вариант 2

- Соотнесите события отечественной и зарубежной истории, произошедшие в одном и том же веке.



Первое событие:

- 1) разорение Москвы Тохтамышем
- 2) создание «Повести временных лет»
- 3) осада Пскова Стефаном Баторием
- 4) основание Московского университета
- 5) церковная реформа Никона
- 6) съезд князей в Любече

Событие зарубежной истории:

- А) раскол христианской церкви на католическую и православную
- Б) Второй крестовый поход
- В) основание ордена иезуитов
- Г) начало Столетней войны
- Д) протекторат Кромвеля в Англии
- Е) Губертусбургский мир

- b. Тип вопроса: сопоставление множеств
- c. Ответ: 1Г 2Б 3В 4Е 5Д 6А
- d. Решение — не требуется

6. Вариант 3

- a. Соотнесите события отечественной и зарубежной истории, произошедшие в одном и том же веке.

Первое событие:

- 1) убийство Бориса и Глеба
- 2) битва на реке Калке
- 3) поход Андрея Боголюбского на Киев
- 4) Опричнина
- 5) Азовское сидение
- 6) походы Ольгерда на Москву

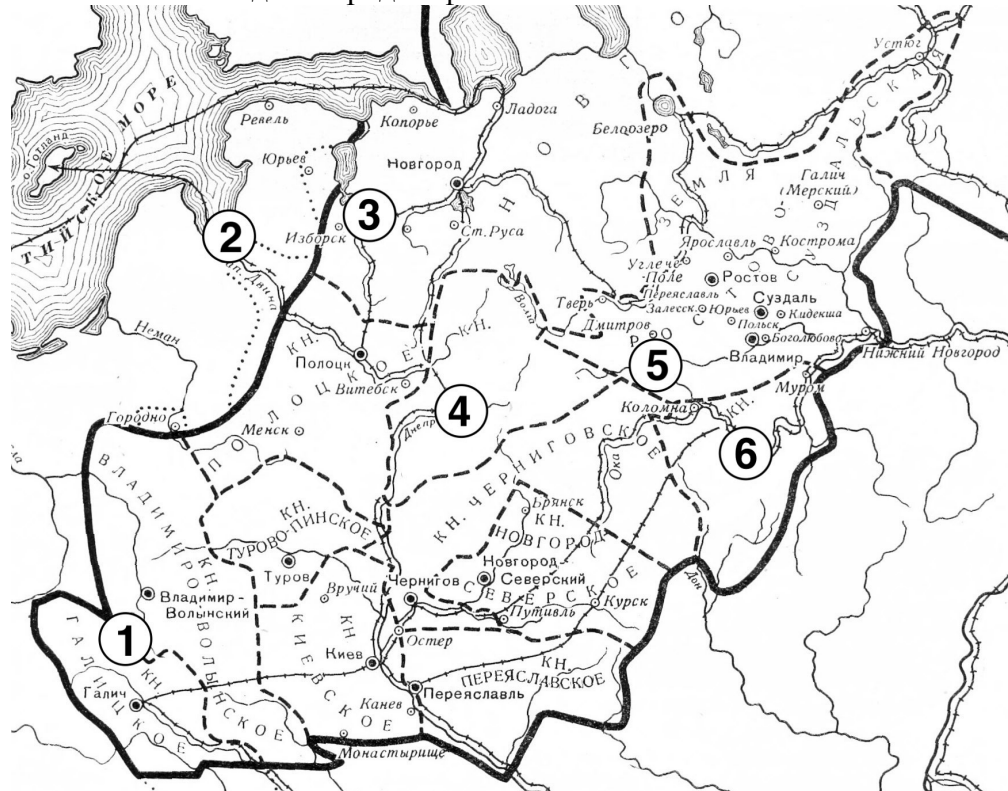
Событие зарубежной истории:

- А) Нормандское завоевание Англии
- Б) Второй крестовый поход
- В) эдикт Фонтенбло
- Г) начало Столетней войны
- Д) разгром Непобедимой армады
- Е) образование Монгольской империи

- b. Тип вопроса: сопоставление множеств
- c. Ответ: 1А 2Е 3Б 4Д 5В 6Г
- d. Решение — не требуется



1. История
2. Задание 13. Города Руси и сопредельных земель
3. 12
4. Вариант 1
 - a. Перед Вами карта, на которой отмечены цифрами шесть городов, и перечень фактов об этих городах. Укажите названия отмеченных городов. Соотнесите с каждым городом факт о нём.

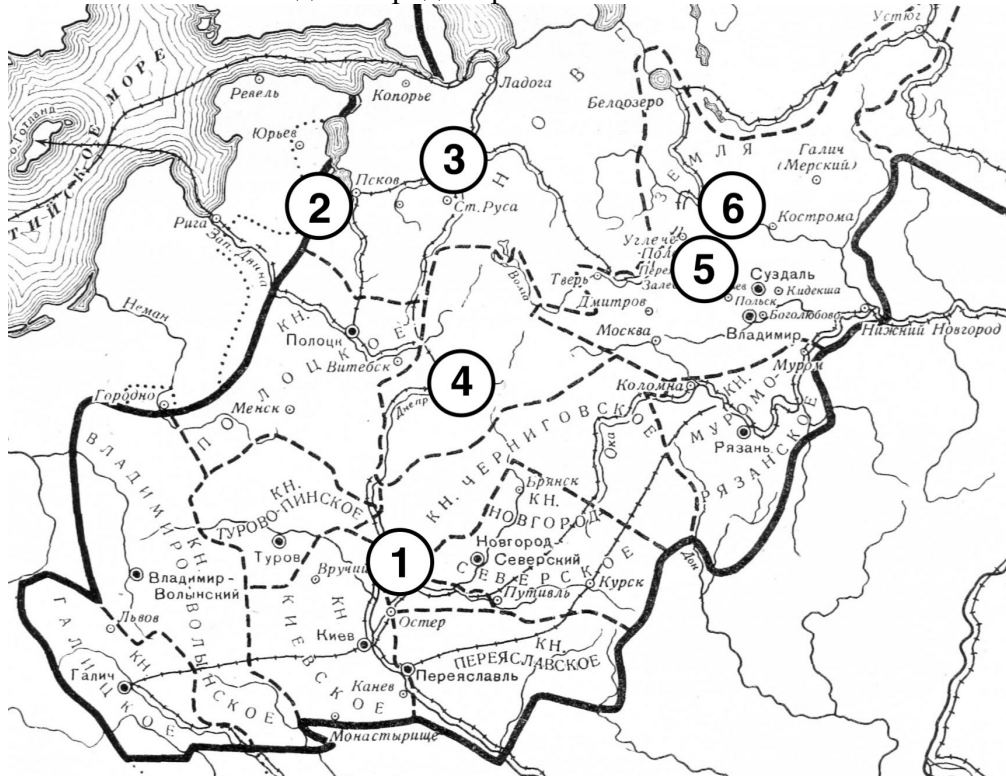


- А) Город основан в 1201 году крестоносцами. В настоящее время – столица независимого европейского государства.
 - Б) Город окончательно вошёл в состав русского государства по условиям Андрусовского перемирия.
 - В) Город разграблен Батыем в конце 1237 года.
 - Г) Первое летописное упоминание города датируется 1147 годом.
 - Д) Город назван в честь Льва Даниловича Галицкого.
 - Е) Город, наряду с Новгородом, был столицей одной из боярских республик.
- b. Тип вопроса: выбор ответа, сопоставление множеств
 - c. Ответ: 1-Львов-Д, 2-Рига-А, 3-Псков-Е, 4-Смоленск-Б, 5-Москва-Г, 6-Рязань-В
 - d. Решение — не требуется



5. Вариант 2

- а. Перед Вами карта, на которой отмечены цифрами шесть городов, и перечень фактов об этих городах. Укажите названия отмеченных городов. Соотнесите с каждым городом факт о нём.



А) Согласно Повести временных лет, в этом городе после призвания варягов стал княжить Трувор.

Б) Племенной центр северян.

В) Город основан великим киевским князем в 1010 году и по сей день носит имя своего основателя.

Г) В этом городе появился первый на Руси архиепископ.

Д) По этому городу была названа одна из русско-польских войн XVII века.

Е) Главный город Северо-Восточной Руси во времена княжения Юрия Долгорукого.

б. Тип вопроса: выбор ответа, сопоставление множеств

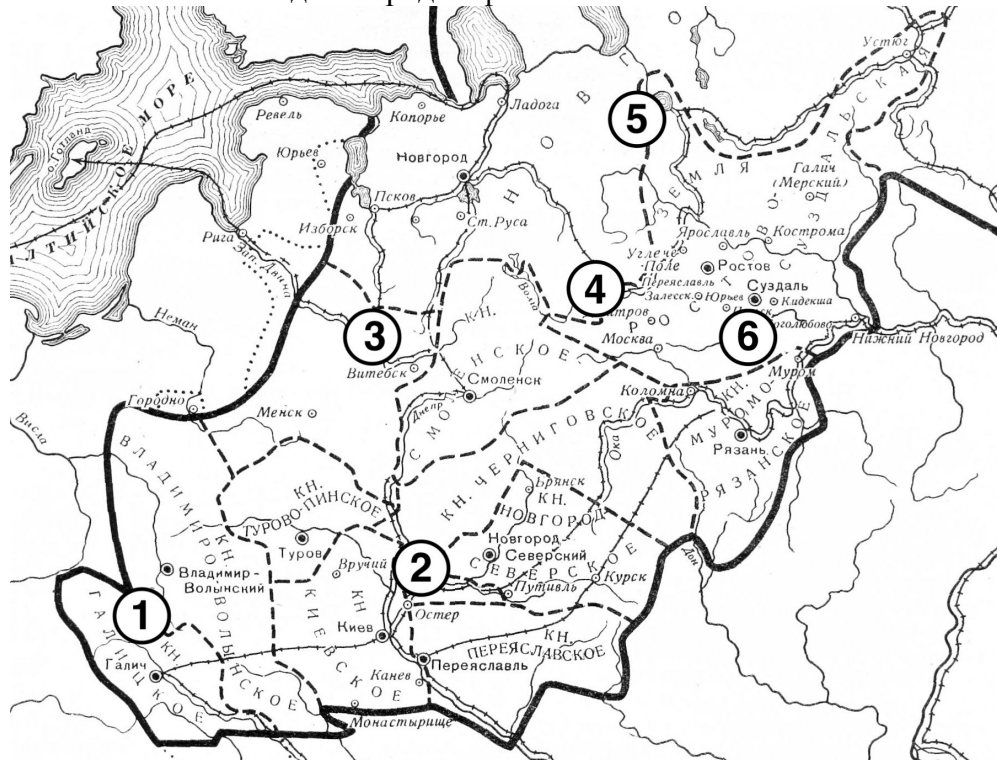
с. Ответ: 1-Чернигов-Б, 2-Изборск-А, 3-Новгород-Г, 4-Смоленск-Д, 5-Ростов-Е, 6-Ярославль-В

д. Решение — не требуется



6. Вариант 3

- а. Перед Вами карта, на которой отмечены цифрами шесть городов, и перечень фактов об этих городах. Укажите названия отмеченных городов. Соотнесите с каждым городом факт о нём.



- А) В этом городе, как и в Киеве и Новгороде, в XI веке был возведён Софийский собор.
 Б) Племенной центр северян.
 В) Согласно Повести временных лет, в этом городе после призвания варягов стал княжить Синеус.
 Г) Этот город был главным соперником Москвы за первенство в Северо-Восточной Руси в XIV веке.
 Д) В этот город перенёс столицу своего княжества Андрей Боголюбский.
 Е) Город назван в честь Льва Даниловича Галицкого.
- б. Тип вопроса: выбор ответа, сопоставление множеств
 с. Ответ: 1-Львов-Е 2-Чернигов-Б 3-Полоцк-А, 4-Тверь-Г, 5-Белоозеро-В, 6-Владимир-Д
 д. Решение — не требуется

1. История

2. Задание 14. Отрывки из речей

3. 6

4. Вариант 1

- а. Соотнесите фрагменты выступлений российских и советских политических деятелей XX века с их именами.

Фрагменты:

1) «Правительство призывает вас, граждане и гражданки Советского Союза, еще теснее сплотить свои ряды вокруг нашей славной большевистской партии, вокруг нашего Советского правительства, вокруг нашего великого вождя товарища Сталина. Наше дело правое. Враг будет разбит. Победа будет за нами»



olympmo.ru



@olymp_mo



/olympmo



/olympmo



@olympmo

- 2) «Когда со все большею настойчивостью Дума напоминает, что, надо организовать тыл для успешной борьбы, а власть продолжает твердить, что организовать, — значит организовать революцию, и сознательно предпочитает хаос и дезорганизацию — что это, глупость или измена?»
- 3) «Товарищи! Нам нужно решительно, раз и навсегда развенчать культ личности, сделать надлежащие выводы как в области идейно-теоретической, так и в области практической работы. Для этого необходимо [...] по-большевистски осудить и искоренить как чуждый духу марксизма-ленинизма и несовместимый с принципами партийного руководства и нормами партийной жизни культ личности, вести беспощадную борьбу против всех и всяческих попыток возродить его в той или иной форме»
- 4) «После тяжёлых шестидневных боев мы овладели плацдармами Крыма и прочно их за собой обеспечили. Армия, после пережитых испытаний, спешно приводится в порядок, переформируется. В самом ближайшем будущем я проведу целый ряд мер организационного характера, которые должны устранить часть недочетов, значительно затруднявших управление армией»
- 5) «Трудящиеся убедились, какими мощными средствами обновления, перестройки являются гласность, критика недостатков, демократизация. Они ждут от перестройки перемены в условиях своей жизни. С этой целью ЦК КПСС и правительство, хорошо понимая, что реализация программы перестройки займет немало времени и потребует огромной работы, заботятся о том, чтобы уже в ближайшее время, по ходу перестройки решались жизненно важные для народа вопросы»
- 6) «Вас призывают осуждать мои статьи. Читали ли вы их? Нет, вы их не читали. Вам дают ложный, поддельный перевод отдельных небольших отрывков. Статьи мои вышли на русском языке отдельной брошюрой в том самом виде, в каком я их писал. Потребуйте, чтоб Сталин их перепечатал без сокращений и подделок! Он не посмеет. Он больше всего боится правды»

Политические деятели:

- А) Пётр Врангель
- Б) Лев Троцкий
- В) Вячеслав Молотов
- Г) Михаил Горбачёв
- Д) Павел Милюков
- Е) Никита Хрущёв

- b. Тип вопроса: сопоставление множеств
- c. Ответ: 1В 2Д 3Е 4А 5Г 6Б
- d. Решение — не требуется

5. Вариант 2

- a. Соотнесите фрагменты выступлений российских и советских политических деятелей XX века с их именами.

Фрагменты:

- 1) «Социализм немыслим без самодеятельности масс и расцвета человеческой личности. Сталинизм попирает и то и другое. Открытый конфликт между народом и новой деспотией неизбежен. Режим Сталина обречен. Заменит ли его капиталистическая контрреволюция или рабочая демократия? История еще не решила этого вопроса»



2) «Все вы, воины свободной России, от солдат до генерала, выполняете тяжёлый, но славный долг защиты революционной России. Только этот долг – помните его. Но, защищая Россию, вы боретесь и за торжество великих идеалов революции, за свободу, равенство, братство! Ни одной капли вашей крови не прольётся за дело неправды»

3) «В течение года российские органы власти двигались в том направлении, которое было определено решениями I Съезда народных депутатов. Мы с вами начинали фактически с нуля и были объективно поставлены в ситуацию делать самую сложную, в какой-то мере неблагодарную и не всегда заметную работу.

Ведь ни Верховный Совет Российской Федерации, ни Совет Министров по существу таковыми почти не являлись. А сейчас они действуют, имеют своё лицо и приобрели заметный авторитет в стране»

4) «Иной народ мог бы сказать Правительству: вы не оправдали наших ожиданий, уходите прочь, мы поставим другое правительство, которое заключит мир с Германией и обеспечит нам покой. Но русский народ не пошел на это, ибо он верил в правильность политики своего Правительства и пошел на жертвы, чтобы обеспечить разгром Германии. И это доверие русского народа Советскому правительству оказалась той решающей силой, которая обеспечила историческую победу над врагом человечества, — над фашизмом»

5) «Граждане члены Учредительного собрания! Позвольте мне поблагодарить Вас за то доверие, которое Вы мне оказали. Я прекрасно понимаю всю ответственность и трудность возложенной на меня обязанности. И поверьте, граждане и товарищи, поверьте, что всю свою способность к беспристрастию я напрогу для того, чтобы направить прения этого собрания так, чтобы они соответствовали серьезности, достоинству данного собрания и величине обязанностей, на него возложенных»

6) «Наша партия и страна, весь советский народ понесли тяжёлую утрату. Перестало биться сердце руководителя Коммунистической партии Советского Союза и Советского государства, выдающегося деятеля международного коммунистического и рабочего движения, пламенного коммуниста, верного сына советского народа – Леонида Ильича Брежнева»

Политические деятели:

- А) Виктор Чернов
- Б) Борис Ельцин
- В) Иосиф Сталин
- Г) Лев Троцкий
- Д) Александр Керенский
- Е) Юрий Андропов

b. Тип вопроса: сопоставление множеств

c. Ответ: 1Г 2Д 3Б 4В 5А 6Е

d. Решение — не требуется

6. Вариант 3

a. Соотнесите фрагменты выступлений российских и советских политических деятелей XX века с их именами.

Фрагменты:

1) «Когда со все большею настойчивостью Дума напоминает, что, надо организовать тыл для успешной борьбы, а власть продолжает твердить, что организовать, — значит организовать революцию, и сознательно предпочитает хаос и дезорганизацию — что это, глупость или измена?»



- 2) «Наша партия и страна, весь советский народ понесли тяжёлую утрату. Перестало биться сердце руководителя Коммунистической партии Советского Союза и Советского государства, выдающегося деятеля международного коммунистического и рабочего движения, пламенного коммуниста, верного сына советского народа – Леонида Ильича Брежнева»
- 3) «Граждане члены Учредительного собрания! Позвольте мне поблагодарить Вас за то доверие, которое Вы мне оказали. Я прекрасно понимаю всю ответственность и трудность возложенной на меня обязанности. И поверьте, граждане и товарищи, поверьте, что всю свою способность к беспристрастию я напрогу для того, чтобы направить прения этого собрания так, чтобы они соответствовали серьезности, достоинству данного собрания и величине обязанностей, на него возложенных»
- 4) «Правительство призывает вас, граждане и гражданки Советского Союза, еще теснее сплотить свои ряды вокруг нашей славной большевистской партии, вокруг нашего Советского правительства, вокруг нашего великого вождя товарища Сталина. Наше дело правое. Враг будет разбит. Победа будет за нами»
- 5) «Иной народ мог бы сказать Правительству: вы не оправдали наших ожиданий, уходите прочь, мы поставим другое правительство, которое заключит мир с Германией и обеспечит нам покой. Но русский народ не пошел на это, ибо он верил в правильность политики своего Правительства и пошел на жертвы, чтобы обеспечить разгром Германии. И это доверие русского народа Советскому правительству оказалась той решающей силой, которая обеспечила историческую победу над врагом человечества, — над фашизмом»
- 6) «Социализм немыслим без самодеятельности масс и расцвета человеческой личности. Сталинизм попирает и то и другое. Открытый конфликт между народом и новой деспотией неизбежен. Режим Сталина обречен. Заменит ли его капиталистическая контрреволюция или рабочая демократия? История еще не решила этого вопроса»

Политические деятели:

- А) Иосиф Сталин
- Б) Вячеслав Молотов
- В) Юрий Андропов
- Г) Павел Милюков
- Д) Лев Троцкий
- Е) Виктор Чернов

- b. Тип вопроса: сопоставление множеств
- c. Ответ: 1Г 2В 3Е 4Б 5А 6Д
- d. Решение — не требуется

- 1. История
- 2. Задание 15. Пропуски в тексте
- 3. 9
- 4. Вариант 1

- a. Тип вопроса: заполнение вписыванием После разгрома под ____ (1 – город) ____ в ____ (2 – год) ____ году шведский король Карл XII вместе с поддержавшим его гетманом Иваном ____ (3 – фамилия) ____ бежал в Османскую империю. Подстрекаемый самим Карлом и другими европейскими державами, уже в следующем году султан объявил России войну. Стремясь перехватить инициативу у противника, Пётр I с 40-



тысячной армией двинулся в турецкие владения – к берегам реки ____ (4 – река) _____. Замысел оказался неудачным: силы царя были окружены многократно превосходящими их войсками султана.

Ради сохранения армии Пётр был готов на колоссальные уступки, вплоть до возвращения Швеции большинства отвоёванных у неё земель. Но в результате переговоров мир удалось заключить на максимально приемлемых для России условиях: российская сторона обязалась вернуть туркам крепость ____ (5 – название крепости) ____ и разрушить соседнюю крепость ____ (6 – название крепости) ____, уничтожить флот на ____ (7 – название моря) ____ море, а также беспрепятственно пропустить Карла XII в Швецию. Успех в переговорах был достигнут во многом благодаря таланту дипломата Петра ____ (8 – фамилия) _____. Впрочем, предание гласит, что значительную роль тогда сыграла царская невеста Марта ____ (9 – фамилия) ____, сопровождавшая Петра в походе и якобы пожертвовавшая своими драгоценностями ради заключения мира. По возвращении в Россию царь сыграет с ней пышную свадьбу.

- b. Тип вопроса: заполнение вписыванием
- c. Ответ: 1-Полтава ИЛИ Полтавой 2-1709 3-Мазепа ИЛИ Мазепой 4-Прут 5-Азов 6-Таганрог 7-Азовское ИЛИ Азовском 8-Шафиров ИЛИ Шафирова 9-Скавронская ИЛИ Сковронская
- d. Решение — не требуется

5. Вариант 2

- a. К 1760 году русская армия, самая многочисленная и одна из самых боеспособных в Европе, достигла значительных успехов в масштабном общеевропейском конфликте, который вошёл в историю как ____ (1 – название войны) ____ война. Главный противник России в этой войне, ____ (2 – государство) ____, потерпел несколько чувствительных поражений и уступил русским войскам ряд территорий. Король ____ (3 – имя короля) ____ II, несмотря на репутацию талантливого полководца, находился в отчаянии и признавался, что «считает всё потерянным». Русские подразделения под командованием фельдмаршала Захара ____ (4 – фамилия) ____ даже вошли во вражескую столицу, ____ (5 – город) ____, правда, вскоре отступили, успев уничтожить ряд стратегически важных объектов в городе. Россия готовилась присоединить оккупированные ей территории на Балтике.

Перелом в войне наступил неожиданно. В декабре ____ (6 – год) ____ года скончалась русская императрица ____ (7 – имя) ____ (8 – отчество) ____, и на престол взошёл её ____ (9 – степень родства) ____ Пётр. Из соображений личных симпатий к королю враждебной страны он в корне переменял курс внешней политики России: разорвал связи с союзниками, подписал сепаратный мир и вернул вчерашнему противнику все завоёванные Россией земли. Это ухудшило отношение российских элит к и без того непопулярному новому императору и приблизило его скорое свержение.

- b. Тип вопроса: заполнение вписыванием
- c. Ответ: 1-Семилетняя 2-Пруссия 3-Фридрих 4-Чернышев ИЛИ Чернышева ИЛИ Чернышёв ИЛИ Чернышёва ИЛИ Чернышов ИЛИ Чернышова 5-Берлин 6-1761 7-Елизавета 8-Петровна 9-племянник
- d. Решение — не требуется

6. Вариант 3

- a. После второго раздела в ____ (1 – год) ____ году Речь Посполитая оказалась в



колоссальной зависимости от России и ____ (2 – государство)____, что вызывало крайнее недовольство польских элит. В следующем году в стране началось мощное национально-освободительное движение под предводительством поляка Тадеуша ____ (3 – фамилия)____, героя войны за независимость США. Повстанцы сумели одержать ряд побед, но в конечном счёте регулярные русские войска под командованием прославленного полководца ____ (4 – фамилия)____ подавили выступление и штурмом взяли Варшаву. Лидер восстания был пленён и доставлен в Петербург, пройдёт несколько лет, и его выпустит на свободу император ____ (5 – имя)____. Следствием восстания стал третий раздел Речи Посполитой в октябре ____ (6 – год)____ года. К России отошли Западная ____ (7 – название области)____, Волынь, Литва, а также герцогство ____ (8 – название)____, оставшиеся польские земли разделили ____ (2 – государство)____ и Австрия. Речь Посполитая перестала существовать как самостоятельное государство, а король Станислав Август ____ (9 – фамилия)____ перебрался в Россию, где вскоре и скончался.

- b. Тип вопроса: заполнение вписыванием
- c. Ответ: 1-1793 2-Пруссия ИЛИ Пруссии 3-Костюшко 4-Суворов ИЛИ Суворова 5-Павел ИЛИ Павел Первый ИЛИ Павел I 6-1795 7-Белоруссия ИЛИ Беларусь 8-Курляндия ИЛИ Курляндское 9-Понятовский
- d. Решение — не требуется

1. История

2. Задание 16. Верно или неверно?

3. 4

4. Вариант 1

- a. Выберите из перечня исторических фактов четыре верных и запишите буквы, которыми они обозначены, в поле ответа.
 - А) Папа Римский выступал против борьбы крестоносцев с Новгородом в первой половине XIII;
 - Б) Судебник Ивана IV был принят после того, как он венчался на царство;
 - В) Лидерами Первого народного ополчения были Иван Заруцкий и Иван Сусанин;
 - Г) Реформу просвещения при Екатерине II провёл Григорий Спиридов;
 - Д) Одним из последствий польского восстания 1830–1831 годов было упразднение Конституции Царства Польского;
 - Е) Николай II был убит в городе, который впоследствии переименовали в Свердловск;
 - Ж) Среди русских писателей, вернувшихся из эмиграции в СССР, были Максим Горький и Иван Бунин;
 - З) К моменту начала Великой Отечественной войны Георгий Жуков ещё не был маршалом Советского Союза.

b. Тип вопроса: выбор нескольких из нескольких

c. Ответ: БДЕЗ

d. Решение — не требуется

5. Вариант 2

- a. Выберите из перечня исторических фактов четыре верных и запишите буквы, которыми они обозначены, в поле ответа.
 - А) Прежде чем крестить Русь, князь Владимир пытался реформировать язычество;
 - Б) Храм покровы на Рву был возведён по случаю рождения будущего Ивана Грозного;



- В) Соборным уложением в государстве вводился бессрочный сыск беглых крестьян;
- Г) Ясский мирный договор был подписан до подавления Пугачёвского восстания;
- Д) Декабристы Павел Пестель, Сергей Трубецкой и Никита Муравьёв принадлежали к «Северному обществу»;
- Е) Конечным пунктом Транссибирской магистрали был Владивосток;
- Ж) В Тегеранской, Ялтинской и Потсдамской конференциях участвовал один и тот же президент США;
- 3) Советские кинорежиссёры Леонид Гайдай и Эльдар Рязанов снимали в основном комедии.
- b. Тип вопроса: выбор нескольких из нескольких
- c. Ответ: АВЕЗ
- d. Решение — не требуется
6. Вариант 3
- a. Выберите из перечня исторических фактов четыре верных и запишите буквы, которыми они обозначены, в поле ответа.
- А) Северо-Западная Русь торговала с Ганзейским союзом активнее, чем Северо-Восточная Русь;
- Б) Рязань окончательно вошла в состав Московского государства позже, чем Тверь;
- В) Восстание Булавина продолжалось и после смерти предводителя;
- Г) Все конгрессы Священного союза проходили за пределами России;
- Д) Институт суда присяжных в России существовал и до судебной реформы 1864 года;
- Е) Российская империя никогда не имела общей границы с Ираном;
- Ж) От голода в СССР в 1932–1933 годах больше всего пострадала Белорусская ССР;
- 3) Фильм «Александр Невский» был снят после Великой Отечественной войны в знак победы над гитлеровской Германией.
- b. Тип вопроса: выбор нескольких из нескольких
- c. Ответ: АБВГ
- d. Решение — не требуется



1. История
2. Задание 17. История глазами художника
3. 3
4. Вариант 1
 - а. Перед Вами работы русского художника Василия Сурикова, посвящённые разным сюжетам русской истории. Соотнесите картины и годы событий, изображённых на них.

Фрагменты:

1.



2.



3.



4.



Годы:

А) 1582 г.

Б) 1671 г.

В) 1698 г.

Г) 1728–1729 гг.

b. Тип вопроса: сопоставление множеств

c. Ответ: 1В 2Б 3А 4Г

d. Решение — не требуется



olympmo.ru



@olymp_mo



/olympmo



/olympmo



@olympmo

5. Вариант 2

- а. Перед Вами работы русского художника Эрнеста Лиснера, посвящённые разным сюжетам русской истории. Соотнесите картины и годы событий, изображённых на них.

Фрагменты:

1.



2.



olympmo.ru



[@olymp_mo](https://www.instagram.com/olymp_mo)



[/olympmo](https://www.facebook.com/olympmo)



[/olympmo](https://vk.com/olympmo)



[@olympmo](https://www.telegram.com/@olympmo)

3.



4.



Годы:

А) 1380 г.

Б) 1613 г.

В) 1648 г.

Г) 1662 г.

b. Тип вопроса: сопоставление множеств

c. Ответ: 1А 2Б 3Г 4В

d. Решение — не требуется



olympmo.ru



@olymp_mo



/olympmo



/olympmo



@olympmo

6. Вариант 3

- а. Перед вами работы русского художника Алексея Кившенко, посвящённые разным сюжетам русской истории. Соотнесите картины и годы событий, изображённых на них.

Фрагменты:

1.



2.



olympmo.ru



[@olymp_mo](https://www.instagram.com/olymp_mo)



[/olympmo](https://www.facebook.com/olympmo)



[/olympmo](https://vk.com/olympmo)



[@olympmo](https://www.telegram.com/@olympmo)

3.



4.



Годы:

А) 1478 г.

Б) 1480 г.

В) 1613 г.

Г) 1654 г.

b. Тип вопроса: сопоставление множеств

c. Ответ: 1Б 2В 3Г 4А

d. Решение — не требуется



olympmo.ru



@olymp_mo



/olympmo



/olympmo



@olympmo

1. История
2. Задание 18. События на картинах
3. 5
4. Вариант 1
 - а. Перед Вами два изображения одного и того же эпизода русской военной истории. Выберите из списка три верных факта, относящихся к этому событию.



- А) в ходе этого сражения погиб русский адмирал Нахимов;
 - Б) сражение произошло в акватории Чёрного моря;
 - В) сражение произошло в том же году, в котором в России сменился император;
 - Г) с обеих сторон в сражении участвовали парусные суда;
 - Д) война, в рамках которой состоялось сражение, завершилась поражением России;
 - Е) в сражении российской эскадре противостояли корабли нескольких иностранных флотов.
- б. Тип вопроса: выбор нескольких из нескольких
 - с. Ответ: БГД
 - д. Решение — не требуется



5. Вариант 2

- а. Перед Вами два изображения одного и того же события русской истории. Выберите из списка три верных факта, относящихся к этому событию.



- А) сражение произошло после того, как французская армия захватила Москву;
Б) в ходе сражения погиб русский генерал Багратион;
В) для русских войск сражение носило оборонительный характер;
Г) война, эпизодом которой было это сражение, завершилась подписанием Кючук-Кайнарджийского мира;
Д) город, под которым произошло сражение, окончательно вошёл в состав России по условиям Андрусовского перемирия;
Е) город, под которым произошло сражение, стоит на реке Днепр.
- b. Тип вопроса: выбор нескольких из нескольких
c. Ответ: ВДЕ
d. Решение — не требуется



6. Вариант 3

- а. Перед Вами два изображения одного и того же события русской истории. Выберите из списка три верных факта, относящихся к этому событию.



- А) осада завершилась неудачно для русских войск;
 Б) в честь героев осады в Москве был воздвигнут памятник-часовня;
 В) крепость, которую осаждали русские войска, в настоящее время находится за пределами России;
 Г) война, в ходе которой проходила осада, продолжалась почти пять лет;
 Д) военачальник, руководивший осадой, позднее попал во вражеский плен;
 Е) военачальник, руководивший осадой, имел прозвище «белый генерал».
- б. Тип вопроса: выбор нескольких из нескольких
 с. Ответ: БВЕ
 д. Решение — не требуется

1. История
2. Задание 19. Работа с документом
3. 5
4. Вариант 1

- а. Перед Вами тексты двух посланий. Прочитайте их и выберите из предложенного перечня четыре верных факта об их содержании.

1.

«От инженерных частей 6-й Казанской стрелковой дивизии

г. Новониколаевск

19 ноября 1918 г.

С величайшей радостью инженерные части, входящие в состав N-й дивизии, прочли о назначении Вашего Высокопревосходительства на пост



*Всероссийского Верховного Правительства. От имени чинов этих частей приношу Вашему Высокопревосходительству поздравления и пожелания к скорейшему выполнению тяжелой задачи воссоздания Великой России. Счастлив засвидетельствовать, что инженерные части готовы пролить свою кровь до последней капли за Ваше Высокопревосходительство, как за великого спасителя горячо любимой родины.
Дивиз[ионный] инженер гв[ардии] полк[овник] Ивков»*

2.

«От Всероссийского совета съездов торговли и промышленности

г. Омск

[19 ноября 1918 г.]

Верховному Правителю [...].

Всероссийский Совет Съездов Торговли и Промышленности считает своим приятным долгом засвидетельствовать свое полное удовлетворение по поводу принятия вами на себя тяжкого бремени Верховного Правительства страной. Торгово-промышленный класс уже давно осознал и громко заявил, что воссоздать разрушенную родину, устранить невиданную разруху в настоящий исторический момент под силу лишь сильной единоличной власти. Да поможет вам Господь Бог выполнить выпавшую на Ваши плечи историческую миссию!

Председатель совета съездов Гаврилов. Товарищи председателя: Абрамов, Кропоткин, Каргалов».

А) Оба послания носят формальный характер;

Б) Адресат посланий был расстрелян;

В) Адресат посланий был участником Первой мировой войны;

Г) Авторы обоих посланий выражают готовность сражаться за власть, принятую адресатом;

Д) Оба послания были составлены при жизни императора Николая II;

Е) Первое послание составлено от имени дивизии;

Ж) Послания были отправлены в том же году, в котором состоялся Ловозеровский мятеж.

b. Тип вопроса: выбор нескольких из нескольких

c. Ответ: АБВЖ

d. Решение — не требуется

5. Вариант 2

a. Перед Вами текст трёх идущих подряд записей из дневника исторического деятеля. Прочитайте их и выберите из предложенного перечня четыре верных факта об их содержании.

«7-го марта. Вторник.

Получил еще два письма от дорогой Аликс, привезенные двумя офицерами Конвоя. В 11 час. принял Williams, Janin, Ryskel; все так тепло и участливо относятся. Завтракала Мама, просидел с нею до 2 1/2 ч. Принял Coanda, Rotei, Marsengo и Лонткевича. Погулял около часа. Погода была мягкая, но целый день шел снег. После чая начал укладывать вещи. Обедал с Мама и поиграл с ней в безик.

8-го марта. Среда.

Последний день в Могилеве. В 10 1/4 ч. подписал прощальный приказ по армиям. В 10 1/2 ч. пошел в дом дежурства, где простился со всеми чинами штаба и управлений. Дома простился с офицерами и казаками Конвоя и



Сводного полка — сердце у меня чуть не разорвалось! В 12 час. приехал к Мама в вагон, позавтракал с ней и ее свитой и остался сидеть с ней до 4 1/2 час. Простился с ней, Сандро, Сергеем, Борисом и Алеком. Бедного Нилова не пустили со мною. В 4.45 уехал из Могилева, трогательная толпа людей провожала. 4 члена Думы сопутствуют в моем поезде! Поехал на Оршу и Витебск. Погода морозная и ветреная. Тяжело, больно и тоскливо.

9-го марта. Четверг.

Скоро и благополучно прибыл в Царское Село — в 11 1/2 ч. Но, Боже, какая разница, на улице и кругом дворца внутри парка часовые, а внутри подъезда какие-то прапорщики! Пошел наверх и там увидел душку Аликс и дорогих детей. Она выглядела бодрой и здоровой, а они все лежали в темной комнате. Но самочувствие у всех хорошее, кроме Марии, у кот. корь недавно началась. Завтракали и обедали в игральной у Алексея. Видел доброго Бенкендорфа. Погулял с Валею Долг[оруковым] и поработал с ним в садике, т. к. дальше выходить нельзя!! После чая раскладывал вещи. Вечером обошли всех жильцов на той стороне и застали всех вместе»

А) В приведённом фрагменте несколько раз упоминается жена автора;

Б) Автор дневника – представитель династии Романовых;

В) Все города, упомянутые в записи от 8 марта, в настоящее время находятся за пределами России;

Г) В тексте упоминается исторический деятель, возглавлявший III Отделение Е. И. В. Канцелярии в 1826–1844 годах;

Д) В дни, когда были сделаны представленные записи, автор дневника находился под тюремным конвоем;

Е) Автор дневника впоследствии эмигрировал на запад;

Ж) Смерть автора дневника была насильственной.

b. Тип вопроса: выбор нескольких из нескольких

c. Ответ: АБВЖ

d. Решение — не требуется

6. Вариант 3

a. Перед Вами текст пяти идущих подряд записей из дневника исторического деятеля. Прочитайте их и выберите из предложенного перечня четыре верных факта об их содержании.

«21-го марта. Вторник.

Сегодня днем внезапно приехал Керенский, нынешний Мин. Юстиции, прошел чрез все комнаты, пожелал нас видеть, поговорил со мною минут пять, представил нового коменданта дворца и затем вышел. Он приказал арестовать бедную Аню и увезти ее в город вместе с Лили Ден. Это случилось между 3 и 4 час., пока я гулял. Погода была отвратительная и соответствовала нашему настроению!

Мария и Анастасия спали почти целый день. После обеда спокойно провели вечер вчетвером с О[льгой] и Т[атьяной].

22-го марта. Среда.

Ночью была буря, и выпала огромная масса снега. День простоял солнечный и тихий. Ольга и Татьяна вышли в первый раз на воздух и посидели на круглом балконе, пока я гулял. После завтрака долго работал. Младшие много спали и чувствовали себя хорошо. Все время провели вместе.

23-го марта. Четверг.

Ясный день после 2 час. и оттепель. Утром погулял недолго. Разбирался в своих вещах и в книгах и начал откладывать все то, что хочу взять с собой, если придется уезжать в Англию. После завтрака погулял с Ольгой и



Татьяной и поработал в саду. Вечер провели, как всегда.

24-го марта. Пятница.

Хороший тихий день. Утром погулял. Днём Мария и Анастасия были перевезены в игральную комнату. Успешно поработал с Вале́й [Долгоруковым]; теперь почти все дорожки вычищены. В 6 1/2 пошел ко всеобщей с О[льгой] и Т[атьяной]. Вечером читал вслух Чехова.

25-го марта. Благовещение.

В небывалых условиях провели этот праздник — арестованные в своем доме и без малейшей возможности сообщаться с Мама и со своими! В 11 час. пошел к обеду с О[льгой] и Т[атьяной]. После завтрака гулял и работал с ними на острове. Погода была серая. В 6 1/2 были у всеобщей и вернулись с вербами. Анастасия встала и ходила наверху по комнатам»

- А) Автор дневника в описываемый период рассматривал возможность эмиграции из России;
 - Б) Автор дневника – представитель династии Романовых;
 - В) В записи от 21 марта упоминаются все дети автора дневника;
 - Г) В одной из записей упоминается исторический деятель, возглавлявший Временное правительство России в 1917 году;
 - Д) В одной из записей упоминается автор произведений «Дядя Ваня» и «Вишнёвый сад»;
 - Е) Автор дневника не принимал участия в Первой мировой войне;
 - Ж) Автор дневника умер естественной смертью.
- b. Тип вопроса: выбор нескольких из нескольких
 - c. Ответ: АБГД
 - d. Решение — не требуется

- 1. История
- 2. Задание 20. Трудности перевода
- 3. 5
- 4. Вариант 1
 - a. Перед Вами список имён правителей Великого княжества Литовского на литовском языке. Укажите имя каждого князя в привычном для нас русскоязычном варианте.
 - 1. Algirdas
 - 2. Jogaila
 - 3. Mindaugas
 - 4. Gediminas
 - 5. Vytautas
 - b. Тип вопроса: заполнение вписыванием
 - c. Ответ: 1-Ольгерд 2-Ягайло 3-Миндовг 4-Гедимин 5-Витовт
 - d. Решение — не требуется
- 5. Вариант 2
 - a. Перед Вами список имён правителей Великого княжества Литовского на польском языке. Укажите имя каждого князя в привычном для нас русскоязычном варианте.
 - 1. Mendog
 - 2. Giedymin
 - 3. Jagiełło
 - 4. Witold
 - 5. Olgierd
 - b. Тип вопроса: заполнение вписыванием



- c. Ответ: 1-Миндовг 2-Гедимин 3-Ягайло ИЛИ Ягелло 4-Витовт 5-Ольгерд
d. Решение — не требуется
6. Вариант 3
- a. Перед Вами список имён правителей Великого княжества Литовского на латышском языке. Укажите имя каждого князя в привычном для нас русскоязычном варианте.
1. Mindaugs
 2. Vītauts
 3. Ģedimins
 4. Jagailis
 5. Aļģirds
- b. Тип вопроса: заполнение вписыванием
c. Ответ: 1-Миндовг 2-Витовт 3-Гедимин 4-Ягайло 5-Ольгерд
d. Решение — не требуется
1. История
2. Задание 21. Прозвища правителей
3. 6
4. Вариант 1
- a. Перед Вами перечень деятельниц зарубежной истории и список вторых имён, фамилий или устоявшихся в исторической науке прозвищ этих деятельниц. Соотнесите значения первого и второго столбцов.
- Деятели:
- 1) Христофору Колумбу покровительствовали Фердинанд Арагонский и Изабелла...
 - 2) в XVIII веке на протяжении сорока лет империей Габсбургов управляла императрица Мария...
 - 3) супругой казнённого в ходе Французской революции короля Людовика XVI была Мария...
 - 4) попыткой восстановить в Англии католичество и масштабными преследованиями протестантов прославилась королева Мария...
 - 5) матерью трёх королей Франции, сторонницей преследований гугенотов и инициатором «Варфоломеевской ночи» считается королева Екатерина...
 - 6) второй женой Генриха VIII, казнённой по его приказу, была Анна...
- Прозвища, фамилии или вторые имена:
- A) Терезия
 - B) Антуанетта
 - B) Кастильская
 - Г) Болейн
 - Д) Кровавая
 - Е) Медичи
- b. Тип вопроса: сопоставление множеств
c. Ответ: 1В 2А 3Б 4Д 5Е 6Г
d. Решение — не требуется
5. Вариант 2
- a. Перед Вами перечень деятелей зарубежной истории и список устоявшихся в исторической науке прозвищ этих деятелей. Соотнесите значения первого и второго столбцов.
- Деятели:
- 1) правителем Саксонии и Речи Посполитой во времена Северной войны был Август...



- 2) решающую роль в разгроме турок в битве под Веной сыграл польский король Ян...
- 3) во время Войны за австрийское наследство в Пруссии правил Фридрих...
- 4) после Славной революции в Англии английским королём стал Вильгельм...
- 5) Османскую империю к пику её развития привёл султан Сулейман...
- 6) фундамент будущего колониального развития Португалии заложил король Генрих...

Прозвища:

- А) Оранский
- Б) Мореплаватель
- В) Собеский
- Г) Великий
- Д) Великолепный
- Е) Сильный

- b. Тип вопроса: сопоставление множеств
- c. Ответ: 1Е 2В 3Г 4А 5Д 6Б
- d. Решение — не требуется

6. Вариант 3

- a. Перед Вами перечень деятелей зарубежной истории и список устоявшихся в исторической науке прозвищ этих деятелей. Соотнесите значения первого и второго столбцов.

Деятели:

- 1) Османскую империю к пику её развития привёл султан Сулейман...
- 2) после Славной революции в Англии английским королём стал Вильгельм...
- 3) решающую роль в разгроме турок в битве под Веной сыграл польский король Ян...
- 4) фундамент будущего колониального развития Португалии заложил король Генрих...
- 5) во время Войны за австрийское наследство в Пруссии правил Фридрих...
- 6) правителем Саксонии и Речи Посполитой во времена Северной войны был Август...

Прозвища:

- А) Великолепный
- Б) Сильный
- В) Мореплаватель
- Г) Собеский
- Д) Великий
- Е) Оранский

- b. Тип вопроса: сопоставление множеств
- c. Ответ: 1А 2Е 3Г 4В 5Д 6Б
- d. Решение — не требуется

1. История

2. Задание 22. Культура в лицах


3. 8

4. Вариант 1

- a. Перед Вами портреты четырёх видных деятелей отечественной культуры и список созданных ими произведений. Укажите фамилии лиц на портретах и соотнесите произведения с их авторами. Внимание – одно произведение в



Списке является лишним.



Произведения:

- А) фильм «Броненосец Потёмкин»
- Б) «Ленинградская симфония»
- В) пьеса «На дне»
- Г) картина «Чёрный квадрат»
- Д) поэма «Двенадцать»

- b. Тип вопроса: заполнение вписыванием, сопоставление множеств
- c. Ответ: 1-Горький-В 2-Эйзенштейн-А 3-Блок-Д 4-Малевич-Г
- d. Решение — не требуется



olympmo.ru



@olymp_mo



/olympmo



/olympmo



@olympmo

5. Вариант 2

- а. Перед Вами портреты четырёх видных деятелей русской культуры и список созданных ими произведений. Укажите фамилии лиц на портретах и соотнесите произведения с их авторами. Внимание – одно произведение в списке является лишним.



Произведения:

- А) скульптура «Рабочий и колхозница»
- Б) фильм «Иван Грозный»
- В) пьеса «Три сестры»
- Г) поэма «Пугачёв»
- Д) «Ленинградская симфония»

- б. Тип вопроса: заполнение вписыванием, сопоставление множеств
с. Ответ: 1-Шостакович-Д 2-Есенин-Г 3-Чехов-В 4-Эйзенштейн-Б
д. Решение — не требуется



olympmo.ru



@olymp_mo



/olympmo




/olympmo



@olympmo

6. Вариант 3

- а. Перед Вами портреты четырёх видных деятелей русской культуры и список созданных ими произведений. Укажите фамилии лиц на портретах и соотнесите произведения с их авторами. Внимание – одно произведение в списке является лишним.



Произведения:

- А) поэма «Облако в штанах»
- Б) картина «Чёрный квадрат»
- В) кантата «Александр Невский»
- Г) скульптура «Рабочий и колхозница»
- Д) роман «Анна Каренина»

- б. Тип вопроса: заполнение вписыванием, сопоставление множеств
с. Ответ: 1-Прокофьев-В 2-Малевич-Б 3-Толстой-Д 4-Маяковский-А
д. Решение — не требуется



olympmo.ru



@olymp_mo



/olympmo



/olympmo



@olympmo

6) Максимальный балл – 100.

Таблица (для удобства ориентации в комплекте):

Таблица (для удобства ориентации в комплекте):

1.	2	13.	12
2.	2	14.	6
3.	2	15.	9
4.	2	16.	4
5.	2	17.	3
6.	2	18.	5
7.	2	19.	5
8.	2	20.	5
9.	5	21.	6
10.	5	22.	8
11.	5		100
12.	6		

КРИТЕРИИ ОЦЕНКИ ЗАДАНИЙ ДЛЯ 11 КЛАССА:

1. 2 балла за верный ответ, 0 баллов за неверный.
2. 2 балла за верный ответ, 0 баллов за неверный.
3. 2 балла за верный ответ, 0 баллов за неверный.
4. 2 балла за верный ответ, 0 баллов за неверный.
5. 2 балла за верный ответ, 0 баллов за неверный.
6. 2 балла за верный ответ, 0 баллов за неверный.
7. 2 балла за верный ответ, 0 баллов за неверный.
8. 2 балла за верный ответ, 0 баллов за неверный.
9. 1 балл за один верный ответ, 3 балла за два, 5 баллов за три.
10. 1 балл за один верный ответ, 3 балла за два, 5 баллов за три.
11. 1 балл за один верный ответ, 3 балла за два, 5 баллов за три.
12. 1 балл за каждое верное соотнесение.
13. 1 балл за каждое верно указанное название города. 1 балл за каждую верно соотнесённую букву. Если название города указано ошибочно или не указано, а буква соотнесена верно, балл за букву не ставится.
14. 1 балл за каждое верное соотнесение.
15. 1 балл за каждый верно заполненный пропуск.
16. 1 балл за каждый верный ответ.
17. 3 балла за полностью верный ответ, 2 балла при 1 ошибке, 1 балл при двух ошибках, 0 баллов при трёх ошибках.
18. 1 балл за один верный ответ, 3 балла за два, 5 баллов за три.
19. 1 балл за каждый верный ответ, за 4 верных ответа – 5 баллов.
20. 1 балл за каждый верный ответ.
21. 1 балл за каждое верное соотнесение.
22. 2 балла за каждую верную «тройку»: цифра-фамилия-буква. Если фамилия или буква указаны ошибочно, выставляется 0 баллов.

