

**ВСЕРОССИЙСКАЯ ОЛИМПИАДА ШКОЛЬНИКОВ
ПО ИСТОРИИ
2020-2021 УЧЕБНЫЙ ГОД
МОСКОВСКАЯ ОБЛАСТЬ
ШКОЛЬНЫЙ ЭТАП**

7 класс

- 1) 90 минут
- 2) Список заданий:
 1. История
 2. Задание 1. Знание терминологии отечественной истории
 3. 3
 4. Вариант 1
 - a. Какое из этих понятий не связано с древнерусским зодчеством?
 - А) апсида
 - Б) филигрань
 - В) плинфа
 - Г) закомара
 - b. Тип вопроса: выбор одного из нескольких
 - c. Ответ: Б
 - d. Решение — не требуется
 5. Вариант 2
 - a. Какое из этих понятий не связано с историей средневекового Новгорода?
 - А) посадник
 - Б) архиепископ
 - В) вече
 - Г) сейм
 - b. Тип вопроса: выбор одного из нескольких
 - c. Ответ: Г
 - d. Решение — не требуется
 6. Вариант 3
 - a. Какое из этих понятий не связано с налоговой реформой княгини Ольги?
 - А) погосты
 - Б) повозы
 - В) выход
 - Г) уроки
 - b. Тип вопроса: выбор одного из нескольких
 - c. Ответ: В
 - d. Решение — не требуется

1. История
2. Задание 2. Знание терминологии зарубежной истории
3. 3
4. Вариант 1
 - a. Какой из этих монашеских орденов не был рыцарским?
 - А) тамплиеры
 - Б) францисканцы
 - В) тевтонцы



olympmo.ru



@olymp_mo



/olympmo



/olympmo



@olympmo

- Г) госпитальеры
 - б. Тип вопроса: выбор одного из нескольких
 - с. Ответ: Б
 - д. Решение — не требуется
5. Вариант 2
- а. Какой из этих монашеских орденов был рыцарским?
 - А) францисканцы
 - Б) доминиканцы
 - В) бенедиктинцы
 - Г) тамплиеры
 - б. Тип вопроса: выбор одного из нескольких
 - с. Ответ: Г
 - д. Решение — не требуется
6. Вариант 3
- а. Какой из этих монашеских орденов был рыцарским?
 - А) госпитальеры
 - Б) кармелиты
 - В) доминиканцы
 - Г) францисканцы
 - б. Тип вопроса: выбор одного из нескольких
 - с. Ответ: А
 - д. Решение — не требуется
1. История
2. Задание 3. Знание дат отечественной истории
3. 3
4. Вариант 1
- а. Какой из этих годов не связан со взятием Киева?
 - А) 882 г.
 - Б) 1054 г.
 - В) 1169 г.
 - Г) 1240 г.
 - б. Тип вопроса: выбор одного из нескольких
 - с. Ответ: Б
 - д. Решение — не требуется
5. Вариант 2
- а. Какой из этих годов не связан с походами на Москву?
 - А) 1238 г.
 - Б) 1327 г.
 - В) 1382 г.
 - Г) 1408 г.
 - б. Тип вопроса: выбор одного из нескольких
 - с. Ответ: Б
 - д. Решение — не требуется
6. Вариант 3
- а. Какой из этих годов не связан с походами на Москву?
 - А) 1238 г.
 - Б) 1302 г.
 - В) 1368 г.
 - Г) 1408 г.
 - б. Тип вопроса: выбор одного из нескольких
 - с. Ответ: Б



d. Решение — не требуется

1. История
2. Задание 4. Знание дат зарубежной истории
3. 3
4. Вариант 1
 - a. Какой из этих годов не связан с битвами Столетней войны?
 - А) 1346 г.
 - Б) 1415 г.
 - В) 1428 г.
 - Г) 1453 г.
 - b. Тип вопроса: выбор одного из нескольких
 - c. Ответ: любой вариант засчитывается как верный
 - d. Решение — не требуется
5. Вариант 2
 - a. Какой из этих временных промежутков не связан с Крестовыми походами?
 - А) 1096–1099 гг.
 - Б) 1112–1115 гг.
 - В) 1147–1149 гг.
 - Г) 1189–1192 гг.
 - b. Тип вопроса: выбор одного из нескольких
 - c. Ответ: Б
 - d. Решение — не требуется
6. Вариант 3
 - a. Какой из этих годов не связан с событиями Реконксты?
 - А) 1066 г.
 - Б) 1094 г.
 - В) 1108 г.
 - Г) 1492 г.
 - b. Тип вопроса: выбор одного из нескольких
 - c. Ответ: А
 - d. Решение — не требуется

1. История
2. Задание 5. Знание деятелей отечественной истории
3. 3
4. Вариант 1
 - a. Какой из этих исторических деятелей никогда не бывал в Великом Новгороде?
 - А) Марфа Борецкая
 - Б) Антоний Печерский
 - В) Александр Невский
 - Г) Феофан Грек
 - b. Тип вопроса: выбор одного из нескольких
 - c. Ответ: Б
 - d. Решение — не требуется
5. Вариант 2
 - a. Какой из этих исторических деятелей никогда не бывал во Владимире-на-Клязьме?
 - А) Михаил Тверской
 - Б) Александр Невский



olympmo.ru



@olymp_mo



/olympmo



/olympmo



@olympmo

- В) Анна Ярославна
 - Г) Андрей Рублёв
 - b. Тип вопроса: выбор одного из нескольких
 - c. Ответ: В
 - d. Решение — не требуется
6. Вариант 3
- a. Какой из этих исторических деятелей никогда не бывал в Киеве?
 - А) Анна Ярославна
 - Б) Всеслав Брючиславич
 - В) Андрей Рублёв
 - Г) Антоний Печерский
 - b. Тип вопроса: выбор одного из нескольких
 - c. Ответ: В
 - d. Решение — не требуется

1. История
2. Задание 6. Знание деятелей зарубежной истории
3. 3
4. Вариант 1

- a. Какой из этих исторических деятелей не был казнён?
 - А) Жанна д'Арк
 - Б) Ян Гус
 - В) Апостол Пётр
 - Г) Ричард Львиное Сердце
- b. Тип вопроса: выбор одного из нескольких
- c. Ответ: Г
- d. Решение — не требуется

5. Вариант 2

- a. Какой из этих исторических деятелей погиб в бою?
 - А) Ричард Львиное Сердце
 - Б) Фридрих I Барбаросса
 - В) Аттила
 - Г) Саладин
- b. Тип вопроса: выбор одного из нескольких
- c. Ответ: А
- d. Решение — не требуется

6. Вариант 3

- a. Какой из этих исторических деятелей погиб в бою?
 - А) Чингисхан
 - Б) Алексей I Комнин
 - В) Карл Смелый
 - Г) Фридрих I Барбаросса
- b. Тип вопроса: выбор одного из нескольких
- c. Ответ: В
- d. Решение — не требуется

1. История
2. Задание 7. Знание хронологии событий отечественной истории
3. 3
4. Вариант 1

- a. Какая из перечисленных битв произошла раньше остальных?



olympmo.ru



@olymp_mo



/olympmo



/olympmo



@olympmo

- А) битва на реке Воже
 - Б) битва на реке Сити
 - В) битва на реке Калке
 - Г) битва на реке Шелони
- b. Тип вопроса: выбор одного из нескольких
 - c. Ответ: В
 - d. Решение — не требуется
5. Вариант 2
- a. Какая из перечисленных битв произошла позже остальных?
 - А) битва на реке Шелони
 - Б) битва на реке Пьяне
 - В) Грюнвальдская битва
 - Г) Куликовская битва
 - b. Тип вопроса: выбор одного из нескольких
 - c. Ответ: А
 - d. Решение — не требуется
6. Вариант 3
- a. Какая из перечисленных битв произошла позже остальных?
 - А) Грюнвальдская битва
 - Б) битва на реке Сити
 - В) битва на реке Альте
 - Г) Невская битва
 - b. Тип вопроса: выбор одного из нескольких
 - c. Ответ: А
 - d. Решение — не требуется
1. История
2. Задание 8. Знание хронологии событий зарубежной истории
3. 3
4. Вариант 1
- a. Какое из перечисленных событий произошло раньше остальных?
 - А) создание Арабского халифата
 - Б) захват Рима готами
 - В) путешествие Марко Поло в Китай
 - Г) объединение Кастилии и Арагона в королевство Испания
 - b. Тип вопроса: выбор одного из нескольких
 - c. Ответ: Б
 - d. Решение — не требуется
5. Вариант 2
- a. Какое из перечисленных событий произошло позже остальных?
 - А) путешествие Марко Поло в Китай
 - Б) битва при Креси
 - В) раздел Римской империи на Западную и Восточную
 - Г) захват и разграбление Рима вандалами
 - b. Тип вопроса: выбор одного из нескольких
 - c. Ответ: Б
 - d. Решение — не требуется
6. Вариант 3
- a. Какое из перечисленных событий произошло позже остальных?
 - А) Жакерия
 - Б) созыв первых Генеральных штатов во Франции



- В) битва при Пуатье
- Г) раздел Римской империи на Западную и Восточную
- b. Тип вопроса: выбор одного из нескольких
- c. Ответ: А
- d. Решение — не требуется

1. История
2. Задание 9. Соотнесение эпох и событий
3. 6
4. Вариант 1
 - a. Выберите из списка три события, относящихся к периоду политической раздробленности на Руси
 - А) восстание против ростовщиков в Киеве
 - Б) перенос Андреем Боголюбским столицы во Владимир
 - В) Ледовое побоище
 - Г) введение уроков и погостов
 - Д) объединение Галицкого и Волынского княжеств
 - Е) окончательный разгром печенегов под Киевом
 - b. Тип вопроса: выбор нескольких из нескольких
 - c. Ответ: БВД
 - d. Решение — не требуется
5. Вариант 2
 - a. Выберите из списка три события, относящихся к периоду политической раздробленности на Руси
 - А) Невская битва
 - Б) неудачный поход Игоря Святославича на половцев
 - В) первое летописное упоминание о Москве
 - Г) съезд князей в Любече
 - Д) убийство Бориса и Глеба
 - Е) восстание древлян
 - b. Тип вопроса: выбор нескольких из нескольких
 - c. Ответ: АБВ
 - d. Решение — не требуется
6. Вариант 3
 - a. Выберите из списка три события, относящихся к периоду политической раздробленности на Руси
 - А) возведение Софийского собора в Полоцке
 - Б) битва на реке Калке
 - В) убийство Андрея Боголюбского
 - Г) изгнание князя из Великого Новгорода
 - Д) издание «Правды Ярославичей»
 - Е) битва при Доростоле
 - b. Тип вопроса: выбор нескольких из нескольких
 - c. Ответ: БВГ
 - d. Решение — не требуется

1. История
2. Задание 10. Архитектурные памятники Древней Руси
3. 6
4. Вариант 1
 - a. Выберите из списка три архитектурных памятника Великого Новгорода



olympmo.ru



@olymp_mo



/olympmo



/olympmo



@olympmo

- А) Церковь Спаса на Ильине улице
 - Б) Церковь Покрова на Нерли
 - В) Десятинная церковь
 - Г) Церковь Спаса на Нередице
 - Д) Храм Покрова на Рву
 - Е) Георгиевский собор Юрьева монастыря
- b. Тип вопроса: выбор нескольких из нескольких
 - c. Ответ: АГЕ
 - d. Решение — не требуется
5. Вариант 2
- a. Выберите из списка три архитектурных памятника Владимира-на-Клязьме
 - А) Церковь Спаса на Нередице
 - Б) Церковь Феодора Стратилата на Ручью
 - В) Золотые ворота
 - Г) Дмитриевский собор
 - Д) Успенский собор
 - Е) Храм Покрова на Рву
 - b. Тип вопроса: выбор нескольких из нескольких
 - c. Ответ: ВГД
 - d. Решение — не требуется
6. Вариант 3
- a. Выберите из списка три архитектурных памятника Киева
 - А) Церковь Феодора Стратилата на Ручью
 - Б) Георгиевский собор Юрьева монастыря
 - В) Десятинная церковь
 - Г) Церковь Спаса на Нередице
 - Д) Церковь Спаса в Берестове
 - Е) Софийский собор
 - b. Тип вопроса: выбор нескольких из нескольких
 - c. Ответ: ВДЕ
 - d. Решение — не требуется

- 1. История
- 2. Задание 11. Восточнославянские племена
- 3. 6
- 4. Вариант 1

- a. Выберите из списка три восточнославянских племени, которые проживали на территории современной Белоруссии
 - А) уличи
 - Б) радимичи
 - В) дреговичи
 - Г) воляняне
 - Д) полочане
 - Е) словене ильменские
 - b. Тип вопроса: выбор нескольких из нескольких
 - c. Ответ: БВД
 - d. Решение — не требуется
5. Вариант 2
- a. Выберите из списка три восточнославянских племени, которые проживали на территории современной Украины
 - А) бужане



- Б) полочане
 - В) древляне
 - Г) кривичи
 - Д) вятичи
 - Е) белые хорваты
 - b. Тип вопроса: выбор нескольких из нескольких
 - c. Ответ: АВЕ
 - d. Решение — не требуется
6. Вариант 3
- a. Выберите из списка три восточнославянских племени, которые проживали на территории современной России
 - А) белые хорваты
 - Б) дреговичи
 - В) тиверцы
 - Г) вятичи
 - Д) словене ильменские
 - Е) кривичи
 - b. Тип вопроса: выбор нескольких из нескольких
 - c. Ответ: ГДЕ
 - d. Решение — не требуется
1. История
2. Задание 12. «У нас» и «у них»
3. 8
4. Вариант 1
- a. Соотнесите события отечественной и зарубежной истории, произошедшие в одном и том же веке.
Событие русской истории:
 - 1) восстание в Твери против Орды
 - 2) строительство Собора Святой Софии в Киеве
 - 3) Крещение Руси
 - 4) Ледовое побоище
 - 5) поход Игоря Святославича на половцев
 - 6) захват Киева князем ОлегомСобытие зарубежной истории:
 - А) Нормандское завоевание Англии
 - Б) Второй крестовый поход
 - В) образование Священной Римской империи
 - Г) Кревская уния Польши и Литвы
 - Д) распад государства франков
 - Е) принятие Великой хартии вольностей
 - b. Тип вопроса: сопоставление множеств
 - c. Ответ: 1Г 2А 3В 4Е 5Б 6Д
 - d. Решение — не требуется
5. Вариант 2
- a. Соотнесите события отечественной и зарубежной истории, произошедшие в одном и том же веке.
Первое событие:
 - 1) разорение Москвы Тохтамышем
 - 2) создание «Повести временных лет»
 - 3) битва при Доростоле



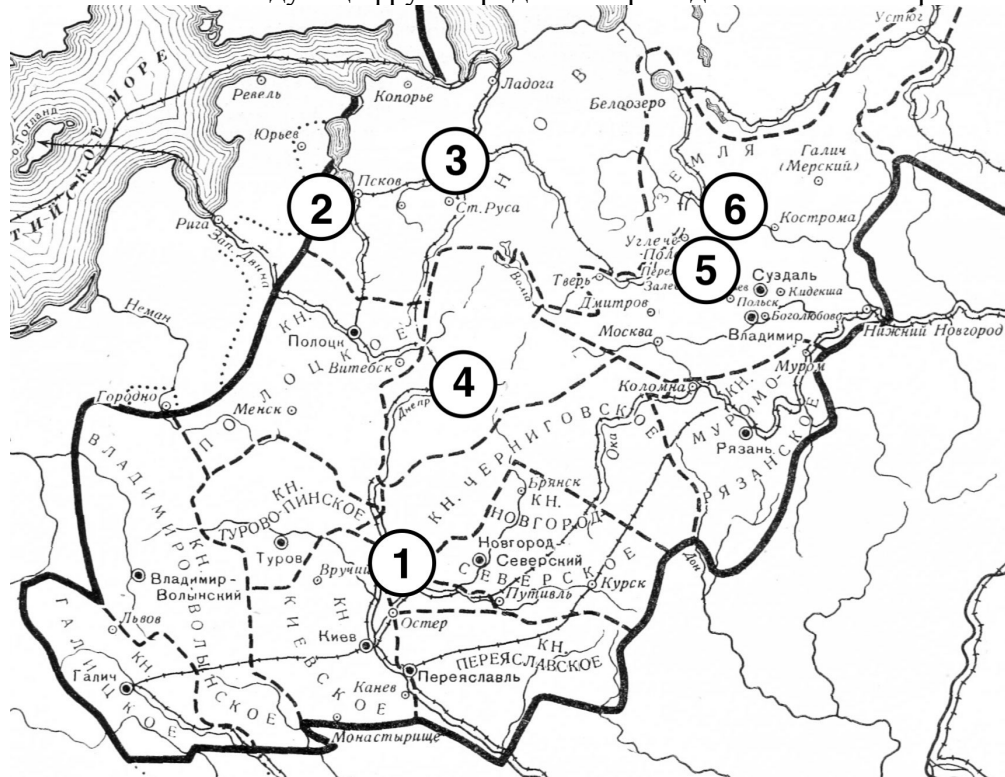
- 4) Невская битва
 - 5) призвание варягов
 - 6) съезд князей в Любече
- Событие зарубежной истории:
- А) раскол христианской церкви на католическую и православную
 - Б) Второй крестовый поход
 - В) образование Священной Римской империи
 - Г) начало Столетней войны
 - Д) распад государства франков
 - Е) принятие Великой хартии вольностей
- b. Тип вопроса: сопоставление множеств
 - c. Ответ: 1Г 2Б 3В 4Е 5Д 6А
 - d. Решение — не требуется

6. Вариант 3

- a. Соотнесите события отечественной и зарубежной истории, произошедшие в одном и том же веке.
Первое событие:
 - 1) убийство Бориса и Глеба
 - 2) битва на реке Калке
 - 3) поход Андрея Боголюбского на Киев
 - 4) убийство Аскольда и Дира
 - 5) строительство Десятинной церкви в Киеве
 - 6) походы Ольгерда на МосквуСобытие зарубежной истории:
 - А) Нормандское завоевание Англии
 - Б) Второй крестовый поход
 - В) образование Священной Римской империи
 - Г) начало Столетней войны
 - Д) распад государства франков
 - Е) образование Монгольской империи
- b. Тип вопроса: сопоставление множеств
- c. Ответ: 1А 2Е 3Б 4Д 5В 6Г
- d. Решение — не требуется



1. История
2. Задание 13. Города Руси
3. 12
4. Вариант 1
 - а. Определите, какие древнерусские города отмечены цифрами на карте, и соотнесите каждую цифру с городом из приведённого ниже перечня.

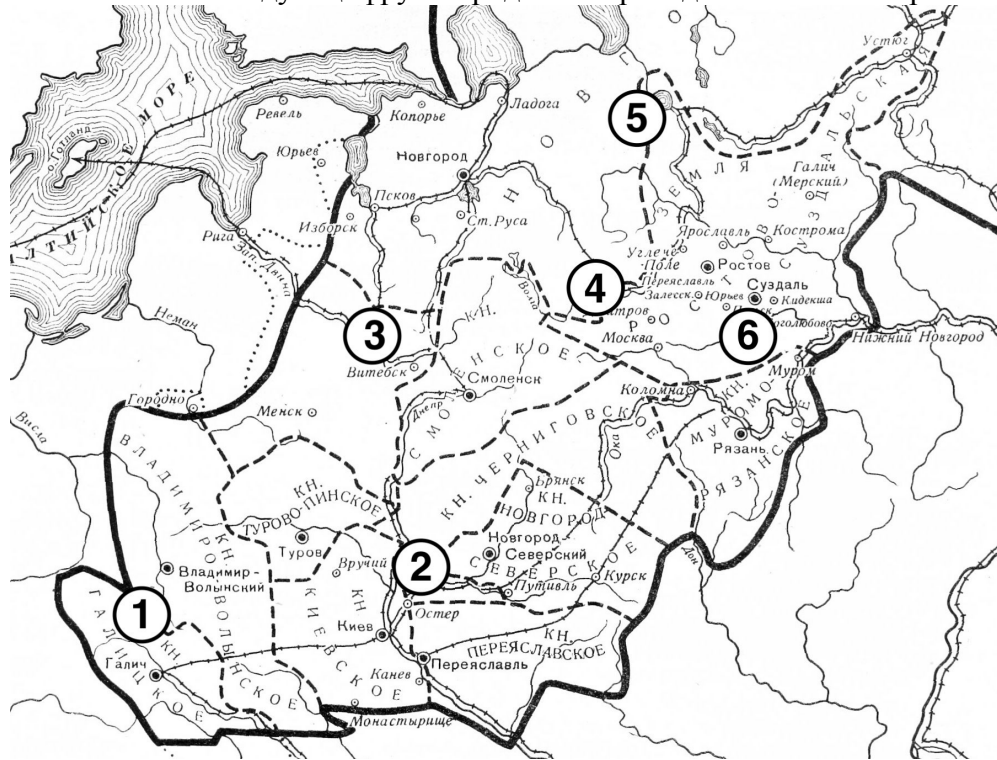


- A) Изборск
 - B) Чернигов
 - V) Ярославль
 - Г) Новгород
 - Д) Смоленск
 - Е) Ростов
- б. Тип вопроса: выбор ответа, сопоставление множеств
 - с. Ответ: 1Б 2А 3Г 4Д 5Е 6В
 - д. Решение — не требуется



5. Вариант 3

- а. Определите, какие древнерусские города отмечены цифрами на карте, и соотнесите каждую цифру с городом из приведённого ниже перечня.



- А) Полоцк
 Б) Чернигов
 В) Белоозеро
 Г) Тверь
 Д) Владимир
 Е) Львов

б. Тип вопроса: выбор ответа, сопоставление множеств

с. Ответ: 1Е 2Б 3А 4Г 5В 6Д

д. Решение — не требуется

1. История
2. Задание 14. Литературные памятники Древней Руси
3. 8
4. Вариант 1

- а. Соотнесите фрагменты древнерусских литературных памятников и их названия.

Фрагменты:

- 1) «Благоверная же княгиня Евпраксия стояла в то время в превысоком тереме своём и держала любимое чадо своё – князя Ивана Фёдоровича, и как услышала она эти смертоносные слова, исполненные горести, бросилась она из превысокого терема своего с сыном своим князем Иваном прямо на землю и разбилась до смерти»
- 2) «Много потрудившись богу, он оставил царство земное и стал монахом, ибо имел безмерное желание принять ангельский образ. Сподобил же его бог и большой чин принять – схиму. И так с миром богу дух свой предал месяца ноября в четырнадцатый день, на память святого апостола Филиппа»
- 3) «И стал великий князь Дмитрий Иванович со своим братом, с князем Владимиром Андреевичем, и с остальными своими воеводами на костях на



поле Куликовом, на речке Непрядве. Страшно и горестно, братья, было в то время смотреть: лежат трупы христианские, словно сенные стога, у Дона великого на берегу, а Дон-река три дня кровью текла»

4) «Земля гудит, реки мутно текут, пыль поля покрывает, стяги вещают: «Половцы идут!», – от Дона, и от моря, и со всех сторон обступили они русские полки. Дети бесовы кликом поля перегородили, а храбрые русичи перегородили червлёными щитами»

5) «Во время княжения князя великого Ивана начали приходиться сюда христиане, и понравилось им здесь жить. Начали по обе стороны места этого селиться, и построили селе, и засеяли поля. Начали они часто посещать монастырь, принося различные нужные вещи»

6) «Тогда призвал к себе окаянный треклятый Святополк сообщников злодеяния и зачинщиков всей неправды, отверз свои прескверные уста и вскричал щлобным голосом Пушьшиной дружине: «Раз вы обещали положить за Меня свои головы, то идите тайно, братья мои, и где встретите брата моего..., убейте его». И они обещали ему сделать это»

Литературные памятники:

А) «Повесть о разорении Рязани Батыем»

Б) «Задонщина»

В) Житие Александра Невского

Г) Житие Сергия Радонежского

Д) Сказание о Борисе и Глебе

Е) «Слово о полку Игореве»

b. Тип вопроса: сопоставление множеств

c. Ответ: 1А 2В 3Б 4Е 5Г 6Д

d. Решение — не требуется

5. Вариант 2

a. Соотнесите фрагменты древнерусских литературных памятников и их названия.

Фрагменты:

1) «Устанавливается в обители общежительство. И распределяет блаженный пастырь братию по службам: одного ставит келарем, а других в поварню для печения хлеба, ещё одного назначает немощным служить со всяческим прилежанием. Всё это чудесный тот человек хорошо устроил»

2) «И не остановился на этом убийстве окаянный Святополк, но в неистовстве своём стал готовиться на большее преступление. И, увидев осуществление заветного желания своего, не думал о злодейском своём убийстве и о тяжести греха, и нимало не раскаивался в содеянном»

3) «Был город..., и земля была..., и исчезло богатство её, и отошла слава её, и нельзя было увидеть в ней никаких благ её – только дым и пепел: и церкви все погорели, и великая церковь внутри изгорела и почернела. И не только этот город пленён был, но и иные многие. Не стало в городе ни пения, ни звона; вместо радости – плач напрестанный»

4) «Была же тогда суббота, и когда взошло солнце, сошлись противники. И была сеча жестокая, и стоял треск от ломающихся копий и звон от ударов мечей, и казалось, что двинулось замёрзшее озеро, и не было видно льда, ибо покрылось оно кровью»

5) «Быть грому великому, идти дождю стрелами с Дона великого! Тут копьям преломиться, тут саблям иступить о шеломах половецкие, на реке на Каяле, у Дона великого»

6) «И метнулся поганый Мамай от своей дружины серым волком и



прибежал к Кафе-городу. И молвили ему фряги: «Что же это ты, поганый Мамай, заришься на Русскую землю? Ведь побила теперь тебя орда Залеская»

Литературные памятники:

- А) «Повесть о разорении Рязани Батыем»
- Б) «Задонщина»
- В) Житие Александра Невского
- Г) Житие Сергия Радонежского
- Д) Сказание о Борисе и Глебе
- Е) «Слово о полку Игореве»

- b. Тип вопроса: сопоставление множеств
- c. Ответ: 1Г 2Д 3А 4В 5Е 6Б
- d. Решение — не требуется

6. Вариант 3

- a. Соотнесите фрагменты древнерусских литературных памятников и их названия.

Фрагменты:

- 1) «И на восходе солнца вступили в бой, и была сеча зла, трижды вступали в схватку и так бились целый день, и лишь к вечеру одолел Ярослав, а окаянный Святополк обратился в бегство. И обуяло его безумие, и так ослабели суставы его, что не мог сидеть на коне, и несли его на носилках»
- 2) «К славному городу Москве съехались все князья русские и говорили таково слово: «У Дона стоят татары поганые, Мамай-царь у реки Мечи, между Чуровым и Михайловым, хотят реку перейти и с жизнью своей расстаться нам во славу»
- 3) «С раннего утра и до вечера, с вечера до рассвета летят стрелы калёные, гремят сабли о шеломы, трещат копыя булатные в поле чужом среди земли Половецкой. Чёрная земля под копытами козьми посеяна, а кровью полита; бедами взошли они на Русской земле!»
- 4) «И многих горожан убили, а иных ранили, а иные от великих трудов изнемогли. А в шестой день спозаранку пошли поганые на город – одни с огнями, другие с пороками, а третьи с бесчисленными лестницами – и взяли град... месяца декабря в двадцать первый день»
- 5) «А был ими уже взят город Псков и наместники немецкие посажены. Он же вскоре изгнал их из Пскова и немцев перебил, а иных связал и город освободил от безбожных немцев, а землю их повоевал и пожёг и пленных взял бесчисленное множество, а других перебил»
- 6) «...Он без ленности братии как купленный раб служил: и дрова для всех колод, и толок зерно, и хлеб пёк, и еду варил, обувь и одежду шил, и воду в двух вёдрах на своих плечах в гору носил и каждому у кельи ставил»

Литературные памятники:

- А) «Повесть о разорении Рязани Батыем»
- Б) «Задонщина»
- В) Житие Александра Невского
- Г) Житие Сергия Радонежского
- Д) Сказание о Борисе и Глебе
- Е) «Слово о полку Игореве»

- b. Тип вопроса: сопоставление множеств
- c. Ответ: 1Д 2Б 3Е 4А 5В 6Г
- d. Решение — не требуется



1. История
2. Задание 15. Верно или неверно?
3. 6
4. Вариант 1
 - a. Выберите из перечня исторических фактов четыре верных и запишите буквы, которыми они обозначены, в поле ответа.
А) Первую налоговую реформу в отечественной истории провела княгиня Ольга;
Б) Владимир Мономах был самым младшим из сыновей Ярослава Мудрого;
В) По территории Северо-Восточной Руси не проходило никаких речных торговых путей;
Г) К борьбе с Новгородом в первой половине XIII века крестоносцев призывал сам Папа Римский;
Д) После перенесения резиденции митрополита Киевского в Москву главами русской церкви больше никогда не становились греки;
Е) Эпидемия чёрной смерти в XIV веке не достигла Московского княжества;
Ж) В битве с крестоносцами под Грюнвальдом принимали участие и русские отряды;
З) На момент постройки Московский Кремль был единственным белокаменным кремлём в Северо-Восточной Руси.
 - b. Тип вопроса: выбор нескольких из нескольких
 - c. Ответ: АГЖЗ
 - d. Решение — не требуется
5. Вариант 2
 - a. Выберите из перечня исторических фактов четыре верных и запишите буквы, которыми они обозначены, в поле ответа.
А) Прежде чем крестить Русь, князь Владимир пытался реформировать язычество;
Б) По территории Северо-Восточной Руси проходил Волжский торговый путь;
В) Иван Калита был самым младшим из сыновей Всеволода Большое Гнездо;
Г) В первой половине XIII века Папа Римский не призывал католиков к борьбе с нашествием монголов;
Д) Эпидемия чёрной смерти в XIV веке нанесла серьёзный ущерб Московскому княжеству;
Е) После перенесения резиденции митрополита Киевского в Москву главами русской церкви больше никогда не становились греки;
Ж) Русские отряды не принимали участия в битве с крестоносцами под Грюнвальдом;
З) Литовскому князю Ольгерду ни разу не удалось взять Москву, несмотря на несколько попыток.
 - b. Тип вопроса: выбор нескольких из нескольких
 - c. Ответ: АБДЗ
 - d. Решение — не требуется
6. Вариант 3
 - a. Выберите из перечня исторических фактов четыре верных и запишите буквы, которыми они обозначены, в поле ответа.
А) Одним из источников норм, прописанных в «Русской правде», были договоры между Русью и Византией;
Б) Северо-Восточная Русь торговала с Ганзейским союзом активнее, чем



olympmo.ru



@olymp_mo



/olympmo



/olympmo



@olympmo

Северо-Западная Русь;

В) Всеволод Большое Гнездо был прямым потомком Ярослава Мудрого;

Г) Из всех русских земель меньше всего от монгольского нашествия пострадала Галицко-Волынская Русь.

Д) Эпидемия чёрной смерти в XIV веке нанесла серьёзный ущерб Московскому княжеству;

Е) После перенесения резиденции митрополита Киевского в Москву главы русской церкви больше не назначались Константинополем;

Ж) Литовскому князю Ольгерду удалось взять Москву лишь с третьей попытки.

З) На момент постройки Московский Кремль был единственным белокаменным кремлём в Северо-Восточной Руси.

b. Тип вопроса: выбор нескольких из нескольких

c. Ответ: АВДЗ

d. Решение — не требуется

1. История

2. Задание 16. История глазами художника

3. 4

4. Вариант 1

a. Перед Вами работы русского художника Виктора Васнецова, посвящённые разным сюжетам русской истории. Соотнесите картины и годы событий, изображённых на них.

Фрагменты:

1.



olympmo.ru



@olymp_mo



/olympmo



/olympmo




@olympmo

2.



3.



4.



olympmo.ru



@olymp_mo



/olympmo



/olympmo



@olympmo

Годы:

А) 862 г.

Б) 912 г.

В) 1380 г.

Г) 1478 г.

в. Тип вопроса: сопоставление множеств

с. Ответ: 1Г 2Б 3В 4А

д. Решение — не требуется

5. Вариант 2

а. Перед Вами работы русского художника Клавдия Лебедева, посвящённые разным сюжетам русской истории. Соотнесите картины и годы событий, изображённых на них.

Фрагменты:

1.



olympmo.ru



@olymp_mo



/olympmo



/olympmo



@olympmo

2.



3.



olympmo.ru



[@olymp_mo](https://www.instagram.com/olymp_mo)



[/olympmo](https://www.facebook.com/olympmo)



[/olympmo](https://vk.com/olympmo)



[@olympmo](https://www.telegram.com/@olympmo)

4.



Годы:

А) 945 г.

Б) 971 г.

В) 988 г.

Г) 1478 г.

b. Тип вопроса: сопоставление множеств

c. Ответ: 1В 2А 3Г 4Б

d. Решение — не требуется

6. Вариант 3

a. Перед вами работы русского художника Алексея Кившенко, посвящённые разным сюжетам русской истории. Соотнесите картины и годы событий, изображённых на них.



olympmo.ru



@olymp_mo



/olympmo



/olympmo



@olympmo

Фрагменты:

1.



2.



olympmo.ru



[@olymp_mo](https://www.instagram.com/olymp_mo)



[/olympmo](https://www.facebook.com/olympmo)



[/olympmo](https://vk.com/olympmo)



[@olympmo](https://www.telegram.com/@olympmo)

3.



4.



Годы:

А) 862 г.

Б) 1016 г.

В) 1240 г.

Г) 1478 г.

b. Тип вопроса: сопоставление множеств

c. Ответ: 1А 2Г 3Б 4В

d. Решение — не требуется



olympmo.ru



@olymp_mo



/olympmo



/olympmo



@olympmo

1. История
2. Задание 17. События на картинах
3. 6
4. Вариант 1
 - a. Перед Вами два изображения одного и того же события русской истории. Выберите из списка три верных факта, относящихся к этому событию.



- A) событие произошло в 1223 году;
 - Б) событие связано с монгольским нашествием на Русь;
 - В) город на изображениях находился восточнее Москвы;
 - Г) участником показанного события был Александр Невский;
 - Д) событие завершилось победой русских войск;
 - Е) город на изображениях – Рязань.
- b. Тип вопроса: выбор нескольких из нескольких
 - c. Ответ: БВЕ
 - d. Решение — не требуется
5. Вариант 2
 - a. Перед Вами два изображения одного и того же события русской истории. Выберите из списка три верных факта, относящихся к этому событию.



- A) событие произошло в Константинополе;
- Б) событие состоялось после Крещения Руси;
- В) женщина, показанная на изображениях, – мать князя Игоря;
- Г) женщина, показанная на изображениях, в настоящее время почитается как святая;



olympmo.ru



@olymp_mo



/olympmo



/olympmo



@olympmo

- Д) событие произошло в XI веке;
 Е) на изображениях присутствует патриарх.

- b. Тип вопроса: выбор нескольких из нескольких
 c. Ответ: АГЕ
 d. Решение — не требуется

6. Вариант 3

- a. Перед Вами два изображения одного и того же события русской истории. Выберите из списка три верных факта, относящихся к этому событию.



- А) участником события был Олег Вещий;
 Б) событие произошло в 882 году;
 В) событие произошло в Киеве;
 Г) событие – эпизод борьбы между русскими князьями и половцами;
 Д) после этого события столица Руси была перенесена во Владимир;
 Е) участницей события была княгиня Ольга;

- b. Тип вопроса: выбор нескольких из нескольких
 c. Ответ: АБВ
 d. Решение — не требуется

1. История
 2. Задание 18. Работа с документом
 3. 6
 4. Вариант 1

- a. Перед Вами фрагмент русскоязычного перевода «Эймундовой саги» – скандинавского произведения, в котором упоминается Русь. Прочитайте его и выберите из нижеследующего списка четыре верных суждения о содержании фрагмента.

«Я узнал о кончине Конунга Вальдамара, на востоке, в Гардарике, и теперь это владение держат три его сына, мужи самые доблестные. Но он разделил владение свое между ними едва ли поровну, потому, что один из них имеет областей более, нежели два другие. Один называется Бурислейф, и получил самую большую часть отцовского наследства: он же и самый старший между ними; другому имя Ярислейф; третьему Вратилаф.



Бурислейф имеет Кенугард, Ярислейф — Гольмгард, а третий правит Палтеском и всею тою областью, которая лежит подле, но они теперь в несогласии за свои владения: не довольствуется своим добром тот, который держит самую большую и лучшую часть раздела, думая, что у него мало государства потому, что менее, нежели как было у отца, и от того считая себя ниже своих предков»

- А) «Гольмгард» из текста – это Ростов Великий;
- Б) «Вратилаф» из текста – это князь Владимир Святой;
- В) В тексте упоминается слово, которым варяги называли Русь;
- Г) У «конунга Вальдамара» были и другие сыновья, которых не упомянул автор саги;
- Д) В городе, который автор называет «Палтеск», есть Софийский собор.
- Е) В тексте идёт речь об особенностях лестничной системы престолонаследия;
- Ж) Города, который автор называет «Кенугард», в настоящее время не существует.

- b. Тип вопроса: выбор нескольких из нескольких
- c. Ответ: ВГДЕ
- d. Решение — не требуется

5. Вариант 2

- a. Перед Вами фрагмент русскоязычного перевода «Эймундовой саги» – скандинавского произведения, в котором упоминается Русь. Прочитайте его и выберите из нижеследующего списка четыре верных суждения о содержании фрагмента.

«Я узнал о кончине Конунга Вальдамара, на востоке, в Гардарике, и теперь это владение держат три его сына, мужи самые доблестные. Но он разделил владение свое между ними едва ли поровну, потому, что один из них имеет областей более, нежели два другие. Один называется Бурислейф, и получил самую большую часть отцовского наследства: он же и самый старший между ними; другому имя Ярислейф; третьему Вратилаф. Бурислейф имеет Кенугард, Ярислейф — Гольмгард, а третий правит Палтеском и всею тою областью, которая лежит подле, но они теперь в несогласии за свои владения: не довольствуется своим добром тот, который держит самую большую и лучшую часть раздела, думая, что у него мало государства потому, что менее, нежели как было у отца, и от того считая себя ниже своих предков»

- А) «Гольмгард» из текста – это Великий Новгород;
- Б) «Ярислейф» из текста – это Ярослав Мудрый;
- В) В тексте упоминается город Владимир-на-Клязьме;
- Г) Перечисленные в тексте сыновья «конунга Вальдамара» участвовали в съезде князей в Любече;
- Д) В городе, который автор называет «Кенугард», есть Золотые ворота.
- Е) В тексте идёт речь о событиях периода политической раздробленности на Руси.
- Ж) Город, который автор называет «Палтеск», существует до сих пор.

- b. Тип вопроса: выбор нескольких из нескольких
- c. Ответ: АБДЖ
- d. Решение — не требуется

6. Вариант 3

- a. Перед Вами фрагмент русскоязычного перевода «Эймундовой саги» – скандинавского произведения, в котором упоминается Русь. Прочитайте его



и выберите из нижеследующего списка четыре верных суждения о содержании фрагмента.

«Я узнал о кончине Конунга Вальдамара, на востоке, в Гардарике, и теперь это владение держат три его сына, мужи самые доблестные. Но он разделил владение свое между ними едва ли поровну, потому, что один из них имеет областей более, нежели два другие. Один называется Бурислейф, и получил самую большую часть отцовского наследства: он же и самый старший между ними; другому имя Ярислейф; третьему Вратилаф. Бурислейф имеет Кенугард, Ярислейф — Гольмгард, а третий правит Палтеском и всюю тою областью, которая лежит подле, но они теперь в несогласии за свои владения: не довольствуется своим добром тот, который держит самую большую и лучшую часть раздела, думая, что у него мало государства потому, что менее, нежели как было у отца, и от того считая себя ниже своих предков»

- А) «Палтеск» из текста – это Владимир-на-Клязьме;
- Б) «Ярислейф» из текста – это Ярополк Святославич;
- В) В тексте упоминается Византия;
- Г) В тексте описывается ситуация, имевшая место в XI веке;
- Д) В городе, который автор называет «Гольмгард», есть Софийский собор.
- Е) В тексте идёт речь об особенностях лестничной системы престолонаследия;
- Ж) Город, который автор называет «Кенугард», существует до сих пор.

b. Тип вопроса: выбор нескольких из нескольких

c. Ответ: ГДЕЖ

d. Решение — не требуется

1. История

2. Задание 19. Прозвища правителей

3. 6

4. Вариант 1

- a. Перед Вами перечень деятелей русской и зарубежной истории и список устоявшихся в исторической науке прозвищ этих деятелей. Соотнесите значения первого и второго столбцов.

Деятели:

1) первым королём франков был Пипин...

2) Великую хартию вольностей подписал английский король Иоанн...

3) одним из сыновей Ивана Калиты был Семён...

4) фундамент будущего колониального развития Португалии заложил король Генрих...

5) в росписи Успенского собора во Владимире участвовал иконописец Даниил...

6) одним из участников Феодалной войны в Московском государстве был Василий...

Прозвища:

А) Безземельный

Б) Гордый

В) Короткий

Г) Косой

Д) Мореплаватель

Е) Чёрный

b. Тип вопроса: сопоставление множеств

c. Ответ: 1В 2А 3Б 4Д 5Е 6Г

d. Решение — не требуется



5. Вариант 2

- a. Перед Вами перечень деятелей русской и зарубежной истории и список устоявшихся в исторической науке прозвищ этих деятелей. Соотнесите значения первого и второго столбцов.

Деятели:

- 1) из Феодалной войны в Московском государстве победителем вышел Василий II по прозвищу...
- 2) Нормандским вторжением в Англию руководил Вильгельм...
- 3) отцом Дмитрия Донского был князь Иван...
- 4) одним из самых влиятельных христианских богословов является Августин...
- 5) инициатором Первого крестового похода считается монах-аскет Пётр...
- 6) последним правителем Руси перед наступлением политической раздробленности считается сын Владимира Мономаха Мстислав...

Прозвища:

- A) Блаженный
- B) Великий
- B) Завоеватель
- Г) Красный
- Д) Пустынник
- E) Тёмный

- b. Тип вопроса: сопоставление множеств
c. Ответ: 1E 2B 3Г 4A 5Д 6Б
d. Решение — не требуется

6. Вариант 3

- a. Перед Вами перечень деятелей русской и зарубежной истории и список устоявшихся в исторической науке прозвищ этих деятелей. Соотнесите значения первого и второго столбцов.

Деятели:

- 1) Великую хартию вольностей подписал английский король Иоанн...
- 2) в росписи Успенского собора во Владимире участвовал иконописец Даниил...
- 3) инициатором Первого крестового похода считается монах-аскет Пётр...
- 4) одним из архиепископов Константинопольских был знаменитый святой Иоанн...
- 5) единственным полоцким князем, когда-либо занимавшим киевский великокняжеский престол, был Всеслав...
- 6) одним из сыновей Ивана Калиты был Семён...

Прозвища:

- A) Безземельный
- B) Гордый
- B) Златоуст
- Г) Пустынник
- Д) Чародей
- E) Чёрный

- b. Тип вопроса: сопоставление множеств
c. Ответ: 1A 2E 3Г 4B 5Д 6Б
d. Решение — не требуется



6) Максимальный балл – 100.

Таблица (для удобства ориентации в комплекте):

1.	3	11.	6
2.	3	12.	8
3.	3	13.	12
4.	3	14.	8
5.	3	15.	6
6.	3	16.	4
7.	3	17.	6
8.	3	18.	8
9.	6	19.	6
10.	6		100

КРИТЕРИИ ОЦЕНКИ ЗАДАНИЙ ДЛЯ 7 КЛАССА:

1. 3 балла за верный ответ, 0 баллов за неверный.
2. 3 балла за верный ответ, 0 баллов за неверный.
3. 3 балла за верный ответ, 0 баллов за неверный.
4. 3 балла за верный ответ, 0 баллов за неверный.
5. 3 балла за верный ответ, 0 баллов за неверный.
6. 3 балла за верный ответ, 0 баллов за неверный.
7. 3 балла за верный ответ, 0 баллов за неверный.
8. 3 балла за верный ответ, 0 баллов за неверный.
9. 2 балла за каждый верный ответ.
10. 2 балла за каждый верный ответ.
11. 2 балла за каждый верный ответ.
12. 1 балл за 1 верное соотношение, 2 балла – за 2, 4 балла – за 3, 5 баллов – за 4, 6 баллов – за 5, 8 баллов – за 6.
13. 2 балла за каждое верное соотношение.
14. 1 балл за 1 верное соотношение, 2 балла – за 2, 4 балла – за 3, 5 баллов – за 4, 6 баллов – за 5, 8 баллов – за 6.
15. 1 балл за 1 верный ответ, 3 балла за 2 верных ответа, 4 балла за 3 верных ответа, 6 баллов за 4 верных ответа.
16. 4 балла за полностью верный ответ, 2 балла при 1 ошибке, 1 балл при двух ошибках, 0 баллов при трёх ошибках.
17. 2 балла за каждый верный ответ.
18. 2 балла за каждый верный ответ.
19. 1 балл за каждое верное соотношение.

