

XXIII Всероссийская олимпиада по технологии

Школьный этап.

Уважаемый участник!

ПЕРЕД ВЫПОЛНЕНИЕМ ЗАДАНИЯ ВНИМАТЕЛЬНО ПРОЧТИТЕ ИНСТРУКЦИЮ



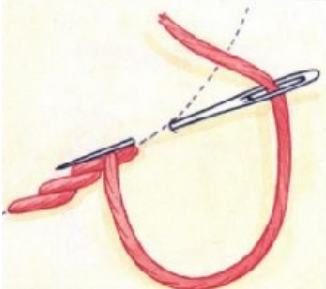
На выполнение задания отводится 1 час (60 минут). Задание состоит из 15 тестовых вопросов, в которых предложены тесты с одним или несколькими правильными ответами. Также предложены теоретические вопросы, на которые следует дать исчерпывающий ответ. Задача участника внимательно ознакомиться с предложенными заданиями и выполнить их в строгом соответствии с формулировкой.

**Задания теоретического конкурса по номинации
«Культура дома, дизайн и технологии»
6 класс**

1. Как называется машинный шов для настрачивания накладных карманов на основную деталь: (отметьте знаком + правильный ответ)

- а) вподгибку с закрытым срезом;
- б) стачной вразутюжку;
- в) накладной с закрытым срезом;
- г) расстрочной.

2. Установите соответствие между названием шва и его изображением:
(установите соответствие)

№ п/п	Схема выполнения шва	Обозначение	Название шва
1.		а)	Стебельчатый шов
2.		б)	Шов назад иголку
3.		в)	Петельный шов

1 - __; 2 - __; 3 - __.

3. Качественная питьевая вода имеет большое значение для поддержания жизнедеятельности домашних животных. Какой способ целесообразно применять для обеззараживания водопроводной воды для домашних животных:

(отметьте знаком + правильный ответ)

- а) кипячение;
- б) фильтрование;
- в) хлорирование;
- г) замораживание.

4. Как называется узкая полоса по краю ткани:

(отметьте знаком + правильный ответ)

- а) основа;
- б) долевая;


- в) уток;
- г) кромка.

5. В машинной игле ушко находится:
(отметьте знаком + правильный ответ)

- а) рядом с острием;
- б) в середине иглы;
- в) там же, где у швейной иглы;
- г) на колбе.

6. Для сервировки стола необходимы различные принадлежности. На рисунке представлены различные принадлежности для сервировки стола на завтрак. Отметьте соответствие указанной нумерации на рисунке правильным принадлежностям для сервировки стола:

(установите соответствие)



- а) столовые приборы _____
- б) салфетка _____
- в) пирожковая тарелка _____
- г) чашка с блюдцем _____
- д) чайная ложка _____
- е) закусочная тарелка _____

7. Тепловая кулинарная обработка овощей заключается в их нагреве и доведении до заданной степени кулинарной готовности. При осуществлении варки овощей выполняется:

(отметьте знаком + правильные ответы)

- а) нагревание в жире;
- б) нагревание в воде;
- в) быстрое ошпаривание;
- г) нагревание в бульоне.

8. Стачивание – это:

(отметьте знаком + правильный ответ)

- а) соединение деталей, примерно равных по величине, строчками постоянного назначения;
- б) прокладывание строчки для закрепления подогнутого края изделия;
- в) соединение мелких деталей с крупными строчками постоянного назначения;
- г) соединение двух деталей по изогнутым (выпуклым или вогнутым) линиям.

9. Какие овощи, входят в группу корнеплодов:

(отметьте знаком + правильные ответы)

- а) огурцы;
- б) редис;
- в) картофель;
- г) свекла;
- д) морковь;
- е) баклажаны.

10. Какие волокна из перечисленных являются натуральными волокнами растительного происхождения:

(отметьте знаком + правильные ответы)

- а) шерстяные;
- б) хлопчатобумажные;
- в) льняные;
- г) шелковые;
- д) вискозные.

11. Название мерки, измеряемой по самому узкому месту туловища:

(отметьте знаком + правильный ответ)

- а) Сб;
- б) Ди;
- в) Ст;
- г) Шг.

12. Какая техника подразумевает под собой соединение небольших по размеру разноцветных кусочков ткани путем сшивания их в одно целое:

(впишите правильный ответ)

13. Из какого злака готовилось блюдо, о котором идет речь в произведении А. С. Пушкина «Сказка о попе и о работнике его Балде»:

Поди-ка сюда,
Верный мой работник Балда.
Слушай: платить обязались черти
Мне оброк по самой моей смерти;
Лучшего б не надобно дохода,
Да есть на них недоимки за три года.
Как наешься ты своей полбы,
Собери-ка с чертей оброк мне полный».

(отметьте знаком + правильный ответ)

- а) рис;
- б) овес;
- в) рожь;
- г) пшеница.

14. Человек получает информацию из внешнего мира через 5 сенсорных каналов. Визуальную информацию человек получает:

(отметьте знаком + правильный ответ)

- а) при просмотре видеофильма;
- б) при употреблении пищи;
- в) при прослушивании аудиозаписи;
- г) при рукопожатии.

15. Выполните творческое задание:

(отметьте знаком + правильный ответ)


Вам предстоит встретить гостей и угощать их за праздничным столом, исполняя роль обслуживающего персонала. Для этого вам необходимо изготовить униформу, состоящую из оригинального фартука. Фартук должен быть изготовлен из однотонной хлопчатобумажной ткани и иметь декоративную отделку. Подберите соответствующие материалы (ткань для изготовления фартука), а также варианты декоративной отделки, которые возможно использовать для изготовления фартука.

1. Подберите варианты тканей и варианты декоративной отделки


а) Бязь однотонная



б) Батист



в) Фланель



г) Бязь с мелким рисунком



д) Гильоширование



е) Аппликация



ж) Вышивка

з) Декоративная стежка

